

أجب عن الأسئلة الآتية:

١- اختر أحد السؤالين (أ) أو (ب) ثم:

اختر الإجابة الصحيحة:

أ- لا يصنف البترول من المعادن لأنه

(أ) عضوي ومتبلر.

(ب) سائل وعضوي.

(ج) غير عضوي وسائل.

(د) غير متبلر وغير عضوي.

ب- يشترك معدنا الجالينا والذهب في

(أ) بريق لؤلؤي ومخدش أصفر.

(ب) بريق فلزي ومخدش أصفر.

(ج) بريق فلزي ووزن نوعي ثقيل.

(د) انفصام قاعدي وصلادة مرتفعة.

٢- اختر أحد السؤالين (أ) أو (ب) ثم:

علل:

أ- يتميز الجابرو بلون غامق أما الجرانيت بلون فاتح.

ب- وجود صخور رخام على حواف لاكلويث اخترق صخر حجر جيرى.

أ- يتميز الجابرو بلون غامق لزيادة نسبة الحديد والماغنسيوم والكالسيوم أما الجرانيت فيتميز بلون فاتح لزيادة نسبة الكوارتز ٢٥٪ والفلسبارات الغنية بالصوديوم والبوتاسيوم

ب- نتيجة تحول الحجر الجيري عند ملاسة المجما أثناء تكون اللاكلويث بالحرارة إلى

الرخام

Mr.Moussa AlSayed

٣- اختر أحد السؤالين (أ) أو (ب) ثم:

اكتب المصطلح العلمي:

أ- تركيب تنحني فيه طبقات الأرض بحيث تتواجد أقدم الطبقات في مركز الانحناء.

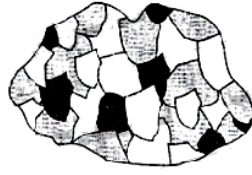
ب- اشتراك فالقين عاديين متجاورين في كتلة صخور الحائط العلوي.

أ- الطية المحدبة

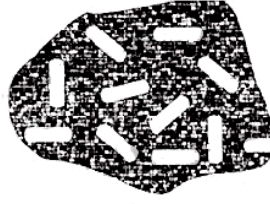
ب- الفالق الخسفي (الخدقي)

Mr.Moussa AlSayed

أمامك صخران ناريان قارن بينهما من حيث:



(ب)



(أ)

٤- نوع النسيج.

٤- النسيج في الصخر (أ) بورفيرى
النسيج في الصخر (ب) نسيج خشن

٥- مكان التبلر.

٥- يتبلور الصخر (أ) عند تداخل الصهير في الصخور المحيطة قبل الوصول لسطح الأرض
يتبلور (ب) في باطن الأرض أو جوفها بعيداً عن السطح

٦- أعط مثالا لكل منهما.

٥- من أمثلة الصخر (أ) الدوليرايت - الميكروجرانيت - الجرانيت
من أمثلة الصخر (ب) البريديوتيت - الجابرو - الديورايت - الجرانيت

Mr.Moussa AlSayed

اشرح باختصار ما يحدث:

٧- عند تعرض تتابع صخري صلب القمة رخو القاعدة للفعل الجيولوجي للرياح
وآخر مشابه للفعل الجيولوجي للماء الجاري.

٧- عند مرور الرياح المحملة بالرمال على تتابع صخري صلب القمة رخو القاعدة فتتآكل
الطبقات الرخوة تبقى الصخور الصلبة بارزة وقد تسقط بفعل الجاذبية كما في حالة [المصاطب]

- عند مرور المياه الجارية على تتابع صخري صلب القمة رخو القاعدة فتتآكل الطبقة الرخوة
فتصبح الطبقة الصلبة مرتفعة وشديدة الانحدار مما يعطى مظهراً طبيعياً لمساقط المياه

٨- نتيجة القطع الجائر للأشجار.

- الآثار السلبية المترتبة على القطع الجائر لأشجار الغابات :
- ١- نقص المواد الأولية اللازمة لصناعة الأخشاب والألياف الصناعية والورق
 - ٢- تشريد الحيوانات التي تستوطن الغابات مما قد يؤدي إلى انقراضها
 - ٣- تدهور التربة والنبات الطبيعي لتعرضهم لعوامل الجفاف
 - ٤- تعرض المناطق المحيطة بالغابات المستنزفة لأخطار الرياح والسيول
 - ٥- ارتفاع درجة الحرارة نتيجة لزيادة ثاني أكسيد الكربون
 - ٦- القضاء على النظام الإيكولوجي (الغابة)

Mr.Moussa AlSayed

٩- نتيجة الرعي الجائر.

- تأثير الرعي الجائر
- ١- زوال نباتات صالحة للرعي وبقاء نباتات أخرى تجد الفرصة أمامها للنمو والانتشار
 - ٢- تدهور النبات الطبيعي الذي يصاحبه تدهور التربة والمناخ المحلي
 - ٣- ظهور عوامل التعرية وتعرض التربة للانجراف الشديد بفعل مياه الأمطار والرياح
 - ٤- تصبح التربة أرض قاحلة عاجزة عن امتصاص مياه الأمطار (خاصة على المنحدرات)
 - ٥- انتشار ظاهرة الزحف الصحراوي كما حدث في منطقة الساحل الشمالي في عصر الرومان

١٠- اختر أحد السؤالين (أ) أو (ب) وأجب عليه:

اكتب المصطلح العلمي:

أ- تفتت الصخر الصلب المتماسك بفعل عوامل سطحية غير كيميائية أو بيولوجية.

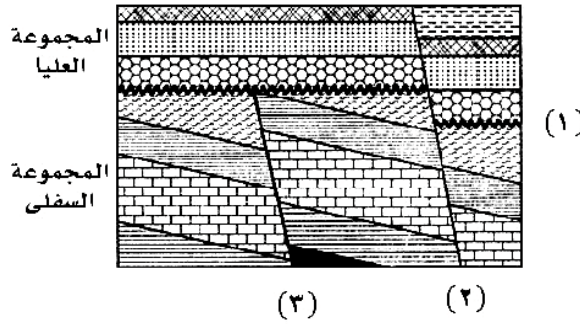
ب- قوى تتسبب في تكوين الفالق العادي.

أ- التجوية الميكانيكية

ب- قوى الشد

Mr.Moussa AlSayed

افحص الشكل التالي جيداً، ثم أجب عما يأتي:



١١- تعرّف على التركيب رقم (١) في الرسم وعلل لاختيارك.

التركيب رقم (١) هو سطح عدم توافق زاوى لوجود طبقات مائلة قديمة يعلوها طبقات أفقية كما يوجد طبقة من الكونجلوميرات فوق سطح عدم التوافق مباشرة

١٢- تعرّف على التركيب رقم (٢) في الرسم وعلل لاختيارك.

التركيب رقم (٢) فالق عادي لأن صخور الحائط العلوى تحركت لأسفل بالنسبة لصخور الحائط السفلى

١٣- تعرّف على التركيب رقم (٣) في الرسم وعلل لاختيارك.

التركيب رقم (٣) فالق معكوس لأن صخور الحائط العلوى تحركت لأعلى بالنسبة لصخور الحائط السفلى

استنتج:

١٤ - اسم الصخر إذا علمت أن قطر الحبيبات أكبر من ٢ مم.

الكونجلوميرات

١٥ - اسم الشكل الناري الذي يتجمد موازياً للطبقات.

الجدد

١٦ - اختر أحد السؤالين (أ) أو (ب) ثم:

قارن بين : أ- الريوليت والجابرو من حيث التركيب المعدني والتصنيف.

ب- المحتوى الحفري لعصري الكامبري والجوراسي.

الجابرو	الريوليت	
<ul style="list-style-type: none"> الأولفين البيروكسين فلسبار البلاجيوكليز الكلسي بعض الأمفيبول 	<ul style="list-style-type: none"> الفسبار البوتاسي والصودي الميك الكوارتز بنسبة ٢٥٪ الأمفيبول 	التركيب المعدني
صخر ناري قاعدي جوفي	صخر ناري حامضي بركاني	التصنيف

Mr.Moussa AlSayed

المحتوى الحفري للعصر الجوراسي	المحتوى الحفري للعصر الكامبري
<ul style="list-style-type: none"> سادت زواحف عملاقة ظهرت أول الطيور انتشرت ثدييات صغيرة الحجم 	<ul style="list-style-type: none"> سيادة ثلاثية الفصوص بداية الكائنات الهيكلية

اشرح:

١٧- تأثيرات وفوائد البراكين.

- تأثيرات وفوائد البراكين.
- ١- تضيف إلى سطح القشرة الأرضية ملايين من الأطنان سنوياً من الصخور البركانية التي :
(أ) تكون غطاءات كبيرة الامتداد
(ب) تظهر على شكل جبال أو هضاب بركانية
 - ٢- ظهور جزر بركانية جديدة: عند حدوث ثورات بركانية تحت سطح الماء في البحار والمحيطات .
 - ٣- تكوين تربة خصبة جداً: نتيجة إضافة الرماد البركاني إلى التربة .
 - ٤- تكوين بحيرات مستديرة: من تجمع مياه الأمطار في فوهات البراكين الخاملة
 - ٥- تكوين صخور متحولة عند ملاسة الصهير للصخور المحيطة بقصبة البركان

Mr.Moussa AlSayed ١٨- الضوء ونشاط الحيوان:

- الضوء ونشاط الحيوانات :
- ١- ضوء الشمس : له أثر ملموس في نشاط الحيوانات يمكن تقسيم هذا النشاط إلى ٤ فترات ضوئية :
فترة الفجر : فيها يقل نشاط الحيوانات الليلية بصورة تدريجية ثم تعود إلى ملاجئها
فترة النهار : تنشط فيها الحيوانات النهارية
فترة الغسق : يقل فيها نشاط الحيوانات النهارية بصورة تدريجية ثم تعود إلى ملاجئها
فترة الليل : تنشط فيها الحيوانات الليلية
 - ٢- ضوء القمر : له أثر ملموس على أحياء الشواطئ البحرية التي تتعرض للمد والجزر فبعض الأحياء التي تنشط عندما تغمرها مياه المد وتبقى غير نشطة عند تعرضها للجزر

١٩- اختر أحد السؤالين (أ) أو (ب) ثم:

اكتب المصطلح العلمي له:

- أ- صخر ينتج عن تماسك الأصداف الكلسية للأحياء البحرية.
- ب- صخر حجم حبيباته مهم ينتج من الترسيب بعد التعرية الميكانيكية لصخور غنية بالكوارتز.

أ- الحجر الجيري

ب- الحجر الرملي

٢٠- اختر أحد السؤالين (أ) أو (ب) :

علل له :

- أ- يصعب التعرف على عدم التوافق الإنقطاعي في بعض التتابعات الصخرية.
ب- وجود أسطح مصقولة بها تحزرات على أحد جوانب كتلة صخرية مع وجود خطوط موازية.

أ- فيه يكون عدم التوافق بين مجموعتين من الصخور الرسوبية في وضع أفقى تقريباً
❑ ويمكن للجيولوجي تحديد سطح عدم التوافق من خلال المحتوى الحفرى لها

ب- بسبب احتكاك الصخور عند حدوث الفوالق أثناء حركة هذه الصخور على مستوى جانبي الفالق (الصدع) فيحدث هذا الاحتكاك ارتفاعاً في درجات الحرارة

٢١- اختر أحد السؤالين (أ) أو (ب) :

ماذا يحدث عند :

- أ- تعرض الجرانيت لدرجات عالية من الحرارة والضغط؟
ب- تكرار تجمد الماء وانصهاره في شقوق الصخور؟

أ- تعرض الجرانيت للحرارة والضغط يتحول إلى النيس وتكون بلورات معادنه مرتبة في صفوف متوازية ومتقطعة

ب- يتكون المنحدر الركامي حيث أن تكرار تجمد المياه في شقوق وفواصل الصخور وانصهار الجليد ليلاً ونهاراً أو في مواسم متبادلة يزيد من حجم الماء عند تجمده فيضغط على جوانب الشقوق والفواصل ويوسعها فتتفصل قطعاً من الصخر عن الصخر الأم فيصبح مفككاً ثم يسقط ذلك الفتات عند قدم الجبل أو الهضبة مكوناً [منحدر ركامياً]

اختر الإجابة الصحيحة :

٢٢- من التراكيب الأولية

- ① الطيات والفواصل.
② الفواصل وعلامات النيم.
③ الفوالق والتشققات الطينية.
● التدرج الطبقي وعلامات النيم.

٢٣- من الصخور النارية القاعدية.....

أ) الشيست الميكاني.

ب) البازلت.

ج) الكوارتزيت.

د) الأنديزيت.

٢٤- تشترك فصيلة المكعبي والمعين في القائم في.....

أ) تعامد المحاور البلورية.

ب) تساوي أطوال المحاور البلورية.

ج) عدم تساوي المحاور البلورية في الطول.

د) عدم تساوي قيم الزوايا المحورية.

Mr.Moussa AlSayed

اشرح باختصار:

٢٥- ما يحدث عند تعرض قشرة محيطية في منطقة ما لقوى الشد وفي منطقة

أخرى لقوى الضغط بفعل نشاط تيارات الحمل في الطبقة العليا للوشاح.

■ تعرض قشرة محيطية لقوى شد تحدث الحركة التباعية للألواح وفيها يتحرك لوح مبتعداً عن لوح آخر كما في حيد وسط المحيط حيث يتكون لوح محيطي جديد

■ تعرض قشرة محيطية لقوى ضغط تحدث حركة تقاربية للوحين المحيطيين حيث يندس أحدهما تحت الآخر فيتكون أغوار بحرية عميقة و ينشأ قوس جزر بركانية

٢٦- جهود الدولة لمكافحة تلوث نهر النيل.

جهود الدولة لمكافحة تلوث نهر النيل

- ١- وضع قوانين لحماية النيل من التلوث
- ٢- توعية جميع أفراد الشعب لأهمية المحافظة على نهر النيل
- ٣- تحديد نسب الملوثات المسموح صرفها على نهر النيل
- ٤- اختيار المبيدات والأسمدة التي لا تلوث المجارى المائية
- ٥- إلزام المصانع بمعالجة مياه الصرف الصناعى قبل صرفها فى النيل
- ٦- التفتيش المستمر على المجارى المائية وإزالة أسباب تلوثها

٢٧- طرق علاج استنزاف المعادن. Mr.Moussa AlSayed

طرق علاج استنزاف المعادن

- ١- استخدام اللدائن (البلاستيك) فى صناعة المواسير بدل المعادن الغير متجددة
- ٢- استخدام الطمى والفلسبار فى صناعة الفخار والسيراميك (أوانى الطهى) بدل المعادن الغير متجددة
- ٣- إعادة استخدام بطاريات السيارات بعد معالجتها
- ٤- إعادة معالجة وتشكيل المصنوعات البلاستيك والمصنوعات الزجاجية واستخدامها
- ٥- إعادة صهر وتشكيل استخدام المعادن الخردة الغير صالحة للاستعمال

٢٨- اختر أحد السؤالين (أ) أو (ب) ثم:

اشرح باختصار ماذا ينتج عن:

أ- اصطدام الرياح المحملة بالرمال بنتوء أو عائق.


ب- تعرض قطعة حجر لفعل التعرية بالرياح المحملة بالرمال.

أ- عندما تصطدم الرياح المحملة بالرمال بنتوء أو عائق أو مرتفع يقلل من سرعتها أو يوقفها فإنها تلقي بما تحمله من رمال وأتربة لتترسب على هيئة كثبان رملية أو تموجات رملية

ب- تؤثر الرياح المحملة بالرمال على شكل قطعة الحجر فيتكون الحصى مثلث الأضلاع أو هرمي الشكل ويكون وجه الحصى المقابل للرياح عادة مصقولاً

Mr.Moussa AlSayed

افحص الشكل الذي أمامك جيداً، ثم أجب عن الأسئلة الآتية:



٢٩- اختر اسم للجزء المشار إليه بالرقم (١) وصِف نسيج صخوره المتوقع.

ب- اسم الجزء المشار إليه برقم (١) هو اللاكوليث وهو من أشكال الصخور النارية تحت السطحية الجوفية ذات النسيج الخشن لتكونه في باطن الأرض أو جوفها بعيداً عن السطح

٣٠- اذكر اسماً للجزء المشار إليه بالرقم (٢) وصِف نسيج صخوره المتوقع.

ب- اسم الجزء المشار إليه برقم (٢) هو الجدد الوازية وهي من أشكال الصخور النارية المتداخلة ذات النسيج البورفيرى

٣١- تعرف على الجزء المشار إليه بالرقم (٣) وصف نسيج صخوره المتوقع.

ب- اسم الجزء المشار إليه برقم (جسم أو مخروط البركان) هو عبارة عن طفوح بركانية وهي من أشكال الصخور النارية السطحية ذات النسيج الزجاجي أو دقيق التبلور

Mr.Moussa AlSayed

استبدل العبارات الآتية بالمصطلح العلمي المناسب:

٣٢- «اتجاهات مغناطيسية محفوظة في الصخور مختلفة عن الاتجاهات الحالية».

المغناطيسية القديمة

٣٣- «ما صنعه الإنسان بعلمه وتقدمه كالمصانع والطرق وشبكات الري والصرف».

البيئة التكنولوجية

Mr.Moussa AlSayed

٣٤- اختر فقط سؤالين وأجب عنهما؛

اختر الإجابة الصحيحة؛

أ- من التراكيب الثانوية.....

الطيات والفواصل. ☒

الفواصل وعلامات النيم. ☐

الفوالق والتشققات الطينية. ☐

التشققات الطينية وعلامات النيم. ☐

ب- انتشرت النباتات الزهرية والأسماك العظمية الحديثة في.....

العصر الطباشيري. ☒

الحقب الأركي. ☐

دهر ما قبل الكامبري. ☐

عهد الأوليجوسين. ☐

ج- من أقدم الكائنات على الأرض.....

الزواحف. ☐

البكتيريا اللاهوائية. ☒

الأسماك العظمية. ☐

الأشجار المخروطية. ☐

د- طبقة الأسينوسفير توجد في.....

اللب الخارجي. ☐

القشرة المحيطية. ☐

الوشاح العلوي. ☒

اللب الداخلي للأرض. ☐

اشرح باختصار:

٣٥- ما الفرق والتشابه في الصفات بين الكوارتز والكالسيت.

التشابه : كلاهما بريقه لافلزي زجاجي
الاختلاف

الكوارتز	الكالسيت
تركيبه الكيميائي ثاني أكسيد السليكون / من مجموعة معادن السليكات/ صلابته ٧ / عديم الانقسام / مكسره محاري / مخدشه أبيض / بريقه لافلزي زجاجي / متعدد الألوان	تركيبه الكيميائي كربونات كالسيوم / من مجموعة معادن الكربونات / صلابته ٣ / انقسامه معيني الأوجه في أكثر من اتجاه / بريقه لافلزي زجاجي / يتكون منه صخر الحجر الجيري وصخر الرخام المتحول عنه

Mr.Moussa AlSayed

٣٦- الهائمات البحرية.

- ١- الهائمات البحرية أو العوالق (البلانكتون):
 ◼ هي كائنات نباتية أو حيوانية دقيقة الحجم (مجهريه) تنتشر في الطبقات السطحية للنظام البحري وعلى امتداد المنطقة المضئية من عمود الماء حيث تحملها الأمواج بلا مقاومة لضالة أجسامها وتنقسم إلى مجموعتين :
 أ- الهائمات النباتية (الحلقة الأولى) :
 وهي مجموعة كبيرة تحوي مادة الكلوروفيل وتمتص الطاقة الضوئية النافذة لبناء المواد الغذائية وتعتبر بذلك كائنات منتجة للغذاء وتمثل حجر الأساس في تحضير الغذاء لباقي الأحياء البحرية
 ب- الهائمات الحيوانية (الحلقة الثانية):
 هي مجموعة كبيرة من [الأوليات / الديدان / القشريات دقيقة / اليرقات] تتغذي بالهائمات النباتية وتوجد بالقرب منها في المياه السطحية

٣٧- اختر أحد السؤالين (أ) أو (ب)، ثم:

اختر الإجابة الصحيحة:

أ- الاستهلاك المتزايد للموارد غير المتجددة يسمى.....

استنزاف الموارد. ☒

ثورة صناعية. ☐

توازن بيئي. ☐

التخلص من النفايات الصناعية. ☐

Mr.Moussa AlSayed

ب- كائنات دقيقة تتخذ من أجسام النباتات والحيوانات الميتة غذاءً لها.....

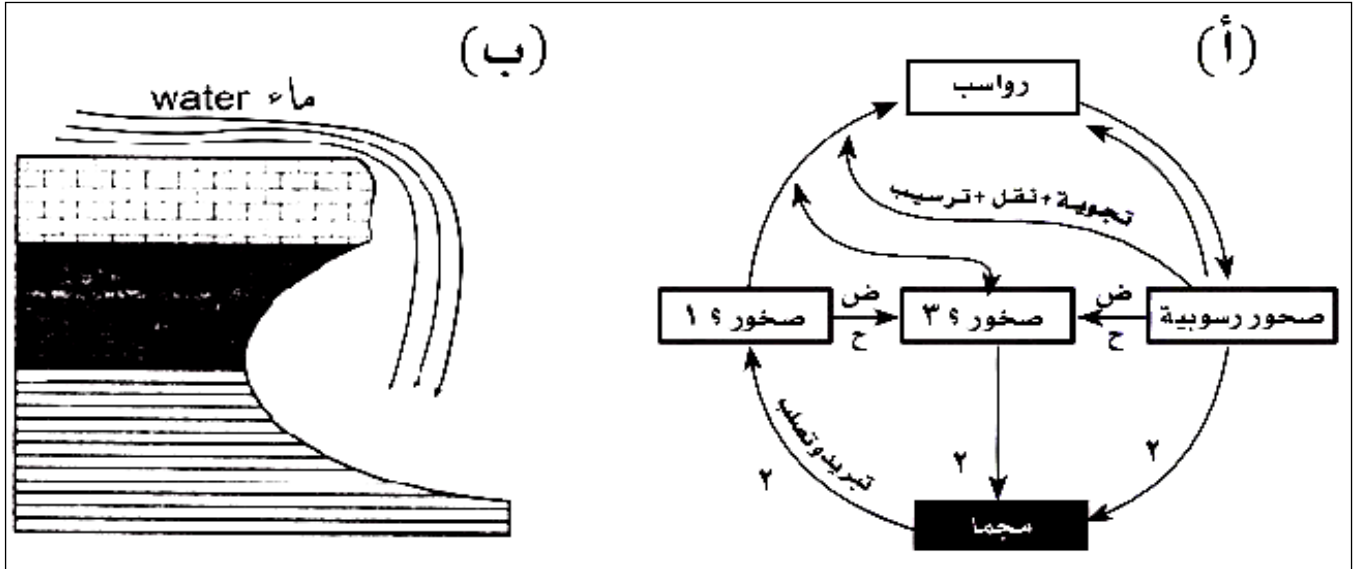
كائنات هائمة. ☐

محللة. ☒

متطفلة. ☐

مستهلكة. ☐

افحص الأشكال التي أمامك، ثم أجب عن الأسئلة المتعلقة بكل شكل:



٣٨- على ما يشير رقم (١) في الشكل (أ)؟

رقم (١) يشير إلى الصخور النارية

٣٩- على ما يشير رقم (٢) في الشكل (أ)؟

رقم (٢) يشير إلى عملية الانصهار

٤٠- على ما يشير رقم (٣) في الشكل (أ)؟

رقم (٣) يشير إلى الصخور المتحولة

٤١- ما يمثل الشكل في (ب)؟

الشكل (ب) يمثل مساقط المياه (الشلالات)

٤٢- ما مرحلة النهر في الشكل (ب).

مرحلة النهر في الشكل (ب) مرحلة الشباب

٤٣- اختر أحد السؤالين (أ) أو (ب)، ثم:
قارن بين:

- أ- القشرة القارية والقشرة المحيطية من حيث السمك والمكونات والصخور الممثلة لهما.
ب- الأسينوسفير واللب الداخلي للأرض من حيث الحالة والمكان والمكونات.

القشرة المحيطية	القشرة القارية	
٨-١٢ كم تحت قاع البحار المفتوحة والمحيطات	٦٠ كم في القارات	السمك
سيلكون وماغنسيوم تسمى السيماء	سليكون وألمنيوم تسمى السيل	المكونات
وتتكون من صخور البازلت	وتتكون من صخور الجرانيت	الصخور الممثلة لها

اللب الداخلي للأرض	الأسينوسفير	
صخور صلبة عالية الكثافة	صخور لدنة مائعة تتصرف تصرف السوائل تحت ظروف خاصة من الضغط والحرارة	الحالة
في مركز الأرض	الجزء العلوي من الوشاح بسمك ٣٥٠ كم	المكان
صخور صلبة عالية الكثافة تحتوى على الحديد	أكاسيد الحديد والمغنسيوم والسليكون	المكونات

أشرح باختصار:

Mr.Moussa AlSayed

٤٤- حلقات سلسلة آكلات اللحوم في النظام الإيكولوجي البحري.

- مجموعة آكلات اللحوم : وتتمثل في عدة حلقات :
- أ- الحلقة الثالثة: تمثلها [الأسماك الصغيرة / القشريات / الرخويات]
ب- الحلقة الرابعة: [الأسماك الكبيرة] التي تتغذى على القشريات و الأسماك الصغيرة
ج- الحلقة الخامسة: ◻ تمثلها الأسماك الأكبر [القروش]
◻ الثدييات البحرية [سباع البحر/ الدلافين]
◻ بعض الطيور البحرية [النورس/ العقاب/ البطريق]
د- الحلقة السادسة: الحيتان التي تفترس ما تطوله من تلك الحيوانات
◻ ويأتى الإنسان: ليتربع علي قمة هرم الغذاء البحري حيث يصيد الأسماك المختلفة والقروش والحيتان

٤٥ - الاستقرار مع القابلية للتغيير في النظام البيئي.

الاستقرار : هو قدرة النظام البيئي علي العودة إلي وضعه الأول بعد أي تغيير يطرأ عليه
(دون حدوث تغير أساسي في تكوينه)

■ تتجه النظم البيئية إلي الاستقرار لأن تعدد الأنواع المكونة للنظام البيئي يزيد من علاقاتها المتبادلة وبالتالي استقرار النظام البيئي وبالتالي التوازن الطبيعي البيولوجي داخله
■ إذا كان التغيير :

- ١- بسيطاً:فإن بعض العوامل فى النظام البيئي يتأثر بهذا التغير لكنه سرعان ما يعود إلي لاستقرار
- ٢- كبيراً: فإنه يؤدي إلي إخلال بتوازن النظام البيئي القائم ثم حدوث توازن آخر جديد بعد التغير

Mr.Moussa AlSayed Mr.Moussa AlSayed
Mr.Moussa AlSayed

الأستاذ / موسى السيد خبير تدريس الأحياء والجيولوجيا
ت / ٠١٠٩٩٣٧٨٢٠٦

أجب عن الأسئلة الآتية:

١- اختر أحد السؤالين (أ) أو (ب) :

أ- «اليرابيع لا تقرب الماء طيلة حياتها».

وضح كيف تحصل على الماء اللازم لحياتها؟

ب- «عندما تصبح درجة الحرارة غير مناسبة فى الوسط الذى يعيش فيه الكائن الحي فإنه يلجأ إلى السكون». وضح ذلك في حالتى البكتيريا والرخويات.

أ- اليرابيع لا تقرب الماء طيلة حياتها حيث تحصل عليه من البذور والنباتات العصيرية التي تتغذى عليها

ب- عندما تصبح درجة الحرارة غير مناسبة يلجأ الكائن الحي إلى السكون :

١-البكتيريا تلجأ إلى تكوين الجراثيم (التجراثيم)

٢-الرخويات وهى من اللافقاريات تلجأ عند ارتفاع درجة الحرارة إلى الخمول الصيفى وفيها يكاد ينعدم فيها النشاط الحيوي لأجهزة الجسم باستثناء الأجهزة الضرورية لبقاء الحيوان حيا

Mr.Moussa AlSayed

٢- اختر أحد السؤالين (أ) أو (ب) ثم : علل:

أ- تتميز الصخور النارية البركانية بنسيج زجاجي.

ب- يعتبر الجابرو المكافئ الجوفي لصخر البازلت.

أ- تتميز الصخور النارية البركانية بنسيج زجاجى لأنها تتكون قرب أو فوق سطح الأرض حيث يبرد الصهير بسرعة كبيرة (لم يأخذ فرصة كافية للتبلور) فيكون نسيجها زجاجي أى عديم التبلور مثل الأوبسيديان

ب- لها نفس التركيب الكيميائى والمعدنى فكلاهما من الصخور النارية القاعدية التى تتبلور فى درجات الحرارة المرتفعة أكثر من ١٠٠٠ درجة مئوية وتختلف فى مكان النشأة والنسيج وحجم الحبيبات حيث أن الجابرو جوفى ذو نسيج خشن أما البازلت فهو بركانى ذو نسيج زجاجى أو دقيق

٣- اختر أحد السؤالين (أ) أو (ب) ثم وضع:

- أ- ماذا تستنتج من وجود حفريات كائنات بحرية في أماكن صخور مرتفعة فوق سطح البحر؟
 ب- ماذا يحدث نتيجة حركة تيارات الحمل الدورانية في الطبقة العليا من الوشاح؟

أ- وجود حفريات كائنات بحرية في أماكن صخور مرتفعة فوق سطح البحر يدل على حدوث حركات أرضية رافعة

- تساعد على حركة القارات فوقها حيث تحدث حركة الألواح التكتونية فتتكون تيارات حمل دورانية في الصهارة الموجودة في الطبقة العليا من الوشاح فقد تكون :-
 ١- تيارات هابطة :- تسبب تكوين أغوار عميقة
 ٢- تيارات صاعدة :- تسبب تكوين حيد وسط المحيط

٤- اكتب المصطلح العلمي للعبارة الآتية:

«تجعد يحدث لصخور القشرة الأرضية نتيجة تعرضها لقوى ضغط».

الطيّات

٥- اختر الإجابة الصحيحة:

الكائنات التي تمثل حارس الطبيعة في أي نظام بيئي هي.....

① الكائنات المنتجة.

② أكلات العشب.

③ أكلات اللحوم.


④ الكائنات المحللة.

٦- فسر لما يلي:

لماذا حل الغاز الطبيعي محل الفحم في الاستخدامات اليومية؟

- ١- قيمته الحرارية الأعلى من الفحم
- ٢- طبيعته الغازية ميزته عن الفحم من حيث سهولة النقل والتخزين وتموين البواخر والقطارات والطائرات به
- ٣- تكاليف استخراجة أقل منتكالف استخراج الفحم
- ٤- أصبح الغاز الطبيعي عصب الحياة حيث يستخدم كوقود فى المنازل والمصانع

٧- ادرس الشكل التالي ثم أجب عما يأتي:



أ- ماذا يمثل هذا الشكل؟

ب- ما العمليات الجيولوجية التي أدت لتكوينه؟

أ- الشكل يمثل : الصواعد والهوابط فى مغارات فى الصخور الجيرية (كهوف ذوبانية)

ب- العمليات الجيولوجية التى أدت إلى تكوينه :

- ١- الهدم الكيمائى للمياه الأرضية لما تحتوية هذه المياه من CO_2 وأملاح حامضية مذابة حيث تعمل على ذوبان الصخور الجيرية فتساعد على تكوين المغارات
- ٢- العمل الترسيبي نتيجة: ذوبان المواد الجيرية بفعل المياه الأرضية المحملة بـ CO_2 فتترسب هذه المحاليل داخل المغارات أو الكهوف مكونة :
 - ١- الهوابط (استالاكتيت) رواسب من مواد جيرية تتدلى من سقف المغارة
 - ٢- الصواعد (استالاجمايت) رواسب من مواد جيرية تنمو من أرضية المغارة

٨- قارن بين :

النظام المعينى القائم، ثلاثي الميل (من حيث المحاور البلورية -
الزوايا البلورية).

النظام ثلاثى الميل	النظام المعينى القائم
تتضمن البلورة على ثلاث محاور بلورية مختلفة فى الطول وغير متعامدة الزوايا $\alpha \neq \gamma \neq \beta , c \neq b \neq a$	تتضمن البلورة على ثلاث محاور بلورية مختلفة فى الطول ومتعامدة الزوايا $\alpha = \beta = \gamma , c \neq b \neq a$

٩- اذكر أهمية كل من :

أ- الحفرية المرشدة.

ب- مقياس ريختر.

أ- أهمية الحفرية المرشدة :

- ١- يعتمد عليها فى تقدير عمر الأرض فمن خلالها نستطيع أن نحدد العمر الجيولوجي للصخور وظروف البيئة التي تكونت فيها
- ٢- ويمكن للجيولوجي من خلالها تحديد سطح عدم التوافق الانقطاعي

ب- أهمية مقياس ريختر : يستخدم لتقدير الزلازل وهو أكثر دقة من مقياس ميركالي
(ويجب استخدامه هند مقارنة الزلازل كمياً) .
☐ يعتمد على تقدير كمية الطاقة المنطلقة وهو يقيس قدر الزلزال

١٠- اختر أحد السؤالين (أ) أو (ب) ثم وضع:

ماذا يحدث عند:

أ- تبخر المياه من بحيرات مقفولة أو شبه مقفولة أو في السبخات الساحلية.

ب- ملامسة الصخور الرملية لكتلة من الصهير.

أ- تتكون صخور المتبخرات : التي تترسب نتيجة تبخر المياه من بحيرات مقفولة أو شبه مقفولة أو السبخات الساحلية مثل :

● الجبس (كبريتات كالسيوم مائية)

● الانهيدريت (كبريتات كالسيوم لا مائية)

● ملح الطعام الصخرى وهو معدن الهاليت (كلوريد الصوديوم)

ب- تتحول الصخور الرملية بتأثير حرارة الصهير إلى الكوارتزيت وهو من الصخور المتحولة الكتلية ذات النسيج الحبيبي

Mr.Moussa AlSayed

١١- اختر الإجابة الصحيحة مما يلي:

الذهب	الكاولينايت	الفلسبار
بريق فلزي	بريق أرضي

① يدخل في صناعة الخزف.

● له بريق لؤلؤي.

② أحد المعادن المكونة للجرانيت.

③ يتحلل كيميائياً لمعادن الكاولينات.

١٢- اكتب المصطلح العلمي الدال على هذه العبارة:

«تحلل الصخور تحت تأثير الأمطار المحملة بثاني أكسيد الكربون».

عملية الكربنة

١٣ - اذكر أهمية :

الجدور التي تمتد أفقياً تحت سطح التربة في البيئة الصحراوية.

جدور النباتات الصحراوية الممتدة أفقياً قرب سطح التربة لامتصاص قطرات الندى المتساقطة في الصباح الباكر للتغلب على شدة الجفاف في البيئة الصحراوية

Mr.Moussa AlSayed

١٤ - علل لما يأتي :

لا يوجد التقويم الجيولوجي كاملاً في مكان واحد.

السلم الجيولوجي لا يوجد في مكان واحد كاملاً لوجود انقطاع حيث تختفى بعض الطبقات وذلك بسبب عمليات التعرية أو انقطاع الترسيب لفترة زمنية وهو ما يسمى بأسطح عدم التوافق

١٥ - اذكر اسم المعدن الذي تدل عليه العبارة الآتية :

«المعدن الذي لا يחדشه الظفر وتخدشه العملة النحاسية في مقياس موهس».

معدن الكالسيت

١٦- اختر أحد السؤالين (أ) أو (ب) ثم:

قارن بين:

أ- الأسمدة العضوية ، الأسمدة الكيميائية (من حيث الأثر).

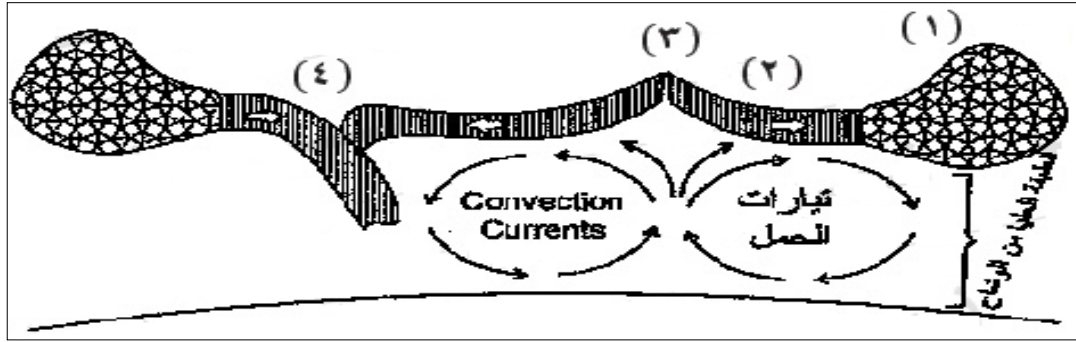
ب- الرعي في مناطق الأعشاب، الرعي في مناطق الشجيرات والأشجار.

أثر استخدام الأسمدة الكيميائية	أثر استخدام الأسمدة العضوية
تسبب: ١- تدهور التربة ٢- تعرضها للانجراف	لها دور في البيئة الطبيعية لأنها: ١- تنشيط الكائنات الحية الموجودة بالتربة ٢- تدخل في سلاسل الغذاء ٣- فتكسب التربة خصائص طبيعية مرغوبة

الرعي في مناطق الأشجار والشجيرات	الرعي في مناطق الأعشاب
يؤدي إلى زيادة أعداد وأحجام تلك الشجيرات نتيجة إزالة الأعشاب التي تنافسها علي الماء	يؤدي إلى تآكل الغطاء النباتي وسيادة الأنواع غير المستساغة أو التي تكمل دورة حياتها في فترة وجيزة فلا تتمكن الحيوانات من القضاء عليها

Mr.Moussa AlSayed

١٧- ادرس الشكل الذي أمامك ثم أجب عما يلي:



الشكل (١) يمثل لوح قارى

أ- ماذا يمثل الشكل (١) ؟

الشكل (٢) يمثل لوح محيطى

ب- ماذا يمثل الشكل (٢) ؟

الشكل (٣) يمثل حيد وسط المحيط

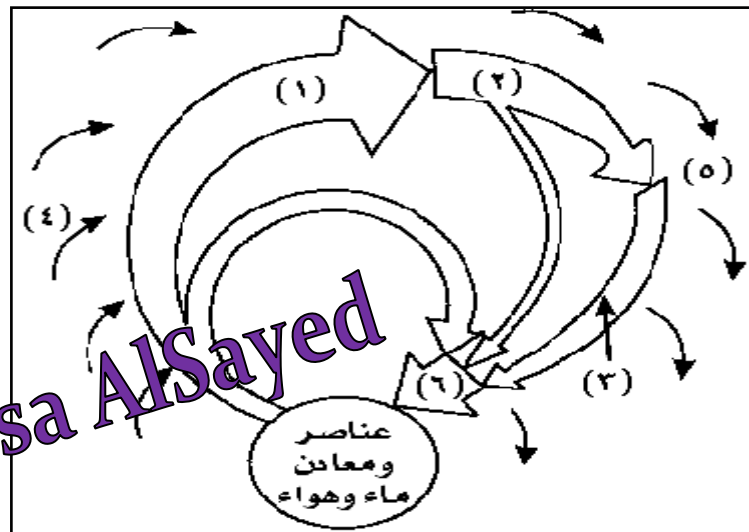
ج- ماذا يمثل الشكل (٣) ؟

Mr.Moussa AlSayed

د- ما نوع القوى الناشئة عن تيارات الحمل الموضحة.

نوع القوى الناشئة عن تيارات الحمل هي قوى شد وفيها يتحرك لوح محيطى مبتعداً عن لوح محيطى آخر فيتكون فى حيد وسط

١٨ - ادرس الشكل المقابل، ثم أجب عن الأسئلة الآتية:



أ- ماذا يمثل رقم (١) في النظام البيئي البحري؟

أ- رقم (١) فى النظام البيئى البحرى الهائمات النباتية و الطحالب البحرية الطافية أو المثبتة وهى كائنات منتجة للغذاء وتمثل حجر الأساس فى تحضير الغذاء لباقى الأحياء البحرية

ب- بماذا تتسم الكائنات رقم (٣) فى النظام الصحراوي؟

ب- تتسم آكلات اللحوم (الحلقة الثالثة) فى النظام الصحراوى

١- تمتص دماء فرائسها كمصدر للماء

٢- أعدادها قليلة لتتوازن مع أعداد فرائسها غير المتوفرة

٣- حسها حاد فى السمع والشم والبصر لتتعاش مع هذه البيئة حيث أن لها آذان كبيرة (مثل ثعلب الفنك) لتجميع موجات الصوت من مسافات بعيدة كما تساهم فى إشعاع الحرارة من الجسم

١٩ - اختر أحد السؤالين (أ) أو (ب) ثم عرّف:

أ- الانتحاء.

ب- التوافق الضوئي.

أ- الانتحاء : هو الحركة الموقعية للنبات (دون انتقال النبات) نتيجة للنمو فى اتجاه يحدده موقع المؤثر من النبات

ب- التوافق الضوئي : هو العلاقة بين فترة الإضاءة التى يحصل عليها النبات وفترة الإظلام التى يتعرض لها النبات بالتعاقب كل ٢٤ ساعة

٢٠- اختر أحد السؤالين (أ) أو (ب) ثم: علل:

أ- خاصية الصلادة تستخدم في تمييز الأحجار الكريمة الطبيعية.

ب- البترول لا يصنف من المعادن.

أ- أهمية الصلادة : التمييز بين الأحجار الكريمة الطبيعية غالية الثمن: فالمعادن الكريمة والشمينة بالإضافة إلى ألوانها الجذابة إلا أنها لا تتخدش بسهولة حيث أن أغلبها تزيد صلابتها عن ٧,٥ أما أحجار الزينة المقلدة صناعيا من مواد زجاجية وأكاسيد ألومنيوم (تقل صلابتها عن ٦ بينما ألوانها جذابة)

ب- لأن البترول ١- من أصل عضوي

٢- ليس له شكل بلوري مميز

٣- سائل

٤- ليس له تركيب كيميائي محدد

٢١- اختر أحد السؤالين (أ) أو (ب)، ثم وضح ماذا يحدث عندما:

أ- يقابل النهر الكهل طفوحات بركانية تزيد من إنحدار مجراه.

ب- تعرض صخر الجرانيت للتجوية الكيميائية.

أ- يحدث تصابي للنهر فيجدد النهر شبابه عند اعتراض مجراه بطفوح بركانية حيث
١- يزداد انحدار مجرى النهر وتزداد سرعة تيار الماء فيبدأ النحت من جديد ويستأنف تعميق مجراه
٢- بينما يقل التآكل (النحت) الجانبي أو يتوقف نهائيا ويصبح قطاعه على شكل شرفات نهريّة

ب- أ- الفلسبار ضعيف جداً تحت تأثير حمض الكربونيك الناتج من ذوبان CO₂ في مياه الأمطار ويتحلل الفلسبار ويتحول إلى معدن جديد هو الكاولينايت

ب- الميكا: (خاصة الميكا السوداء) تتحلل أيضا إلى أحد معادن من فصيلة الطين .

ج- الكوارتز : لا يتأثر بالتجوية الكيميائية

٢٢- اختر الإجابة الصحيحة للعبارة الآتية:

الكريبتوزوي اسم يطلق على.....

دهر الحياة غير المعلومة.

دهر الحياة المعلومة.

عصر ظهور الإنسان.

عصر سيادة الزواحف العملاقة.

۲۳- اكتب المصطلح العلمي لما يأتي:
حالة من التوازن بين سلاسل الجبال مع ما يجاورها من سهول ومنخفضات.

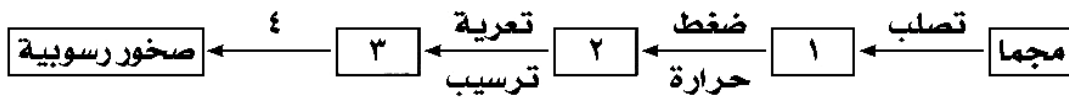
التوازن الأيزواستاتيكي

۲۴- فسر ما يأتي:
يتم إهدار نسبة كبيرة من الطاقة في سلاسل الغذاء البحرية.

لأن الأحياء البحرية معظمها آكلات لحوم مفترسة مما يسبب طول سلاسل الغذاء وتتعدد حلقاتها حيث فتهدر كمية كبيرة من الطاقة خلال انتقالها من حلقة إلى أخرى

Mr.Moussa AlSayed

۲۵- بناءً على ما درسته في دورة الصخور أكمل بيانات هذا الشكل:



أكمل بيانات هذا الشكل؟

۴- عملية التحجر

۳- رواسب

۲- صخور متحولة

۱- صخور نارية

٢٦- كيف يمكنك التعرف على التربة المنقولة.

التربة المنقولة :

- ١- تفككت في مكان ثم نقلت إلى مكانها الحالي
- ٢- تختلف غالباً في التركيب الكيميائي والمعدني عن الصخر الذي تعلوه فمثلاً
 - ☐ تربة طينية تعلو صخر رملي
 - ☐ وتربة رملية تعلو صخر جيري
- ٣- تختلف في النسيج فلا يوجد نسيج متدرج ويوجد حصى مستدير الزوايا

٢٧- اذكر: أربعة من الآثار السلبية للقطع الجائر للأشجار.

- الآثار السلبية المترتبة على القطع الجائر لأشجار الغابات :
- ١- نقص المواد الأولية اللازمة لصناعة الأخشاب والألياف الصناعية والورق
 - ٢- تشريد الحيوانات التي تستوطن الغابات مما قد يؤدي إلى انقراضها
 - ٣- تدهور التربة والنبات الطبيعي لتعرضهم لعوامل الجفاف
 - ٤- تعرض المناطق المحيطة بالغابات المستنزفة لأخطار الرياح والسيول
 - ٥- ارتفاع درجة الحرارة نتيجة لزيادة ثاني أكسيد الكربون
 - ٦- القضاء على النظام الإيكولوجي (الغابة)

Mr.Moussa AlSayed

٢٨- اختر أحد السؤالين (أ) أو (ب) :

ما النتائج المترتبة على :

أ- تحريك معدن الأوبال أمام عين الإنسان في الاتجاهات المختلفة.

ب- تعرض معدن الكوارتز لطاقة إشعاعية عالية.

أ- عند تحريك معدن الأوبال أمام عين الإنسان يتميز بخاصية اللآلة (عين الهر) حيث يتموج بريق المعدن ذو النسيج الأليافي (باختلاف اتجاه النظر إليه)

ب- يتكون الكوارتز المدخن (بلون الدخان الرمادي) : لكسر بعض الروابط بين ذرات عناصره للتعرض لطاقة إشعاعية عالية

Mr.Moussa AlSayed

٢٩- اختر الإجابة الصحيحة :

ظاهرة أسر الأنهار من الظواهر المميزة لمرحلة.....

● شباب النهر.

Ⓐ نضوج النهر.

Ⓑ شيخوخة النهر.

Ⓒ تصابي النهر.

٣٠- اشرح هذه العبارة:

«إذا أراد الإنسان أن يغوص في البحر إلى عمق ١١٠م فإنه يتعذر عليه ذلك بدون جهاز مخصص للغطس».

لأن ضغط الماء يزداد بمعدل ١ض.ج لكل ١٠م تحت سطح الماء بالإضافة إلى الضغط الجوي وبالتالي فهو يتعرض لضغط ١٢ ضغط جوى يصيب جسمه بالضرر إذا غاص بدون جهاز غطس

Mr.Moussa AlSayed

٣١- اكتب المصطلح العلمي لما يأتي:

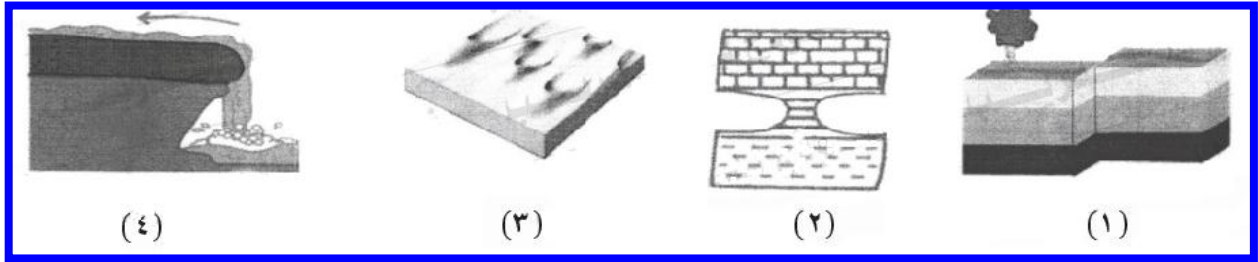
إزالة الطبقة العليا من سطح التربة لاستخدامها في صناعة الطوب.

تجريف التربة

٣٢- فسر : الجروف البحرية.

تتكون الجروف البحرية كنتيجة نهائية للنحت البحرى (العمل الهدمى للبحار) الناتج عن حركة مياه البحر فى صورة أمواج ومد وجزر وتيارات بحرية

٣٣- أي من الأشكال الآتية يُعتبر مثالاً للنحت المتباين: اختر:



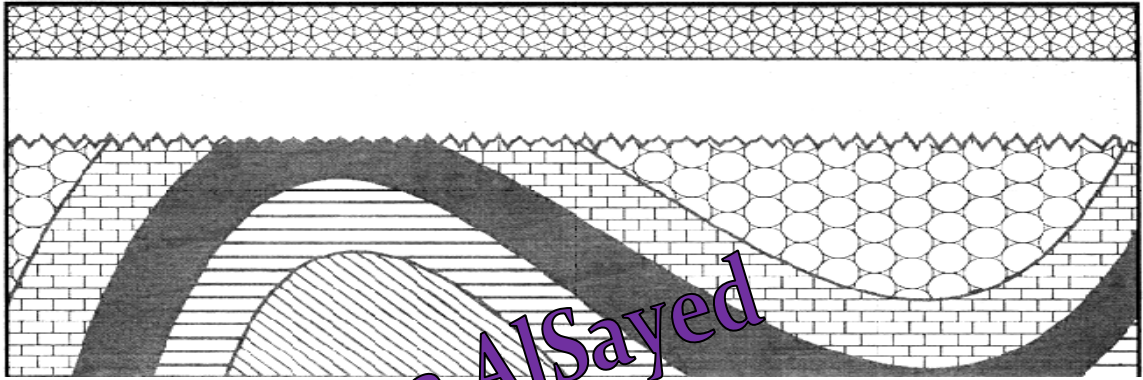
١. ٣، ١ (أ)

٢. ٢، ١ (ب)

٣. ٣، ٢ (ج)

٤. ٤، ٢ (د)

٣٤- ادرس الشكل التالي ثم أجب عما يأتي:



أ- اذكر التراكيب الموجودة بالرسم.

ب- فسّر التركيب الذي يفصل مجموعتي الطبقات.

أ- التراكيب الجيولوجية الموجودة بالرسم هي :

١- طية مقعرة

٢- طية محدبة

٣- سطح عدم توافق زاوي

ب- التركيب الذي يفصل بين مجموعتي الطبقات هو سطح عدم توافق زاوي ينتج عن تعرض طبقات رسوبية مائلة كالطيات لحدوث تعرية وانقطاع الترسيب لفترات زمنية طويلة ثم عودته بطبقات أفقية أحدث عمراً

٣٥- اذكر: أشكال الصخور البركانية السطحية.

أشكال الصخور النارية البركانية السطحية :

الطفوح البركانية	اللافا المتصلدة على سطح الأرض تنتج من ثورات البراكين وتأخذ أشكال الحبال أو الوسائد
المواد النارية الفتاتية	تنتج من تكسير أعناق البراكين ومنها: (أ) البريشيا البركانية : قطع ذات زوايا حادة تتراكم حول البركان (ب) الرماد البركانى : حبيبات دقيقة الحجم تحملها الرياح لمسافات كبيرة وقد تعبر بها البحار لتسقط فى قارة أخرى
المقذوفات (القنابل) البركانية	كتل صخرية بيضاوية الشكل تتألف من مواد اللافا عند تجمدها بالقرب من سطح الأرض

٣٦- قارن بين: الزلازل البركانية والزلازل التكتونية.

الزلازل البركانية	الزلازل التكتونية
زلازل يرتبط حدوثها بالنشاط البركاني هزات محلية لا يمتد تأثيرها في مساحات كبيرة	زلازل تحدث في المناطق التى تتعرض فيها الصخور للتصدع نتيجة لحركة الألواح التكتونية هذا هو النوع الشائع كثير الحدوث

Mr.Moussa AlSayed

٣٧- اختر أحد السؤالين (i) أو (ب) ثم: علل:

أ- نشأة الأخدود العظيم.

ب- وجود أحافير قديمة متشابهة على حواف القارات المتقابلة بالرغم من وجود حائل مائي الآن.

أ- نشأ الأخدود العظيم لنهر كلورادو نتيجة حدوث حركات أرضية بانية للقارات حيث تظهر الرواسب البحرية على جداري الأخدود على ارتفاع ١٥٨٠ م فوق سطح البحر أفقية كما كانت على حالتها الأولى عند الترسيب
 ☐ هذا يعني أن مساحة كبيرة من سطح الأرض ارتفعت بقدر كبير دون أن تتعرض لأي تشوه خلال عملية الرفع التي استمرت بشكل بطيء وتدرجي لفترة زمنية طويلة

ب- وجود أحافير بعض الزواحف من جنس واحد (ولا تستطيع خوض المحيطات) توجد منحصرة في صخور القارات الجنوبية فقط وكذلك أحافير أوراق وبذور نباتات أولية برية في القارات الجنوبية والهند ويدل ذلك على الاتصال بين هذه القارات بعضها ببعض مما يعزز فكرة الانجراف القاري

Mr.Moussa AlSayed

٣٨- اكتب المصطلح العلمي لما يلي:

الحيز الذي توجد فيه الحياة على سطح الأرض.

الغلاف الحيوي

٣٩- ماذا ينتج عن: حدوث فالقين عاديين يتشاركان في نفس صخور الحائط العلوي.

يتكون الفالق الخسفي (الخدقي)

٤٠- اختر الإجابة الصحيحة :

ترتيب وصول الموجات الزلزالية لآلات الرصد.....

- ① السطحية ثم الأولية ثم الثانوية.
 ② السطحية ثم الثانوية ثم الأولية.
 ③ الأولية ثم الثانوية ثم السطحية.
 ④ الثانوية ثم الأولية ثم السطحية.

٤١- اكتب المصطلح العلمي الدال على :

جسم صلب يتميز بترتيب ذرات العناصر ترتيباً منتظماً متناسقاً.

البلورة

Mr.Moussa AlSayed

٤٢- اذكر :

وسيلتين لعلاج مشكلة الزحف العمراني.

علاج مشكلة الزحف العمرانى:

- ١- إنشاء المدن الجديدة فى الأراضى الصحراوية غير المزروعة وإقامة المشروعات الصناعية بها
- ٢- توفير المرافق والمساكن ومختلف الخدمات بالمدن الجديدة
- ٣- أصدرت الدولة التشريعات التى تجرم البناء على الأراضى الزراعية

٤٣- اختر أحد السؤالين (أ) أو (ب)، ثم اكتب نبذة مختصرة عن:

أ- دور المياه في التجوية الميكانيكية.

ب- مخروط السيل.

تكرار تجمد وذوبان المياه في شقوق الصخور : في المناطق القطبية الباردة أو الجبلية المرتفعة فإن تكرار تجمد المياه في شقوق وفواصل الصخور وانصهار الجليد ليلاً ونهاراً أو في مواسم متبادلة يزيد من حجم الماء عند تجمده فيضبط على جوانب الشقوق والفواصل القريبة من السطح (سواء كانت رأسية أو أفقية) ويوسعها فتتفصل قطعاً من الصخر عن الصخر الأم فيصبح مفككاً ثم يسقط ذلك الفتات عند قدم الجبل أو الهضبة مكوناً [منحدرًا ركامياً]

مخروط السيل من العمل البنائي للسيول يتكون عندما تخرج السيول من الأخوار وتفقد سرعتها وتنتشر على سطوح السهول وترسب ما تحمله على شكل نصف دائرة مركزها مخرج الخور

Mr.Moussa AlSayed

٤٤- ما أوجه الشبه والاختلاف بين:

الحجر الرملي، الكونجلوميرات.

الحجر الرملي والكونجلوميرات كلاهما من الصخور الرسوبية الفتاتية

الكونجلوميرات	الحجر الرمل
من رواسب الزلط يتكون من فتات مستدير في حجم الحصى والجلاميد يزيد قطر مكوناتها عن ٢مم حيث تتماسك الحبيبات المستديرة بمادة لاحمة وتتحجر وهو من أهم الشواهد على عدم التوافق	من رواسب الرمل عبارة صخر متحجر أغلبه من حبيبات الكوارتز يتراوح قطر حبيباته من ٢مم-٦٢ميكرون وهو من أهم الصخور الرسوبية المسامية لتخزين النفط والغاز والمياه الجوفية

٤٥ - وضع العلاقة بين:

ضوء الشمس ونشاط الحيوانات.

ضوء الشمس : له أثر ملموس فى نشاط الحيوانات يمكن تقسيم هذا النشاط إلى ٤ فترات ضوئية

فترة الفجر	فيها يقل نشاط الحيوانات الليلية بصورة تدريجية ثم تعود إلى ملاجئها
فترة النهار	تنشط فيها الحيوانات النهارية
فترة الغسق	يقل فيها نشاط الحيوانات النهارية بصورة تدريجية ثم تعود إلى ملاجئها
فترة الليل	تنشط فيها الحيوانات الليلية

Mr.Moussa AlSayed

الأستاذ / موسى السيد خبير تدريس الأحياء والجيولوجيا

ت / ٠١٠٩٩٣٧٨٢٠٦

أجب عن الأسئلة الآتية:

1- تخير الإجابة عن (أ) أو (ب):

(أ) كيف يتكون التدرج الطبقي؟

(ب) كيف يتكون سطح عدم التوافق الزاوى؟

التدرج الطبقي من الأشكال التي تترك على الصخور نتيجة تأثير عوامل بيئية ومناخية [الجفاف / الحرارة / الرياح/ التيارات المائية] وبدون أى تدخل يذكر من جانب القوى التكتونية الحركات الأرضية

عدم التوافق الزاوى يتكون نتيجة حدوث تعرية لطبقات رسوبية مائلة كالطيات وانقطاع الترسيب لفترات زمنية طويلة ثم عودته بطبقات أفقية أحدث عمراً

2- تخير الإجابة عن (أ) أو (ب):

(أ) ماذا يحدث عند سقوط الضوء على معدن الماس ؟

(ب) ماذا يحدث عند تعرض معدن الجرافيت للضغط ؟

(أ) معدن الماس: يفرق شعاع الضوء الساقط عليه نتيجة انكساره إلى اللونين الأحمر والبنفسجي بحيث تعطي بريقاً عالياً في كل الاتجاهات

(ب) معدن الجرافيت عند تعرضه للضغط يكون الانقسام فى اتجاه موازى لقاعدة البلورة

3- تخير الإجابة عن (أ) أو (ب):

(أ) اشرح وسيلة تكيف أسماك وديان قاع البحر.

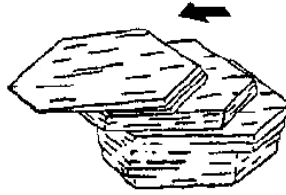
(ب) اشرح وسيلة تكيف أوراق النباتات الصحراوية.

(أ) أسماك وديان القاع مزودة بقدرات جسمية وفسولوجية تمكنها من تحمل الضغط الزائد بالإضافة إلي البرودة الشديدة والظلام الدامس كما تتغذى على أشلاء الحيوانات الميتة وبقاياها المتساقطة من السطح

(ب) أوراق النباتات الصحراوية مختزلة للاحتفاظ بالماء من عوامل النتج كما أن غطاءها النباتي سميك من الكيوتين للحماية من البخر

4- تخير الإجابة الصحيحة :

الصفة التي تعبر عنها عينة المعدن المبينة بالشكل هي



- ☐ أ. التشقق في الميكا .
☐ ب. التورق في الطفلة .
☐ ج. الانفصام في الكالسيت .
☐ د. التورق في النيس .

5- علل لما يأتي : البيومس أقل وزنا من اليايوليت بالرغم من تشابه تركيبهما .

لأن البيومس صخر بركاني حامضي غني بالفقاعات الغازية لذلك فهو يتميز بوزن خفيف أما الريولايت فهو صخر بركاني حامضي دقيق التبلور

Mr.Moussa AlSayed

6- اكتب المصطلح العلمي للعبارة الآتية :

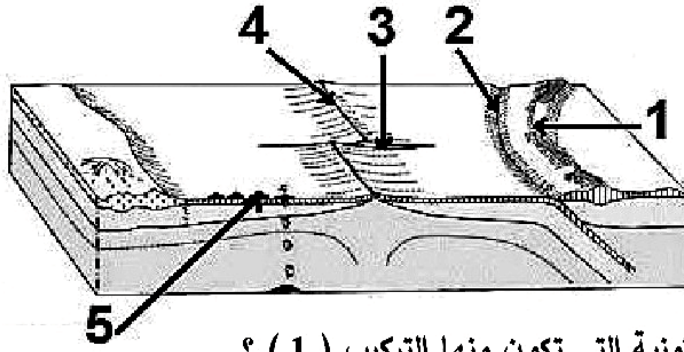
"رواسب رياحية تعتبر أكثر أمثلة العمل الترسيبي للرياح انتشارا"

الكثبان الرملية الهلالية

7- قارن بين أحد آثار استخدام الأسمدة الكيماوية و أحد آثار استخدام الأسمدة العضوية .

أحد آثار استخدام الأسمدة العضوية	أحد آثار استخدام الأسمدة الكيماوية
<p>لها دور في البيئة الطبيعية لأنها:</p> <p>١- تنشيط الكائنات الحية الموجودة بالتربة</p> <p>٢- تدخل في سلاسل الغذاء</p> <p>٣- فتكسب التربة خصائص طبيعية مرغوبة</p>	<p>تسبب: ١- تدهور التربة</p> <p>٢- تعرضها للانجراف</p>

8- يعبر الشكل التالي عن بعض أنواع حركة الألواح التكتونية ، أجب عن الأسئلة التي تليه:



أولاً: ما نوع الحركة التكتونية التي تكون منها التركيب (1) ؟

ثانياً: وضع الرقم الدال على :-

1- الصدوع الانتقالية .

2- الأغوار البحرية .

ثالثاً: اكتب مثالا ينتج من حدوث الحركة التكتونية عند رقم (4) .

أولاً : حركة تقاربية بين لوحين أحدهما قارى والآخر محيطى

ثانياً: ١- الرقم الدال على الصدوع الانتقالية العمودية هو رقم (٣)

٢- الرقم الدال على الأغوار البحرية العميقة هو رقم (٢)

ثالثاً: الحركة التباعدية بين ألواح محيطية كما فى حيد وسط المحيط أو ألواح قارية
 □ وقد نشأ عن تلك الحركة بحار ومحيطات بعد تفتق القارات مكونة حوض محيطى مثل :
 (أ) البحر الأحمر نتيجة ابتعاد اللوح العربى عن اللوح الأفريقى
 (ب) تفتق قارة جوندوانا ونشأ المحيطين الأطلنطى والهندي

Mr.Moussa AlSayed

9- اشرح تأثير كل من :-

أولاً: الضوء على توزيع الأكسينات في ساق نبات .

ثانياً: تحرر المغذيات من أجسام الأحياء البحرية .

أولاً: يسبب الضوء زيادة تركيز الأوكسينات(محفزات النمو) في الجانب المظلم يكون أعلى من الجانب المضيء فستجيب خلايا الساق للنمو بصورة أكبر فى الظلام عنها في الضوء مما يسبب استطالة خلايا الساق البعيدة عن الضوء بدرجة أكبر من الخلايا المواجهة للضوء فينتحى الساق نحو الضوء

ثانياً: تتحرر المغذيات من أجسام الأحياء البحرية بعد موتها وتترسب نحو القاع وكلما كانت المياه متحركة وبها تيارات صاعدة زاد توفر العناصر المغذية فيها مما يعمل على ازدهار الحياة النباتية فى طبقات المياه العليا وتزداد الحيوانات التى تتغذى عليها وتكثر الأسماك تبعاً لذلك

10- تخير الاجابة عن (١) او (ب) :

- (أ) فسر: يختلف المسكوفيت عن البيوتيت .
(ب) فسر: يتكون الدوليرايت على مرحلتين .

المسكوفيت	البيوتيت
يسمى (الميكالبيضاء) ولونه فاتح لزيادة نسبة السليكون البوتاسيوم	يسمى (الميكالأسوداء) ولونه غامق لاحتوائه على نسب من الحديد والماغنسيوم
تتكون خلال المرحلة الأخيرة للتبلور في درجات حرارة منخفضة نسبياً وبعد أن يكون معظم الصهير قد تصلب يتبلور	يتبلور في مراحل متوسطة لتبلور الصهير عند درجات حرارة متوسطة فهو آخر معادن الفرع الأيسر الذي يوضح التفاعل غير المتصل لمتسلسلة بوين
يتبلور بعد الفلسبار البوتاسي وقبل الكوارتز	يتبلور بعد الأمفيبول وقبل الفلسبار البوتاسي

- (ب) لأن الدوليرايت صخر نارى متداخل نسيجه بورفيرى
 ◻ بعض أجزائه تكون نتيجة التبريد البطئ في باطن الأرض فأعطى بلورات كبيرة الحجم
 ◻ وبعضها الآخر تكون نتيجة التبريد السريع قرب سطح الأرض فأعطى أرضية من بلورات أصغر حجماً

11- ماذا يحدث عند : غوص شخص ووصوله إلى أقصى عمق تتواجد عليه الطحالب السائبة من طرف واحد ؟

سوف يصل إلى عمق ١٢٠ م ويقع عليه ضغط ١٣ ضغط جوى فيتعرض للأذى

Mr.Moussa AlSayed

12- تخير الاجابة الصحيحة :

التركيب المتواجد بين صخر بازلت وحجر جيرى فوقه مباشرة هو

- (أ) فالق عادي .
 (ب) فالق معكوس .
 (ج) عدم توافق متباين .
 (د) فاصل .

13- اكتب المصطلح العلمي للعبارة التالية : المستوى الذي ينسب إليه ارتفاع قمة جبل افرست .

مستوى سطح البحر

14- ما المقصود بـ : الدبال ؟

الدبال هو مواد تنتج من تتحلل أوراق أشجار الغابات المتساقطة بصفة درية في التربة مكونة يغذى التربة ويحافظ على خصوبتها

15- علل لما يأتي : بلورة معدن الهاليت تتميز بأكبر قدر من التماثل .

لأنها تنتمي إلى فصلية المكعبى حيث تشتمل البلورة على ثلاث محاور بلورية متساوية فى الطول ومتعامدة الزوايا

16- اختر الإجابة عن أحد السؤالين (أ) أو (ب) :

- (أ) قارن بين : رواسب بحيرة قوسية ورواسب بحيرة وادي النطرون .
(ب) قارن بين : مخروط السيل ومخروط الدلتا .

رواسب بحيرة قوسية	رواسب بحيرة وادي النطرون
الحصى والرمال قرب شاطئ البحيرة حبيبات الطين الدقيقة وسط البحيرة بقايا النباتات والحيوانات وقواقع المياه العذبة	كربونات الصوديوم وكربونات الماغنسيوم

مخروط السيل	مخروط الدلتا
رواسب للسيول يأخذ الترسيب شكل نصف دائرة مركزها مخرج الخور وهو من العمل البنائى للسيول	رواسب دلتاوية بنمطية الدلتا تمتد شمالاً لأكثر من ١٠ كيلومترات داخل البحر المتوسط وهى رواسب مصنفة ومتدرجة مع زيادة العمق رمل قرب الشاطئ ثم غرين ثم صلصال فى المناطق الأعمق وتحوى الرمال السوداء

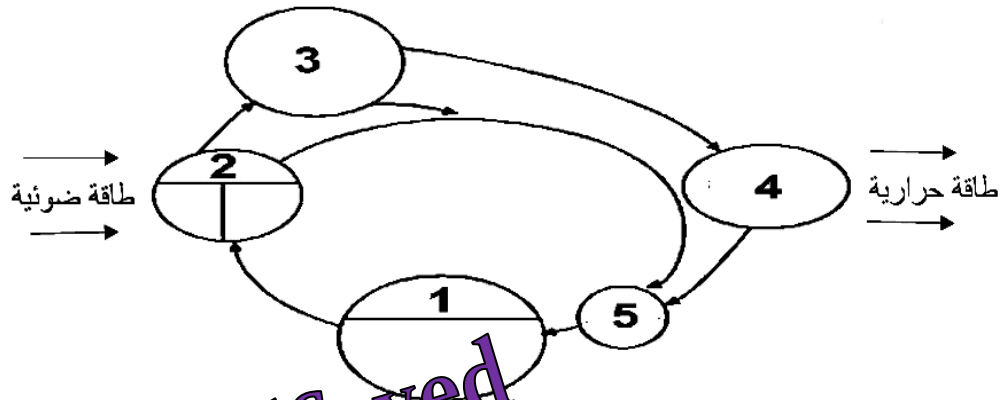
17- اكتب أهمية كل من :

- أولاً: جذور الجبال .
ثانياً: لوح المخدش الخزفي .

أولاً : جذور الجبال تغوص في صخور الوشاح (العالية الكثافة) تحتها لمسافة تصل إلى ٤ أمثال ارتفاع هذه الجبال فتجعل سلاسل الجبال المنتشرة فى القشرة الأرضية في حالة توازن مع ما يجاورها من سهول ومنخفضات

ثانياً : لوح المخدش الخزفي من الأشياء الشائعة التى تستخدم فى تعيين صلادة المعادن عند غياب أقلام الصلادة حيث تبلغ صلادته ٦,٥ على مقياس موهس كما يستخدم للتمييز بين أحجار الزينة الطبيعية تزيد صلادتها عن ٧,٥ المقلدة صناعياً تقل صلادتها عن ٦

18- يعبر الشكل التالي عن مكونات النظام البيئي الصحراوي .



Mr.Moussa AlSayed

اكتب اسم والرقم الدال على :-

أولاً: كائنات تعتبر مصدر الماء لليرابيع .

ثانياً: كائنات غيابها يسبب تراكم الجثث والبقايا واختلال توازن البيئة .

أولاً: مصدر الماء لليبرابيع رقم (2) الكساء الخضرى المؤقت والدائم

ثانياً : كائنات غيابها يسبب تراكم الجثث والبقايا وختلال توازن البيئة رقم (5) الكائنات المحللة

19- اختر الإجابة عن أحد السؤالين (أ) أو (ب):

(أ) علل: يوما ما سوف يصبح البحر الأحمر محيط .

(ب) علل : تراكم طبقات من الفوسفات خلال العصر الطباشيري العلوي في شمال أفريقيا .

(أ) لأن البحر الأحمر حوض محيطى تكون نتيجة حركة تباعدية حيث تفتق قارة أفريقيا وتكون البحر الأحمر الذى تتسع جوانبه بمعدل ٥ سم/ سنة نتيجة ابتعاد اللوح العربى عن اللوح الأفريقى

(ب) تكدست الحيوانات الفقارية البحرية حيث سادت: ☐ حرارة معتدلة ☐ ظروف بحرية ضحلة ☐ ملوحة عادية

20- اختر الإجابة عن أحد السؤالين (أ) أو (ب):

(أ) ما النتائج المترتبة على: وجود صخر زاوية انحرافه المغناطيسي 20 درجة في منطقة غابات صنوبرية ؟

(ب) ما النتائج المترتبة على: تباين الظروف البيئية على مدار الزمن الجيولوجي ؟

(أ) الغابات الصنوبرية قريبة من المنطقة القطبية وزاوية الانحراف بصخورها المغناطيسية قريبة من ٩٠ درجة ووجود صخر مغناطيسي بها بزاوية انحراف ٢٠ درجة يدل على زحزة كتلة الصخر عن موقعها الأصلي مما يؤكد نظرية الانجراف القاري

(ب) ينتج عن تغير الظروف البيئية :

١- تأثر المجموعات الحياتية (حيوانية أو نباتية) : حيث تحدث هجرات أو تكدس في مناطق معينة من سطح الأرض وندرته في مناطق أخرى.

٢- حدوث تغيرات وراثية: بسبب تغيير البيئة تؤدي بعد فترة من الزمن إلى ظهور أنواع متطورة أكثر تكيفا للظروف الجديدة

21- اختر الإجابة عن أحد السؤالين (أ) أو (ب):

(أ) قارن بين : العروق والجدد

(ب) قارن بين : الفالق ذو الحركة الأفقية والفالق الدسر .

العروق	الجدد
أشكال للصخور النارية تحت السطحية تنتج من تداخل المجما في الصخور المحيطة بها بحيث تكون قاطعة لها	أشكال للصخور النارية تحت السطحية تنتج من تداخل المجما في الصخور المحيطة بها بحيث تكون موازية لأسطح الطبقات وغير قاطعة لها

الفالق ذو الحركة الأفقية	الفالق الدسر
فالق تتحرك صخوره المهشمة حركة أفقية في نفس المستوى دون وجود إزاحة رأسية	أحد أنواع الفوالق المعكوسة إلا أنها يتميز
	١- مستوى الفالق أفقي تقريبا (قليل الميل) .
	٢- زحفي: حيث تزحف الصخور أفقيا بمسافة على مستوى الفالق

22- اذكر اسم الصخر المتحول عن :-

أولاً: الصخور الرملية . ثانياً: صخر الطفل .

أولاً : الصخر المتحول عن الصخور الرملية هو الكوارتزيت

ثانياً : الصخر المتحول عن الطفل هو الارداواز

23- اكتب المصطلح العلمي الدال على العبارة التالية : " كائنات تعمل على تهوية التربة وتوفر النيتروجين بها "

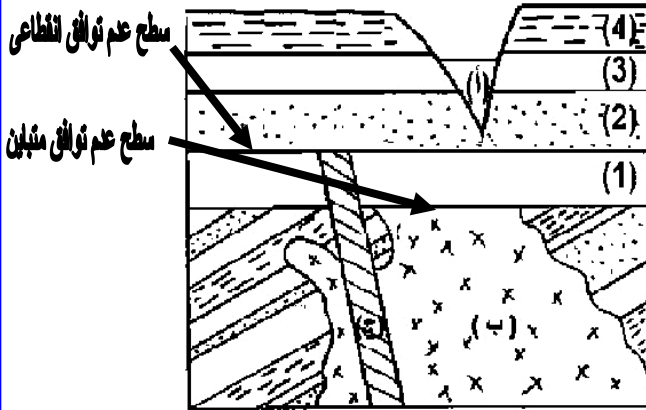
ديدان الأرض

24- وضح كيف الكائنات الصحراوية التالية مع ندرة الماء:
أولاً: الحشرات. ثانياً: الغزلان.

أولاً: الحشرات الصحراوية: [الجراد / الخنافس] اكتسبت أغشية جافة محكمة حول أجسامها للاحتفاظ بالماء

ثانياً: ١- تنشط ليلاً وفي الصباح الباكر وتختفي نهاراً في حفر أو كهوف رطبة
٢- يتركز بولها ويشح عرقها للاقتصاد في الماء

25- اختر الإجابة عن أحد السؤالين (أ) أو (ب):
من الشكل الذي أمامك أجب:



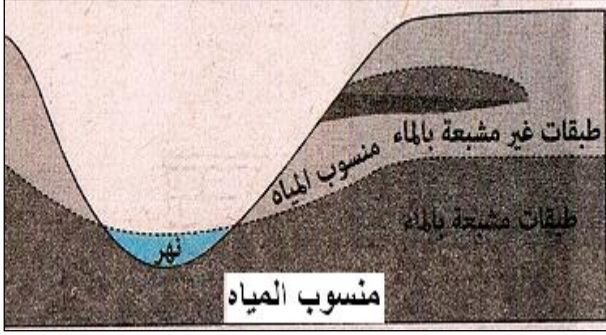
(أ) أولاً: ماذا يمثل التركيبان (ب ، ج) ؟
ثانياً: حدد موضع عدم توافق انقطاعي وآخر متباين.

(ب) أولاً: ما المرحلة التي يمر بها النهر (أ) ؟
ثانياً: اذكر اثنين من الظواهر التي تميز النهر في هذه المرحلة.

أولاً: التركيب (ب) باثوليث
التركيب (ج) عرق قاطع

(ب) أولاً: النهر (أ) يمر بمرحلة الشباب
ثانياً : أهم الظواهر الجيولوجية لمرحلة الشباب
١- مساقط المياه (الشلالات)
٢- ظاهرة أسر الأنهار (القرصنة النهرية)

26- اشرح باختصار : المقصود بمنسوب الماء الأرضي ، مع التوضيح بالرسم .



منسوب الماء الأرضي :
مستوى ماء التربة وهو مستوى المياه الذي تنتشع
أسفله جميع المسام والشقوق والفراغات بالماء

27- ما النتائج المترتبة على تعرض الصخور الطينية لكل مما يأتي :

أولاً: الضغط ودرجة الحرارة.

ثانياً : الضغط فقط.

أولاً : عند تعرض الصخور الطينية للضغط ودرجة الحرارة تتحول إلى صخور الشيست وأهمها :
■ الشيست الميكاني الذي تظهر فيه خاصية التورق نتيجة ترتيب بلورات الميكا في الصخر
الطيني بعد نمو البلورات بتأثير ارتفاع درجة الحرارة ويكون في اتجاه عمودي على اتجاه الضغط
لقليل تأثيره يتكون من صفائح رقيقة متشابهة في تركيبها المعدني متصلة غير متقطعة

ثانياً: عند تعرض الصخور الطينية للضغط فقط يتكون الطين الصفحي (الطفل):
تضاغط مكونات الصخور الطينية وتماسكها فتظهر بها صفة التورق أو التصفح

28- اختر الإجابة عن أحد السؤالين (أ) أو (ب) :

(أ) عرف: علم البيئة .

(ب) عرف: الانتحاء .

(أ) علم البيئة : دراسة التفاعل بين الحياة ومكونات البيئة
■ يتناول تطبيق معلومات في مجالات معرفية (فيزيائية - كيميائية - بيولوجية - اجتماعية -
اقتصادية)

(ب) الانتحاء : هو الحركة الموقعية للنبات (دون انتقال النبات) نتيجة للنمو في اتجاه يحدده
موقع المؤثر من النبات

29- اذكر أهمية واحدة للمخلفات الزراعية .

المخلفات الزراعية يمكن :
استخدامها بديلاً للأخشاب المستخرجة من الأشجار
تحويلها : ١- إلى سماد عضوي
٢- علف
٣- غاز الميثان (البيوغاز) يستخدم كوقود

30- اكتب المصطلح العلمي الدال على :
موجات زلزالية تنتقل من القشرة الأرضية وتمر خلال لب الأرض المركزي.

الموجات الزلزالية الأولية

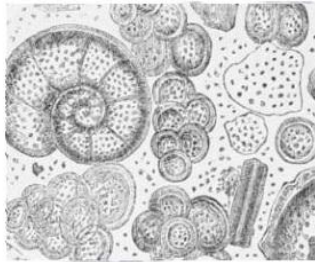
31- علل لما يأتي: لا يمكن أن تتغذي القشريات الهائمة على الطحالب البنية نهرا.

لأن القشريات الهائمة تظل علي عمق ٢٧ م طوال النهار (لتأثرها بالأشعة فوق البنفسجية) وتهاجر ليلا إلي السطح بينما الطحالب البنية : تعيش علي عمق ١٥ م لأنها تحتاج إلي كمية أكبر من الضوء

Mr.Moussa AlSayed

32- تخير الاجابة الصحيحة :

تعبر عينة الصخر المقابل عن



- أ صخر ناري جوفي . ☐
- ب صخر رسوبي فتاتي . ☐
- ج صخر رسوبي بيوكيميائي . ☒
- د صخر متحول بالضغط والحرارة . ☐

33- اشرح ما المقصود بالتميو .

التميو : هو إضافة الماء إلى التركيب المعدني
مثل تحول معدن الانهيدريت (كبريتات الكالسيوم لامائي) إلى معدن الجبس
(كبريتات الكالسيوم مائي)

34- اختر الإجابة عن أحد السؤالين (أ) أو (ب):

- (أ) اذكر اثنين من العناصر التي تزداد وكذلك التي تقل في الصهير عندما يتبلور 50 % منه عند تكوين للصخور النارية .
(ب) اذكر اثنين من نواتج البراكين و الحالة الفيزيائية لكل منهما .

(أ) عند تبلور ٥٠ % من المجما يفقد الجزء المنصهر عناصر الحديد والماغنسيوم والكالسيوم تماماً ويصبح غني بعنصرى الصوديوم والبوتاسيوم كما يزداد محتواه من السليكون


- (ب) نواتج البراكين ١- اللافا: مواد معدنية منصهرة تقدر درجة حرارتها بحوالى ١٢٠٠ م
٢- غازات وأبخرة: بكميات كبيرة [غاز الأمونيا- كبريتيد الهيدروجين - ثاني أكسيد الكربون - بخار الماء]
٣- الرماد البركاني : مواد معدنية دقيقة تتطاير مع الغازات والأبخرة و تنتشر في الجو
٤- المقذوفات [القنابل] البركانية والبريشيا البركانية

35- قارن بين : النظام البلوري الثلاثي وثلاثي الميل من حيث :
" عدد المحاور - علاقة أطوالها "

Mr.Moussa AlSayed

النظام البلورى الثلاثى	النظام البلورى الثلاثى	عدد المحاور
تشتمل البلورة على أربع محاور بلورية	تشتمل البلورة على ثلاث محاور بلورية	
تشتمل البلورة على ثلاث محاور بلورية أفقية متساوية فى الطول وتتقاطع مع بعضها فى زوايا متساوية ويتعامد على مستواهم الأفقى محور بلورى رأسى ثلاثى التماثل ولا يوجد مستوى تماثل أفقى $c \neq a_3 = a_2 = a_1$	المحاور البلورية الثلاثة مختلفة فى الطول وغير متعامدة $\alpha \neq \gamma \neq \beta , c \neq b \neq a$	علاقة أطوالها

36- ادرس الشكل الذي أمامك ثم أجب :-



أولاً: ما الذي يشير إليه الرقمان (1 ، 2) ؟
ثانياً: ما الذي يترتب عليه وجود هذا الشكل بالقرب من شاطئ ؟

أولاً : الرقم (١) يشير إلى صخور صلبة
والرقم (٢) يشير إلى صخور رخوة

ثانياً : ما يترتب على وجود مساقط مائية بالقرب من الشاطئ هو :
١- تأثر الحركة السطحية للمياه (الأمواج)
٢- كما أن المياه العذبة الساقطة منها تؤثر في ملوحة مياه البحر وتعمل على تقليل هذه الملوحة

Mr.Moussa AlSayed

37- اختر الإجابة عن أحد السؤالين (أ) أو (ب):

(أ) اذكر اسم أحد المعادن الذي له نفس التركيب الكيميائي لأكثر المعادن صلادة.

(ب) اذكر اسم معدن رسوبي له مكسر محاري وقد يكون فاتح أو غامق اللون.

(أ) معدن الجرافيت

(ب) معدن الصوان

38- قارن بين : الزلازل التكتونية ، الزلازل البلوتونية .

الزلازل التكتونية	الزلازل البلوتونية
زلازل تحدث في المناطق التي تتعرض فيها الصخور للتصدع نتيجة لحركة الألواح التكتونية هذا هو النوع الشائع كثير الحدوث	زلازل يوجد مركزها على عمق سحيق من الأرض قد يصل إلى أكثر من ٥٠٠ كم تحت سطح الأرض.

Mr.Moussa AlSayed

39- علل لما يأتي : تحدث التجوية الميكانيكية أحيانا متزامنة مع التجوية الكيميائية.

لأن التجوية الكيميائية تحلل بعض معادن الصخر وتحولها إلى مكونات معدنية جديدة أضعف وأقل تماسكاً من المعادن الأصلية مما يساعد ويسرع تأثير عمليات التجوية الميكانيكية التي تسير جنباً إلى جنب مع التجوية الكيميائية حيث تتفكك وتتفتت الطبقة السطحية للصخر

40- تخير الإجابة الصحيحة :

عند زراعة القمح في شهر فبراير، ما يحدث له في شهر أبريل هو


- أ) ازهار فقط .
- ب) ازهار ثم اثمار .
- ج) نمو خضري فقط .
- د) ازهار واثمار معا .

41- اكتب المصطلح العلمي للعبارة التالية :
 " خليط من بقايا مواد عضوية متحللة ومواد معدنية متدرجة الحجم وتختلف درجة تشابهها باختلاف تأثير عوامل الجو ."

التربة الوضعية

42- تخير الاجابة الصحيحة :

يتميز النهر الموضح بالشكل بـ



أ انحدار شديد.

ب زيادة الترسيب.

ج زيادة النحت.

د تكوين المياندرز.

Mr.Moussa AlSayed

43- اختر الإجابة عن أحد السؤالين (أ) أو (ب):

(أ) اذكر طريقتين لعلاج استنزاف المعادن .

(ب) اذكر طريقتين لعلاج الصيد الجائر .

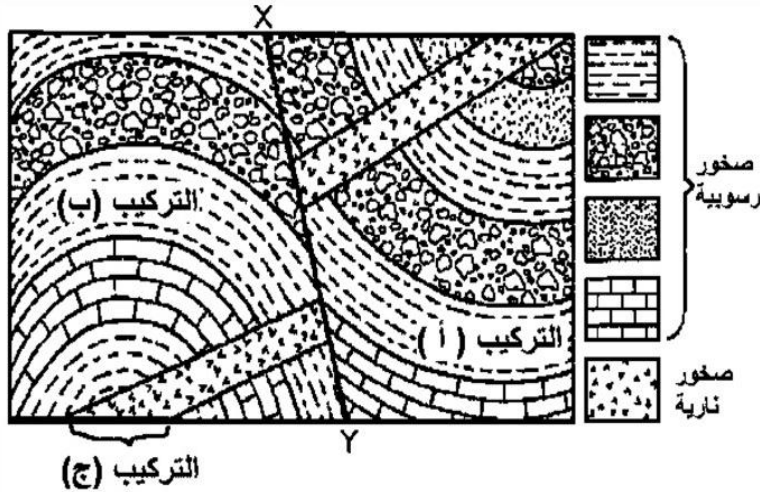
(أ) علاج استنزاف المعادن

- ١- استخدام اللدائن (البلاستيك) فى صناعة المواسير بدل المعادن الغير متجددة
- ٢- استخدام الطمى والفلسبار فى صناعة الفخار والسيراميك (أوانى الطهى) بدل المعادن الغير متجددة

- ٣- إعادة استخدام بطاريات السيارات بعد معالجتها
- ٤- إعادة معالجة وتشكيل المصنوعات البلاستيك والمصنوعات الزجاجية واستخدامها
- ٥- إعادة صهر وتشكيل واستخدام المعادن الخردة الغير صالحة للاستعمال

(ب) علاج الصيد الجائر :

- ١- ترشيد قطع الأشجار وترشيد الصيد فى البر والبحر
- ٢- إنشاء المحميات الطبيعية للمحافظة على الأنواع النادرة المهددة بالانقراض
- ٣- إنشاء مزارع الأسماك والقشريات لتوفير البروتين
- ٤- إصدار قوانين تجرم الصيد لأنواع ومواسم محددة وفى عمر محدد حتى تتكاثر هذه الأنواع
- ٥- رفع الوعى بأهمية الأحياء وذلك لحمايتها والمشاركة فى كافة الاتفاقيات الدولية



44- من الشكل الذي

أمامك، أجب :-

أولاً: تعرف

على التركيبين

(أ) و (ب) .

ثانياً: اذكر سبب

تكون التركيبين

(أ) و (ب) .

ثالثاً: تعرف

على التركيب

(X - Y) .

أولاً : التركيب (أ) طية مقعرة
التركيب (ب) طية محدبة

ثانياً : سبب تكوين الطيات تعرض الطبقات لقوى ضغط

ثالثاً : التركيب (X-Y) فالق معكوس



45- أمامك عينتين لصخر

(أ) ، وصخر (ب) :

أولاً: تعرف على

الصخر (أ) . ثم

صنّفه من حيث

نسيجه .

ثانياً: تعرف على الصخر (ب) ثم وضح نوعه

أولاً : الصخر (أ) : صخر الأنديزيت وهو صخر ناري متوسط بركاني نسيجه دقيق التبلور

ثانياً: الصخر (ب) : صخر البريشيا وهو صخر رسوبي فتاتي من رواسب الزلط

الأستاذ / موسى السيد خبير تدريس الأحياء والجيولوجيا

ت / ٠١٠٩٩٣٧٨٢٠٦

انتهت الاسئلة



وزارة التربية والتعليم

مديرية التربية والتعليم بمحافظة :

امتحان تجريبي شهادة إتمام الدراسة الثانوية العامة

نموذج ثانوية عامة

المادة : الجيولوجيا والعلوم البيئية

التاريخ : / / ٢٠١

زمن الإجابة : ثلاث ساعات

عدد أوراق الإجابة (١٤) ورقة

بخلاف الغلاف

وعلى الطالب مسؤولية المراجعة

والتأكد من ذلك قبل تسليم الكراسة



مجموع الدرجات

[illegible]

رقم المراقبة

مجموع الدرجات بالحروف :

إمضاءات المراجعين :

عدد أوراق الإجابة (١٤) ورقة

بخلاف الغلاف

وعلى الطالب مسؤولية المراجعة

والتأكد من ذلك قبل تسليم الكراسة

وزارة التربية والتعليم

امتحان تجريبي شهادة إتمام الدراسة الثانوية العامة

المادة : الجيولوجيا والعلوم البيئية

التاريخ : / / ٢٠١

زمن الإجابة : ثلاث ساعات

رقم المراقبة

اسم الطالب (رابعيًا) /

المقدمة :

رقم الجلوس :

الإدارة :

المحافظة :

-1

-2

توقيع الملاحظين بصحة البيانات :

ومطابقة عدد أوراق كراسة الإجابة

عند استلامها من الطالب .

أجب عن الأسئلة الآتية :

الأسئلة من (1 - 6): أختار الإجابة الصحيحة:

1.

تنشأ الطيات بسبب تجعد صخور القشرة الأرضية نتيجة تعرض الصخور لـ

- أ) موجات زلزالية.
- ب) عوامل بيئية ومناخية.
- د) قوى شد.
- ج) قوى ضغط.

2.

تعتبر ثلاثية الفصوص من دلائل العصر

- أ) الكمبري.
- ب) الأوردوفيشي.
- ج) الترياسي.
- د) الطباشيري.

3.

عند البحث عن البترول والغاز فمن المتوقع تواجدها في صخور

- أ) رملية
- ب) الرخام
- ج) الجرانيت
- د) الطفل

Mr.Moussa AlSayed

4.

من الكائنات الى تلجأ الى التحوصل

- Ⓐ البكتيريا
- Ⓑ الحيوانات الأولية
- Ⓒ البرمائيات
- Ⓓ الرخويات

5.

من طرق علاج اهدار الماء وتلوثه

- Ⓐ تحلية مياه البحار
- Ⓑ الري بالغمر
- Ⓒ تعميم الزراعة وحيدة المحصول
- Ⓓ عمل خزانات لمياه الصرف الزراعي

6.

وجود البريشيا شاهد على وجود

- Ⓐ فالق زحفي.
- Ⓑ طية محدبة.
- Ⓒ عدم توافق متباين.
- Ⓓ تدرج طبقي.

Mr.Moussa AlSayed

الأسئلة من (7 - 12)

اكتب المصطلح العلمي الذي تدل عليه كل عبارة من العبارات التالية:

7.

أحد الوسائل المستخدمة في تحديد عمر الأرض بالاستعانة بعلم الأحافير القديمة .

تطور الحياة

Mr.Moussa AlSayed

8.

أحد افرع علم الجيولوجيا يدرس الخواص الميكانيكية والهندسية للصخور بهدف إقامة المشروعات المختلفة .

الجيولوجيا الهندسية

9.

موارد سائلة غير متجددة توجد في البيئة بكميات محدودة تكونت في باطن الأرض منذ ملايين السنين .

البتترول

10.

وجود صخرين لهما نفس التركيب المعدني ويختلفان في النسيج لاختلاف مكان النشأة .

الصخور النارية المكافئة

11.

المستوى الذى يقسم البلورة الى نصفين متماثلين تماما

مستوى التماثل البلورى

Mr.Moussa AlSayed

12.

ألسنة تسد الخلجان فتكون جزء مائي شبه مغلق على شكل بحيرة

الحواجز

الأسئلة من (13 - 18):

وضح السبب في كل من الحالات الآتية:

13.

ظهور خاصية التورق في الطفل .

بسبب تضغط مكونات الصخور الطينية وتماسكها فتظهر
بها صفة التورق أو التصفح

14.

أطلاق العالم الألماني فيجنر نظريته.

لقت نظره ونظر العلماء :-

١- التشابه الكبير بين الشاطيء الشرقي لشمال وجنوب

أمريكا وتعرجات الشاطيء الغربي لأوربا وأفريقيا

(كما لو كانت قطعة واحدة وتمزقت)

٢- التشابه بين صخور القارات المختلفة وبقايا الحياة

القديمة عليها

Mr.Moussa AlSayed

15.

تحليل الموجات الزلزالية الداخلية يدلنا على وجود البترول والماء الجوفي .

□ لأن الموجات الزلزالية الأولية موجات طولية تنشر خلال

الأجسام الصلبة والسائلة والغازية

□ تنتقل خلال الأجسام الصلبة فقط ولا تمر خلال السوائل أو

الغازات

16.

هناك اختلاف بين مخروط الدلتا والدلتا الجافة .

❏ مخروط الدلتا : رواسب دلتاوية بمنطقة الدلتا تمتد شمالاً لأكثر من ١٠ كيلومترات داخل البحر المتوسط وهى رواسب مصنفة ومتدرجة مع زيادة العمق

١- رمل قرب الشاطئ

٢- غرين ثم صلصال فى المناطق الأعمق وتحوى الرمال السوداء

❏ أما الدلتا الجافة فى رواسب للسيول يبدأ الترسيب بالجلاميد والحصى الكبير عند مخرج الخور ويتناقص حجم الرواسب تدريجياً حتى تنتهي بالطين والرمل عند نهاية الترسيب

Mr.Moussa AlSayed

17.

وجود حبيبات جيرية متماسكة على ساحل البحر المتوسط .

بسبب تكون الكتبان الجيرية فعندما تصطدم الرياح المحملة بهذه الحبيبات بنتوء أو عائق أو مرتفع يقلل من سرعتها أو يوقفها فإنها تلقي بما تحمله على هيئة كتبان جيرية مثل الممتدة على الساحل بين الإسكندرية ومرسى مطروح

.....
.....

18.

ينعدم التماثل البلوري بين نصفي البلورة العلوى والسفلى في فصيلة الثلاثي.

لأن البلورة في فصيلة الثلاثي لا يوجد بها مستوى تماثل أفقى

الأسئلة من (19 - 20) : Mr.Moussa AlSayed

قارن بين كل مما يأتى:

19.

خاصيتي اللون وعرض الألوان للمعادن. (من حيث التعريف فقط)

اللون في المعادن : خاصية بصرية تعتمد على طول الموجات الضوئية التي تنعكس من المعدن وتعطي الإحساس باللون
أما عرض الألوان : فهو تغير لون المعدن مع تحريك المعدن أمام عين الإنسان في الاتجاهات المختلفة

20.

حفريات العصر الترياسي و حفريات العصر الطباشيري . (من حيث الثدييات فقط)

العصر الترياسي : أول الثدييات (ثدييات أولية)
أما العصر الطباشيري : ظهرت الثدييات المشيمية (الحقيقية)

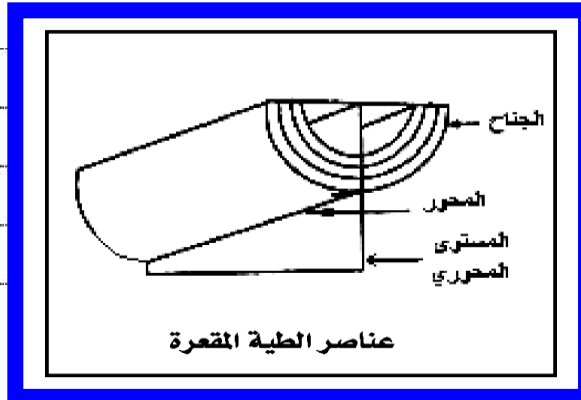
21. اكتب نبذة مختصرة عن :

تأثير التجوية الكيميائية على صخر الجرانيت.

- أ- معدن الفلسبار : ضعيف جداً تحت تأثير حمض الكربونيك الناتج من ذوبان CO_2 في مياه الأمطار ويتحلل الفلسبار ويتحول إلى معدن جديد هو الكاوينات ويظهر ذلك في انطفاء بريقه وتحوله إلى الحالة الترابية
- ب- الميكا : (خاصة الميكا السوداء) تتحلل أيضاً إلى أحد معادن من فصيلة الطين .
- ج- الكوارتز : لا يتأثر بالتجوية الكيميائية
- الخلاصة : أن صخر الجرانيت عند تعرضه للتجوية الكيميائية يتحلل الفلسبار إلى كاولينات والميكا إلى معادن فصيلة الطين ويبقى الكوارتز دون

Mr.Moussa AlSayed

22. ارسم نموذج يوضح أجزاء الطية المقعرة .



23. اذكر فوائد دراسة الموجات الزلزالية (في حدود المساحة المحددة).

- أهمية دراسة الموجات الداخلية :
- بدراسة هذه الموجات الداخلية تعرف العلماء على
- ١- التركيب الداخلي للأرض
 - ٢- تحديد مركز الزلزال

الأسئلة من (24 - 25)

ما دور هؤلاء العلماء في مجال ما درست؟

24

العالم جيمس هاتون .

أول من ربط بين أنواع الصخور الثلاثة في دورة الصخور في الطبيعة وتأثير الغلافين الجوي والمائي وما يحدث بينها من عمليات جيولوجية تؤدي إلى تغير نوع الصخور إلى نوع آخر

Mr.Moussa AlSayed

25

البروفيسور إيرى .

أجرى دراسات جيوفيزيكية أثبتت أن:
سلاسل الجبال المنتشرة بالقشرة الأرضية في حالة توازن أيزو استاتيكي مع ما يجاورها من سهول ومنخفضات

الأسئلة من (26 - 31)

ما النتائج المترتبة على كل مما يأتي؟

26.

تعرض صخور الطفل لضغط كبير وحرارة منخفضة نسبياً تحت سطح الأرض .

يتحول الطفل إلى صخر الاردواز المتحول
(المستخدم في أعمال البناء)

Mr.Moussa AlSayed

27.

دفن المواد الهيدروكربونية إلى عمق من 2 - 4 كم وتعرضها لدرجة حرارة من
70 - 100 °م.

تتحول إلى الحالة السائلة والغازية للهيدروكربون مكونة
البتروول والغاز الطبيعي ثم تهاجر إلى صخور الخزان
المسامية (الرمل والحجر الرملي والحجر الجيري أحياناً)

28

الاسراف في قطع الاشجار .

الآثار السلبية المترتبة على القطع الجائر لأشجار الغابات :

- ١- نقص المواد الأولية اللازمة لصناعة الأخشاب والألياف الصناعية والورق
- ٢- تشريد الحيوانات التي تستوطن الغابات مما قد يؤدي إلى انقراضها
- ٣- تدهور التربة والنبات الطبيعي لتعرضهم لعوامل الجفاف
- ٤- تعرض المناطق المحيطة بالغابات المستنزفة لأخطار الرياح والسيول
- ٥- ارتفاع درجة الحرارة نتيجة لزيادة ثانی أكسيد الكربون
- ٦- القضاء على النظام الإيكولوجي(الغابة)

Mr.Moussa AlSayed

29

زيادة البخر وقلة الامطار في بعض البحار .

تزداد الملوحة في هذه البحار (وقد تصل إلى ٤٠ جم/لتر كما في البحر الأحمر)

30

تأثير الحركات الأرضية على الصخور الرسوبية البحرية المتراكمة تحت سطح البحر .

تأثير الحركات الأرضية على الصخور الرسوبية البحرية يظهر فى :

- ١- وجود صخور رسوبية من أصل بحرى أعلى قمم الجبال والهضاب الصخرية كما في جبال الهيمالايا (قمة افر ست على ارتفاع ٨٨٤٠ متر فوق سطح البحر)
- ٢- وجود طبقات الفوسفات (في بعض الأقاليم) أعلى بكثير من مستوى سطح البحر وهي في الأصل بقايا حيوانية فقارية (كانت تعيش في بيئة ضحلة من الوسط البحرى) .

- ٣- وجود الشعاب المرجانية في أماكن مرتفعة فوق سطح البحر

Mr.Moussa AlSayed

31

تعرض الكوارتز لطاقة إشعاعية عالية .

يتكون الكوارتز المدخن (بلون الدخان الرمادي) : لكسر بعض الروابط بين ذرات عناصره للتعرض لطاقة إشعاعية عالية

الأسئلة من (32 - 33)

ما الفرق بين كل مما يأتي؟

32.

البريشيا البركانية والمقذوفات البركانية.

البريشيا البركانية : قطع ذات زوايا حادة تتراكم حول البركان تنتج من تكسير أعناق البراكين
المقذوفات البركانية : كتل صخرية بيضاوية الشكل تتألف من مواد الالفا عند تجمدها بالقرب من سطح الأرض

Mr.Moussa AlSayed

33.

مرحلة النمو الخضري ومرحلة النمو الزهري .

مرحلة النمو الخضري : تحدث عند إنبات البذور حيث تنقسم خلايا الجنين مكونة الجذر والساق والأوراق
مرحلة الإزهار والإثمار: تبدأ بعد فترة من النمو الخضري نتيجة حدوث تفاعلات داخلية ينتج عنها تكوين الإزهار ثم الثمار وتتأثر بكمية الضوء

الأسئلة من (34 - 39)

اذكر فائدة أو أهمية أو استخدام واحد لكل مما يأتي:

34.

فائدة واحدة للتربة.

فوائد التربة :

- ١- هي الطبقة المناسبة لنمو النباتات
- ٢- تعمل على تخزين وتنقية المياه الجوفية
- ٣- وسط مناسب لتحليل الكائنات الميتة
- ٤- ملائمة لمعيشة الكثير من الحشرات والحيوانات

Mr.Moussa AlSayed

35.

أهمية واحدة لخاصية الصلادة في المعادن .

أهمية الصلادة : التمييز بين :

- الأحجار الكريمة الطبيعية غالية الثمن: فالمعادن الكريمة والثمينة بالإضافة إلى ألوانها الجذابة إلا أنها لا تتخدش بسهولة حيث أن أغلبها تزيد صلابتها عن ٧,٥
- أحجار الزينة المقلدة صناعا من مواد زجاجية وأكاسيد ألومنيوم (تقل صلابتها عن ٦ بينما ألوانها جذابة)

36

استخدام واحد لمعدن الصوان .

استخدمه الإنسان القديم في عمل السكاكين والحراب
(كأسلحة للصيد والدفاع عن النفس)

Mr.Moussa AlSayed

37

فائدة واحدة للبراكين .

فوائد البراكين.

- ١- تضيف إلى سطح القشرة الأرضية ملايين من الأطنان سنوياً من الصخور البركانية التي : أ) تكون غطاءات كبيرة الامتداد
ب) تظهر على شكل جبال أو هضاب بركانية
- ٢- ظهور جزر بركانية جديدة: عند حدوث ثورات بركانية تحت سطح الماء في البحار والمحيطات .
- ٣- تكوين تربة خصبة جداً: نتيجة إضافة الرماد البركاني إلى التربة .
- ٤- تكوين بحيرات مستديرة: من تجمع مياه الأمطار في فوهات البراكين الخاملة
- ٥- تكوين صخور متحولة نتيجة ملامسة الصهير للصخور المحيطة به

38

استخدام واحد لمقياس ميركالي المعدل .

مقياس ميركالي المعدل أكثر مقاييس شدة الزلزال استخداماً في الولايات المتحدة والعالم وهو مقياس مقسم إلى ١٢ قسم تتراوح فيه الشدة بين الزلازل التي لا يشعر بها الناس والزلازل التي تسبب الدمار الشامل

Mr.Moussa AlSayed

39

فائدة واحدة للمد والجزر .

المد والجزر : يحمل الفتات بعيداً عن الشاطئ حيث تتكون عينات مدرجة على الشاطئ تدل كل منها على منسوب الماء في وقت المد والجزر.

كما أن بعض أحياء الشواطئ البحرية التي تتعرض للمد والجزر تنشط عندما تغمرها مياه المد وتبقى غير نشطة عند تعرضها للجزر (أثناء انحسار مياه المد)

40.

تكلم عن نشأة الغلاف المائي (في حدود المساحة المحددة)

- ١- أثناء وبعد تكوين كل من اليابسة والغلاف الهوائي حدث تكثف شديد لكميات هائلة من بخار الماء [الناتجة من الثورات البركانية القديمة] .
- ٢-أحدثت أمطاراً غزيرة انهمرت على اليابسة لتملأ الفجوات والشغرات والأحواض الضخمة [التي كانت قد تشكلت على سطح الأرض أثناء تصلبها وتحجرها] مكونة الغلاف المائي

Mr.Moussa AlSayed

الأسئلة من (41 - 43)

ما المقصود بكل مما يأتي؟

41.

الانتحاء الضوئي .

الانتحاء : هو الحركة الموقعية للنبات (دون انتقال النبات) نتيجة للنمو في اتجاه يحدده موقع المؤثر (الضوء) من النبات
ساق النبات منحنية ضوئية موجبة بسبب استطالت خلايا الساق البعيدة عن الضوء بدرجة أكبر من الخلايا المواجهة للضوء نظراً لأن تركيز الأوكسينات (محفزات النمو) في الجانب المظلم يكون أعلى من الجانب المضيء . فستجيب خلايا الساق للنمو بصورة أكبر في الظلام عنها في الضوء .

42.

البيئة الطبيعية .

البيئة الطبيعية :

هى البيئة التى يشترك فيها الإنسان مع سائر الكائنات الحية

Mr.Moussa AlSayed

43.

الفالق الدسر .

الفالق الدسر (الزحفي) : أحد أنواع الفوالق المعكوسة إلا أنها يتميز

١- مستوى الفالق أفقي تقريبا (قليل الميل) .

٢- زحفي: حيث تزحف الصخور أفقيا بمسافة على مستوى الفالق

الأسئلة من (44 - 45)

الرسم التالي يمثل انواع لحركة الألواح التكتونية



أجب عن الأسئلة الآتية

44.

ما نوع الحركة في كل من (1) ، (2) ؟

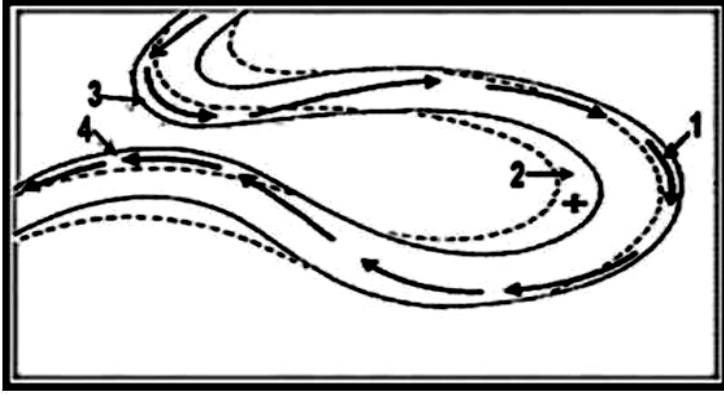
نوع الحركة في (١) إنزلاقية
أما الحركة في (٢) تباعدية

Mr.Moussa AlSayed

45.

اذكر مثال للحركة في كل منهما .

صدع سان أندرياس وخليج العقبة مثال للحركة الإنزلاقية (١)
أما البحر الأحمر مثال للحركة التباعدية (٢)



الأسئلة من (46 - 48)

من الرسم المقابل اجب عما يأتي:

46.

ما الذي يمثله الشكل ؟

الشكل يمثل تكوين مياندريز النهر

Mr.Moussa AlSayed

47.

اذكر العمليات الجيولوجية التي تحدث في الأجزاء (1) ، (2)

(١) الجانب الخارجى لمسار المياه يحدث فيه عملية نحت
(٢) الجانب الداخلى لمسار المياه يحدث فيه عملية ترسيب

48.

ما نتيجة اتصال المنطقة (3) بالمنطقة (4) ؟

يقطع النهر مساراً جديداً تاركاً قوساً على صورة بحيرة
قوسية (هلالية)

Mr.Moussa AlSayed الأسئلة من (49 - 54)

أعد كتابة العبارات الآتية بعد تصحيح ما تحته خط:

49.

يوجد مصهور الحديد والنيكل عند 3 مليون ضغط جوى في منطقة الوشاح.

اللب الخارجى

50.

وجود رواسب الملح الصخري بالمناطق الباردة يعتبر احد الادلة المؤيدة للحركات البانية
القارات

الانجراف القارى

51

تعتبر الامونيات من الحفريات المميزة للعصر السيلوري .

الترياسي

52

من الحيوانات العشبية الصحراوية التي لا تقرب الماء طيلة حياتها الزواحف .

اليرابيع

Mr.Moussa AlSayed

53

صخور متداخلة تحوي نسبة من السيليكات أكثر من 66% هي صخور الديوليرايت .

الميكروجرانيت

54

مجموعة كبيرة من الديدان والقشريات الدقيقة والأوليات والبرقات المختلفة تعرف بالهائمات النباتية .

الهائمات الحيوانية

الأسئلة من (55 - 60)

ماذا يحدث في الحالات الآتية ؟

55.

تجمد الماجما عالية اللزوجة بين الطبقات بعد ضغطها على ما فوقها.

يتكون اللاكوليث الذي يعلوه طيه محدبه

56.

ملاسة الماجما لصخر تركيبه الكيميائي كربونات الكالسيوم في جوف الأرض .

يتكون صخر متحول هو الرخام

Mr.Moussa AlSayed

57.

وفرة المغنيسات في المنطقة الشاطئية .

وفرة الإنتاج السمكي لأنها تساعد في تكوين البروتين في خلايا النباتات البحرية التي تنمو وتزدهر وتزداد الحيوانات التي تتغذى عليها وتكثر الأسماك تبعاً لذلك.

58

تباين الظروف البيئية على مدار الزمن الجيولوجي .

ينتج عن تغير الظروف البيئية :

- ١- تأثر المجموعات الحياتية (حيوانية أو نباتية) : حيث تحدث هجرات أو تكدس في مناطق معينة من سطح الأرض وندرتها في مناطق أخرى.
- ٢- حدوث تغيرات وراثية: بسبب تغيير البيئة تؤدي بعد فترة من الزمن إلى ظهور أنواع متطورة أكثر تكيفا للظروف الجديدة

59

تصادم لوحين تكتونيين أحدهما قاري والآخر محيطي معاً .

نتيجة الاختلاف بين كثافة اللوحين فيغوص اللوح المحيطي أسفل اللوح القاري في طبقة الوشاح وينصهر كلياً وتكون سلاسل جبال مثل :- جبال الأنديز في أمريكا الجنوبية كما يظهر ذلك أيضاً في البحر المتوسط

Mr.Moussa AlSayed

60. الرعي في مناطق الأعشاب .

يؤدي إلى تآكل الغطاء النباتي وسيادة الأنواع غير المستساغة أو التي تكمل دورة حياتها في فترة وجيزة فلا تتمكن الحيوانات من القضاء عليها

أنتهت الأسئلة

الأستاذ / موسى السيد خبير تدريس الأحياء والجيولوجيا
ت / ٠١٠٩٩٣٧٨٢٠٦



وزارة التربية والتعليم

مديريّة التربية والتعليم بمحافظة :

امتحان تجريبي شهادة إتمام الدراسة الثانوية العامة

نموذج ثانوية عامة

المادة : الجيولوجيا والعلوم البيئية

التاريخ : / / ٢٠١

زمن الإجابة : ثلاث ساعات

٧

عدد أوراق الإجابة (١٠) ورقات
يخلاف الغلاف

وعلى الطالب مسؤولية المراجعة والتأكد من ذلك قبل تسليم الكراسة

مجموع الدرجات

[illegible]

رقم المراقبة

مجموع الدرجات بالحروف :

إمضاءات المراجعين :

عدد أوراق الإجابة (١٠) ورقات
يخلاف الغلاف
وعلى الطالب مسؤولية المراجعة
والتأكد من ذلك قبل تسليم الكراسة

وزارة التربية والتعليم

امتحان تجريبي شهادة إتمام الدراسة الثانوية العامة

المادة : الجيولوجيا والعلوم البيئية

التاريخ: / / ٢٠١

زمن الإجابة : ثلاث ساعات

رقم المراقبة

نموذج ثانوية عامة

اسم الطالب (رابعيًا) /

المقدمة:

رقم الجلوس :

-1-

-2-

توقيع الملاحظين بصحة البيانات :
ومطابقة عدد أوراق كراسة الإجابة
عند استلامها من الطالب .

أجب عن الأسئلة الآتية :

1.

اكتب المصطلح العلمى الذي تدل عليه العبارة التالية:
فتات تتكون عند قدم الجبال نتيجة تكرار تجمد وذوبان المياه في شقوق وفواصل الصخور خلال عملية التجوية الميكانيكية .

المنحدر الركامى

2.

اكتب المصطلح العلمى الذي تدل عليه العبارة التالية:
صخور رسوبية فتاتية يستدل منها على وجود عدم توافق .

الكونجلوميرات

3.

ما المقصود بالدبال؟

الدبال : هو ناتج تحلل أوراق الأشجار المتساقطة بصفة دورية في التربة يغذى التربة ويحافظ على خصوبتها

Mr.Moussa AlSayed

4.

أختر الإجابة الصحيحة :

في الحركات البائية للجبال ، تتعرض الطبقات لعمليات الطى العنيف بواسطة وجود.....

- Ⓐ فوالق معكوسة
- Ⓑ فوالق ذات حركة أفقية
- Ⓒ فوالق قليلة الميل وإزاحة جانبية كبيرة
- Ⓓ فوالق شديدة الميل وإزاحة جانبية قليلة

.5

اكتب المصطلح العلمى الذي تدل عليه العبارة التالية:
حبيبات صغيرة الحجم وخفيفة الوزن من الطين على هيئة مواد عالقة فى الماء .

الحمل المعلق للأنهار

.6

ما المقصود بقولنا أن الضغط الواقع على جسم طائرة 0.5 ضغط جوي؟

أى أن هذه الطائرة على ارتفاع ٥٠ كم فوق سطح البحر

.7

فسر العبارة الآتية : بلورة الهاليت تنتمي لفصيلة المكعب .

النظام البلورى لمعدن الهاليت يتكون من اتحاد أيونات الصوديوم الموجبة مع أيونات الكلور السالبة فى نظام تكرارى ينتج عنه نظام بلورى مميز لمعدن الهاليت يكون على شكل مكعب حيث تشتمل البلورة على ثلاث محاور بلورية متساوية فى الطول ومتعامدة الزوايا $\gamma = \beta = \alpha$, $a_3 = a_2 = a_1$

Mr.Moussa AlSayed

.8

أختر الإجابة الصحيحة :

تتكون رواسب الهوابط من

Ⓐ كبريتات الكالسيوم المائية

Ⓑ كربونات الكالسيوم والماغنسيوم

Ⓒ كبريتات الكالسيوم اللامائية

Ⓓ كربونات الكالسيوم

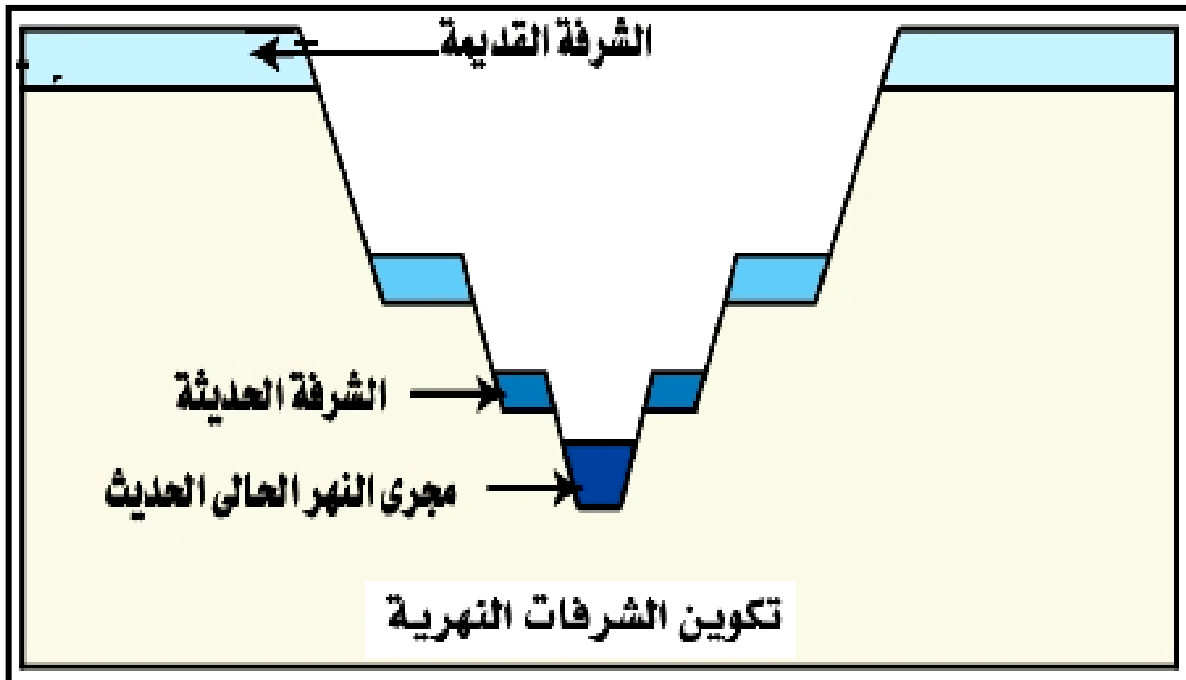
9

اشرح أسباب حركة الألواح التكتونية .

أسباب حركة الألواح التكتونية : تحدث الحركة بسبب :
تباين توزيع الحرارة فى الوشاح فتتكون تيارات حمل دورانية
فى الصهارة الموجودة فى الطبقة العليا من الوشاح وهى نوعان :-
١- تيارات هابطة :- تسبب تكوين أغوار عميقة

Mr.Moussa AlSayed

10

وضح بالرسم فقط مع كتابه البيانات :
تكوين الشرفات النهرية .

11

اكتب المصطلح العلمي الذي تدل عليه العبارة التالية:
نباتات حولية تظهر بعد سقوط الامطار وتتلاشي في فصل الصيف .

الكساء الخضرى المؤقت

12

أختار الإجابة الصحيحة :

من أمثلة الموارد المؤقتة التي سوف تختفى من البيئة عاجلا أو آجلا

- ☐ أ الماء
☒ ب الفحم
☐ ج التربة
☐ د الهواء

Mr.Moussa AlSayed

13

ما إسم الصخر؟
صخر من المتبخرات تركيبه الكيميائي كبريتات الكالسيوم المائية .

الجبس

14

اذكر استخداماً واحداً لما يأتي:
البلاكتون بالنسبة للكائنات البرية .

**تجرى البحوث حول تنمية الهائمات النباتية والحيوانية
كغذاء للإنسان أو علف للماشية لتوافرها وسرعة تكاثرها**

15

أعد كتابة العبارة التالية بعد تصويت ما تحته خط :
إتجاه ازاحة الكتبان الساحلية هو إتجاه الرياح الساندة .

الكتبان المستطيلة (الغرود)

16

اذكر استخداماً واحداً لما يأتي:
السليوز .

صناعة الورق والملابس

Mr.Moussa AlSayed

17

ما المقصود بالتواقت الضوئي؟

التواقت الضوئي : هو العلاقة بين فترة الإضاءة التي
يحصل عليها النبات وفترة الإظلام التي يتعرض لها
النبات بالتعاقب كل ٢٤ ساعة

18

أعد كتابة العبارة التالية بعد تصويت ما تحته خط :
تدهورت مراعى الساحل الشمالى نتيجة للرعى فى مناطق الأعشاب وقطع الشجار .

الرعى الجائر والزيادة السكانية

19

ناقش ما يأتى: تقوم الدولة بجهود متعددة لمكافحة تلوث نهر النيل.

- جهود الدولة لمكافحة تلوث نهر النيل**
- ١- وضع قوانين لحماية النيل من التلوث
 - ٢- توعية جميع أفراد الشعب لأهمية المحافظة على نهر النيل
 - ٣- تحديد نسب الملوثات المسموح صرفها على نهر النيل
 - ٤- اختيار المبيدات والأسمدة التى لا تلوث المجارى المائية
 - ٥- إلزام المصانع بمعالجة مياه الصرف الصناعى قبل صرفها فى النيل
 - ٦- التفتيش المستمر على المجارى المائية وإزالة أسباب تلوثها

20

قارن بين:

العمل الهدمي الميكانيكي لكل من الأمطار و المياه الأرضية.

الهدم الميكانيكي للأمطار : يعتمد على اصطحاب الأمطار برياح شديدة تساعد على نقل المواد المفككة أو تفتت أجزاء أخرى

مثال: نحت الأمطار الساقطة لأوجه الصخور الجيرية فتتكون فى النهاية مجموعة من الأخاديد بينها جروف قليلة الارتفاع (كما فى شبه جزيرة سيناء)

الهدم الميكانيكي للمياه الأرضية : يتمثل فى انهيار كتل الصخور على جوانب السفوح الجبلية نتيجة تشبع كتل الصخور المسامية (أسفلها) بالمياه الأرضية

Mr.Moussa AlSayed

21

أختر الإجابة الصحيحة :

معدن وزنه النوعي (7.5) ينتمي لمجموعة المعدنية

- ١) السيليكات
- ٢) الكربونات
- ٣) الكبريتيدات
- ٤) الأكاسيد

22

اكتب المصطلح العلمى الذي تدل عليه العبارة التالية:
النسبة المئوية للمسام والفراغات الموجودة داخل الصخر .

المسامية

23

أختار الاجابة الصحيحة :

أي الكائنات الآتية لها القدرة على إعادة عناصر الكربون والنيتروجين والفوسفور للبيئة
مرة أخرى

- ① الأوليات الحيوانية والفطريات
② أسماك القاع والطحالب
③ البكتريا الرمية وفطريات التطفل
④ البكتريا والفطريات الرمية

Mr.Moussa AlSayed

24

فسر العبارة الآتية : صخر النيس يحتوي على بلورات من الكوارتز والميكا والفلسبار .

لأن صخر النيس متحول من تعرض الجرانيت
للحرارة والضغط حيث أن الجرانيت يتكون من
الفلسبار البوتاسى والميكا والكوارتز بشكل أساسى

25

أعد كتابة العبارة التالية بعد تصويت ما تحته خط :
يستخدم الطمي في صناعة الفخار والسيراميك بدل المعادن غير المتجددة.

الفلسبار

26

ما النتائج المترتبة على نمو شعاب مرجانية أمام خليج ؟

تقفل الشعاب المرجانية فتحة الخليج وتحوله إلى بحيرة

Mr.Moussa AlSayed

27

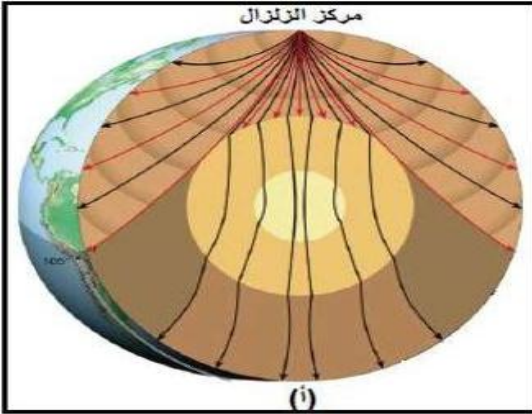
ما إسم الصخر؟
صخر ناري يحتوي على الأوليفين والبيروكسين وفلسبار غنى بالكالسيوم ونسيجه بورفيرى.

الدوليرايت

28

اكتب المصطلح العلمى الذي تدل عليه العبارة التالية:
آخر المعادن تبلوراً في الفرع غير المتواصل في متسلسلة تفاعل بوين .

الميكابيوتيت (الميكالسوداء)



29. وقع زلزال وكان مركزه كما هو موضح بالشكل الذي أمامك. ادرس الشكل جيداً ، ثم أجب عن الأسئلة:
ما أهم خصائص الموجات التي يمكن تسجيلها عند محطة الرصد (أ) ؟

الموجات الأولية (أ):

- موجات طولية (ابتدائية) سريعة جداً
- أول ما يصل إلى آلات الرصد الزلزالية
- تنتشر خلال الأجسام الصلبة والسائلة والغازية

Mr.Moussa AlSayed

30. ما وحدات القياس المستخدمة لقياس كل من شدة الزلزال ومقدار الزلزال؟

وحدة قياس شدة الزلزال هي الدرجة على مقياس ميركالي
وحدة قاس قدر الزلزال هي الدرجة على مقياس ريختر

31. ما النتائج المترتبة على وجود طبقة صخرية رسوبية تحتوي حفريات الأمونيات والتدنيات الأولية وتعلو مباشرة صخور رسوبية جيرية تحتوي ثلاثية الفصوص؟

يدل على وجود سطح عدم توافق بين الطبقتين لانقطاع الترسيب الذي يدل عليه غياب رواسب العصور الأوردوفيشي والسيلوري والديفوني والكربوني والبرمي من حقبة الحياة القديمة وهي فترات طويلة تصل إلى مئات الملايين من السنين

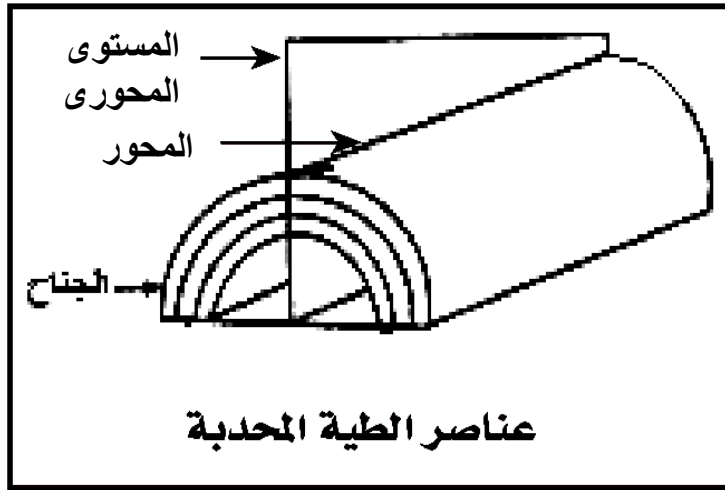
32

أعد كتابة العبارة التالية بعد تصويت ما تحته خط :
تتأثر الحركة السطحية للمياه (الأمواج) بحركة دوران الأرض .

١- إتجاه الرياح ٢- حركة المد والجزر ٣- موقع الشاطئ من المساقط والمصببات

33

وضح بالرسم فقط مع كتابه البيانات على الرسم :
مكونات الطية المحدبة .



Mr.Moussa AlSayed

34

أختار الإجابة الصحيحة :

تكونت طبقات الفحم المتواجدة بمنطقة بدعه وثورا جنوب غرب سيناء في عصر تميز بـ

.....

- ١) النباتات الزهرية
- ٢) الأشجار الحشوية والسراخس
- ٣) الطحالب الخضراء
- ٤) الطحالب الخضراء

35

فسر العبارة الآتية : بعض الأنهار تكون دلتا وبعضها لا يكون دلتا .

تتكون دلتا لبعض الأنهار عندما تصب في بحر يخلو من التيارات الشديدة فيترسب ما تحمله مياه الأنهار أما إذا كان البحر كثير التيارات ويميل قاعه للهبوط لا تتكون دالات ولكن يكون مصبا عاديا فقط حيث تكتسح التيارات ما يرسبه النهر

Mr.Moussa AlSayed

36

ما المقصود بقولنا أن الوزن النوعي للجاليينا 7.5؟

أى أن النسبة بين كتلة حجم معين من الجاليينا إلى كتلة نفس الحجم من الماء هو 7.5

37

أعد كتابة العبارة التالية بعد تصويت ما تحته خط :
تنتشر الموجات الزلزالية الطويلة خلال الأجسام الصلبة والسائلة والغازية .

الموجات الزلزالية الأولية (الطولية)

38

فسر العبارة الآتية : تؤثر الأكسينات في انتحاء ساق النبات .

تستطيل خلايا الساق البعيدة عن الضوء بدرجة أكبر من الخلايا المواجهة للضوء نظرا لأن تركيز الأوكسينات (محفزات النمو) في الجانب المظلم يكون أعلى من الجانب المضيء فستجيب خلايا الساق للنمو بصورة أكبر في الظلام عنها في الضوء فينتحى الساق نحو الضوء

39

اذكر دور العلماء "أوليفر وإيزاكس وسايكس" في مجال الجيولوجيا

تقدم إيزاكس و أوليفر و سايكس سنة ١٩٦٨م بنظرية تكتونية الألواح التي تفسر أسباب وكيفية حركة الألواح التكتونية ونتائجها

Mr.Moussa AlSayed

40

ما النتائج المترتبة على رفع أحمال صخرية على صخر الجرانيت بفعل التعرية ؟

تتمدد الصخور لأعلى حيث لا مقاومة .
 ◻ يرى ذلك بوضوح في صخور الجرانيت حيث ينفصل سطحها المكشوف إلى قشور كروية الشكل ويساعد على إتمام هذا الانفصال تحلل معدن الفلسبار بالتجوية الكيميائية للجرانيت

41

ما النتائج المترتبة على زراعة القمح خلال فبراير ومارس ؟

ينمو خضرياً فقط دون أن يزهر و يثمر لعدم ملائمة العوامل البيئية للتغيرات الداخلية اللازمة لتكوين الأزهار والثمار

42

قارن بين: نشأة قوس جزر بركانية و نشأة صدع سان أندرياس .

◻ ينشأ قوس جزر بركانية نتيجة لحركة تقاربية للوحين المحيطيين :-
 يندس أحدهما تحت الآخر فيتكون أغوار بحرية عميقة و ينشأ قوس جزر بركانية
 ◻ نشأ صدع سان أندرياس نتيجة للحركة الانزلاقية للألواح :
 حيث تحدث حركة حافة لوح على حافة لوح آخر مكونة صدوع انتقالية عمودية مسببة تكسيراً أو تشوهاً وقد ينتج عنها براكين وزلازل

43

أعد كتابة العبارة التالية بعد تصويت ما تحته خط :
التوباز والكورانديوم من المعادن التي يمكن خدشها بقطعة زجاج ولا تخدشها العملة النحاسية .

الفلوريت والأباتيت

44

ناقش: رغم تشابه بلورة الثلاثي والسداسي إلا أنه يوجد إختلاف بينهما .

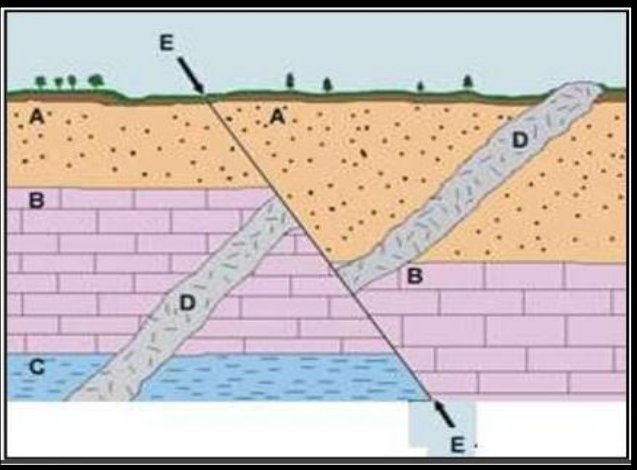
لأن بلورة السداسي تشتمل البلورة على ثلاث محاور بلورية أفقية متساوية فى الطول وتتقاطع مع بعضها فى زوايا متساوية ويتعامد عليهم محور رأسى سداسي التماثل يختلف عنهم فى الطول كما تحتوى على مستوى تماثل أفقى $c \neq a_3 = a_2 = a_1$
أما بلورة الثلاثي تشتمل البلورة على ثلاث محاور بلورية أفقية متساوية فى الطول وتتقاطع مع بعضها فى زوايا متساوية ويتعامد على مستواهم الأفقى محور بلورى رأسى ثلاثي التماثل ولا يوجد مستوى تماثل أفقى $c \neq a_3 = a_2 = a_1$

Mr.Moussa AlSayed

45

فسر العبارة الآتية : وفرة المغذيات تدل على وفرة الانتاج السمكي .

المغذيات هى أملاح النترات والفوسفات التى تنتشر فى المياه السطحية تساعد فى تكوين البروتين فى خلايا النباتات البحرية التى تنمو وتزدهر وتزداد الحيوانات التى تتغذى عليها وتكثر الأسماك تبعا لذلك



الأسئلة من (46 - 47) : افحص الرسم الذي أمامك ثم أجب عن الأسئلة :

46. ما الذى يمثله التركيب (E - E) ؟

اشرح اجابتك .

التركيب (E - E) يمثل فالق عادى حيث تتحرك صخور الحائط العلوى لأسفل بالنسبة لصخور الحائط السفلى

Mr.Moussa AlSayed

47. كيف تكون التركيب (D) وما تأثيره على الطبقة (B) والتي تحتوي على حفريات من الفورامينيفرا ؟

التركيب (D) يمثل عرق قاطع ينتج من تداخل المجما فى الصخور المحيطة بها بحيث تكون قاطعة لها تأثيره على صخور الحجر الجيرى يتسبب فى تحولها إلى صخر الرخام

48. ما النتائج المترتبة على زيادة البحر وقلة الأمطار فى بعض البحار ؟

تزداد الملوحة فى هذه البحار
(وقد تصل إلى ٤٠ جم/لتر كما فى البحر الأحمر)

49

ما النتائج المترتبة على فقدان السيول سرعتها عند خروجها من فتحة الخور ؟

عندما تخرج السيول من الأخوار وتفقد سرعتها وتنتشر على سطوح السهول ترسب ما تحمله على شكل مخروط السيل أو الدلتا الجافة

Mr.Moussa AlSayed

50

ناقش ما يأتي: تتكيف الحيوانات الصحراوية العشبية والمفترسة مع بيئتها القاحلة ، واذكر مظهرين من مظاهر التكيف لكل منهما

- (أ) آكلات عشب (الحيوانات العشبية): تتغذى على النباتات الصحراوية ويمثلها
- الحشرات الصحراوية: [الجراد / الخنافس]
 - الزواحف: اكتسبت أغطية جافة محكمة حول أجسامها للاحتفاظ بالماء
 - الثدييات الصحراوية: كالقوارض والغزلان وهي
- ١- تنشط ليلاً وفي الصباح الباكر وتختفي نهاراً في حفر أو كهوف رطبة
 - ٢- يتركز بولها ويشح عرقها للاقتصاد في الماء
 - ٣- بعضها لا يقرب الماء طيلة حياته
- مثل اليرابيع حيث يحصل عليه من البذور والنباتات العصيرية التي يتغذى عليها
- (ب) آكلات اللحوم (المفترسات): يمثلها [الثعابين / ثعالب الفنك / الطيور الجارحة]
- ١- تمتص دماء فرائسها كمصدر للماء
 - ٢- أعدادها قليلة لتتوازن مع أعداد فرائسها غير المتوفرة
 - ٣- حسها حاد في السمع والشم والبصر لتتعايش مع هذه البيئة حيث أن لها آذان كبيرة (مثل ثعلب الفنك) لتجميع موجات الصوت من مسافات بعيدة كما تساهم في إشعاع الحرارة من الجسم

الأستاذ / موسى السيد خبير تدريس الأحياء والجيولوجيا
ت / ٠١٠٩٩٣٧٨٢٠٦

مع أطيب التمنيات بالتوفيق...



وزارة التربية والتعليم

مديرية التربية والتعليم بمحافظة...

نموذج استرشادي تدريبي لشهادة إتمام الدراسة ث.ع

نموذج ثانوية عامة

المادة : الجيولوجيا والعلوم البيئية

التاريخ : / / ٢٠١

زمن الإجابة : ثلاث ساعات

عدد أوراق الإجابة (١١) ورقة

بخلاف الغلاف

وعلى الطالب مسؤولية المراجعة

والتأكد من ذلك قبل تسليم الكراسة

٣

مجموع الدرجات

[illegible]

رقم المراقبة

مجموع الدرجات بالحروف :

إمضاءات المراجعين :

عدد أوراق الإجابة (١١) ورقة

بخلاف الغلاف

وعلى الطالب مسئولية المراجعة

والتأكد من ذلك قبل تسليم الكرسيّة

③

نموذج ثانوية عامة

وزارة التربية والتعليم

نموذج استرشادي تدريبي لشهادة إتمام الدراسة ث.ع

المادة : الجيولوجيا والعلوم البيئية

التاريخ : / / ٢٠١

زمن الإجابة : ثلاث ساعات

رقم المراقبة

اسم الطالب (رباعيًا) /

المقدمة:

رقم الجلوس :

توقيع الملاحظين بصحة البيانات :

ومطابقة عدد أوراق كراسة الإجابة

عند استلامها من الطالب .

أجب عن الأسئلة الآتية :

١. اختر أحد العبارتين (أ) أو (ب) ، واكتب المصطلح العلمي الذي تدل عليه :

- أ- سطح تعرية او عدم ترسيب يمكن أن نستدل عليه باختلاف ميل الطبقات .
 ب- المستوى الذي تتحرك على جانبيه إحدى الكتل المهشمة بحركة عكس اتجاه الكتلة الأخرى.

ب- مستوى الفالق

أ- عدم التوافق الزاوى

Mr.Moussa AlSayed

٢. اختر أحد السؤالين (أ) أو (ب) ، وعلل له:

- أ- حدوث ظاهرة تجديد الشباب (التصابي) للأنهار .
 ب - يعتبر تكوين الأشجار المتحجرة عمل هدمي وبنائي في نفس الوقت للمياه الأرضية.

- أ- العوامل الجيولوجية التي تعيد للأنهار شبابها بعد بلوغها مرحلة الشيخوخة :
 ١- حدوث حركات أرضية رافعة (قريباً من منطقة المنبع) .
 ٢- اعتراض طفوح بركانية لمجرى النهر .

ب- تذيب المياه القلوية أو المختلطة بالأحماض العضوية كثيراً من المواد كالكسليك والتي تحل محل المواد الجيرية في تكوين الحفريات ومحل الألياف في تكوين الأشجار المتحجرة وبذلك تعتبر هذه العملية عمل هدمي وترسيبي للمياه الأرضية

٣. اختر أحد السؤالين (أ) أو (ب) ، ماذا يحدث عند :

- أ - تنوع زراعة المحاصيل في الأراضي الزراعية المصرية .
 ب - الاعتماد على الأسمدة العضوية في الزراعة .

أ- يتم المحافظة على التربة وزيادة خصوبتها وحمايتها من الإنهاك التربة والافتقار إلى بعض العناصر الغذاء الضرورية للنبات

ب- يتم المحافظة على التربة وزيادة خصوبتها وحمايتها من التدهور والانجراف حيث أنها تنشط الكائنات الحية الموجودة بالتربة وتدخل في سلاسل الغذاء فتكسب التربة خصائص طبيعية مرغوبة

٤. اختر الاجابة الصحيحة :

معادن وزنه النوعى ١٩,٣ ينتمى إلى مجموعة

أ) السيليكات .

ب) الكبريتات.

ج) الأكاسيد.

د) العناصر المنفردة.

Mr.Moussa AlSayed

٥. فسر ما يأتى :

هناك تشابه وإختلاف بين الرايوليت والجرانيت .

التشابه كلاهما صخر نارى حامضى نسبة السليكا به أكثر من ٦٦٪ يتكون من الفسبار البوتاسى والصودو الميكا و الكوارتز بنسبة ٢٥٪ و الأمفيبول لونه وردي فاتح يتبلور فى درجة حرارة منخفضة أقل من ٨٠٠ درجة مئوية

الاختلاف : الريولايت صخر بركانى دقيق التبلور أما الجرانيت فهو صخر نارى جوفى ذونسيج خشن شائع الاستعمال فى عمليات البناء لجماله الطبيعى خاصة بعد تلميعه

٦. اذكر فرقاً واحدا بين الفلوريت والأباتيت .

تبلغ صلادة الفلوريت ٤ على مقياس موهس بينما تبلغ صلادة الأباتيت ٥ على مقياس موهس فيمكن أن يخدش الأباتيت الفلوريت عند حكمهما

٧. اكتب تعريفا علميا لما يأتي :

أ - الزلزال.

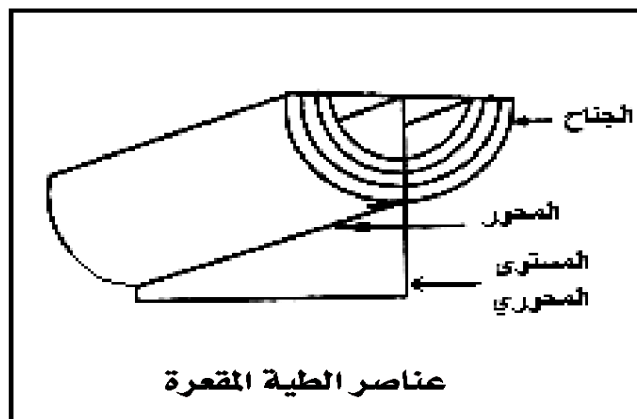
ب - الغلاف الحيوي .

أ- الزلزال عبارة عن طاقة حبيسة في باطن الأرض تخرج على هيئة هزات أرضية سريعة (متتالية) تنتاب القشرة الأرضية

ب- الغلاف الحيوي : هو الحيز الذي توجد فيه الحياة علي سطح الأرض و يمتد في المسافة بين أكبر عمق في البحار حتى أعلى ارتفاع في الجبال توجد بينهما حياة (وهو لايزيد أقصى سُمْك له عن ١٤ كم)

٨. ارسم شكلا كامل البيانات يوضح طية مقعرة .

Mr.Moussa AlSayed



٩. " الشعاب المرجانية كائنات بحرية تنمو على صورة مستعمرات ، واعتمد عليها العلماء في تفسير الأحداث الجيولوجية ". في ضوء العبارة أجب عما يأتي:

أ - ما أهم التفسيرات التي قدمها العلماء اعتمادا على الشعاب المرجانية.

ب - ما خصائص البيئة التي تنمو الشعاب المرجانية .

أ- الشعاب المرجانية من الشواهد على :

١-الحركات الأرضية الرافعة حيث أن وجودها في أماكن مرتفعة فوق سطح البحر وهي في الأصل كائنات بحرية تنمو على هيئة مستعمرات على الرصيف القاري بالمنطقة الساحلية أي في بيئة بحرية

٢-الانجراف القاري حيث أن أحافير شعاب مرجانية التي تتواجد في بيئة مدارية ووجودها حالياً قرب المنطقة القطبية يدل على أن هذه المناطق كانت في بيئة مختلفة عن وضعها الحالي

ب- تنمو الشعاب المرجانية على هيئة مستعمرات على الرصيف القاري بالمنطقة الساحلية أي في بيئة بحرية: □ دافئة ذات طاقة عالية □ مياه صافية . □ ملوحة مرتفعة متأثرة بإضاءة شديدة □ غنية بالمواد العضوية

١٠. اختر أحد المصطلحين (أ) أو (ب) ، ووضح المقصود به.

أ - شدة الزلزال.

ب - قدر الزلزال .

أ- شدة الزلزال: هي قياس نوعي لنوعية الدمار الناتج عن زلزال ما وطريقة رد فعل الناس

ب- قدر الزلزال: هو الكمية الكلية للطاقة المنطلقة من زلزال ما عن مصدر هذا الزلزال

١١. ما النتيجة المترتبة على:

وجود رياح شديدة مصاحبة لسقوط أمطار في شبه جزيرة سيناء؟

اصطحاب الأمطار برياح شديدة تساعد على نقل المواد المفككة أو فتتيت أجزاء أخرى مثال نحت الأمطار الساقطة لأوجه الصخور الجيرية فتتكون في النهاية مجموعة من الأخاديد بينها جروف قليلة الارتفاع (كما في شبه جزيرة سيناء)

١٢. اذكر دور الأشعة تحت الحمراء في علاج مشكلة الإستنزاف.

استخدام صنابير تعمل بالأشعة تحت الحمراء لتوفير الماء
و علاج إهدار الماء وتلويثه

Mr.Moussa AlSayed

١٣. علل لما يأتي :

تميز السلسلة البحرية بطولها وتعدد حلقاتها.

لأن الأحياء البحرية معظمها آكلات لحوم مفترسة مما يسبب
طول سلاسل الغذاء وتعدد حلقاتها حيث فتهدر كمية كبيرة من
الطاقة خلال انتقالها من حلقة إلى أخرى

١٤. اختر الإجابة الصحيحة :

من مميزات العصر الكامبري الحفرية وجود كل من

- ① السراخس وأول الكائنات الهيكلية.
- ② ثلاثية الفصوص وأول الحشرات.
- ③ أول الثدييات وأول الكائنات الهيكلية.
- ثلاثية الفصوص وأول الكائنات الهيكلية.

١٥. وضح كيف تفرق بين :

معدين عنصرين مختلفين لهما نفس التركيب الكيميائي.

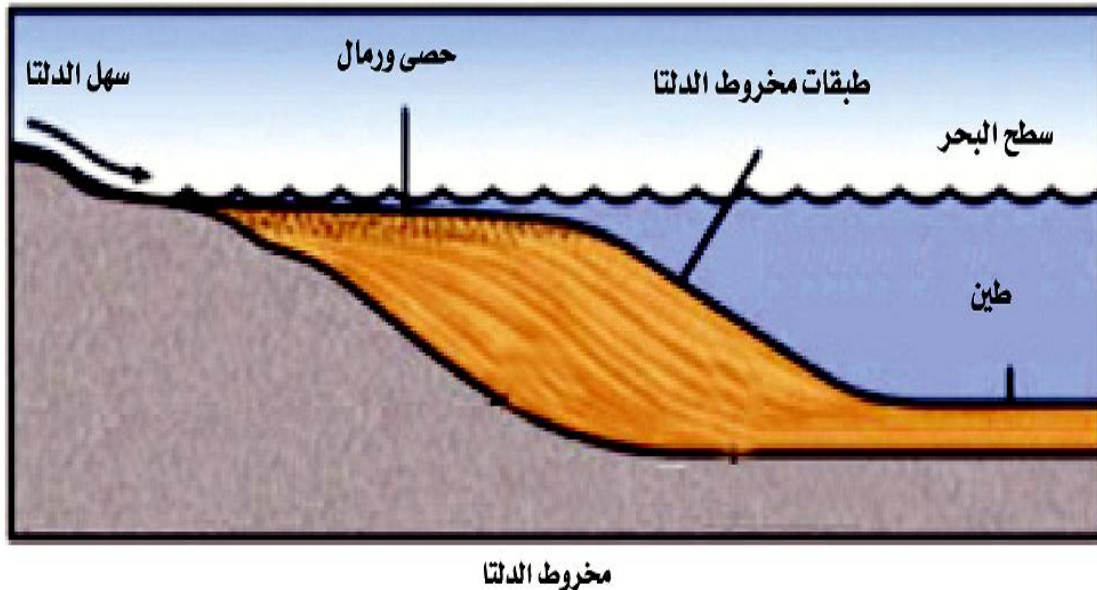
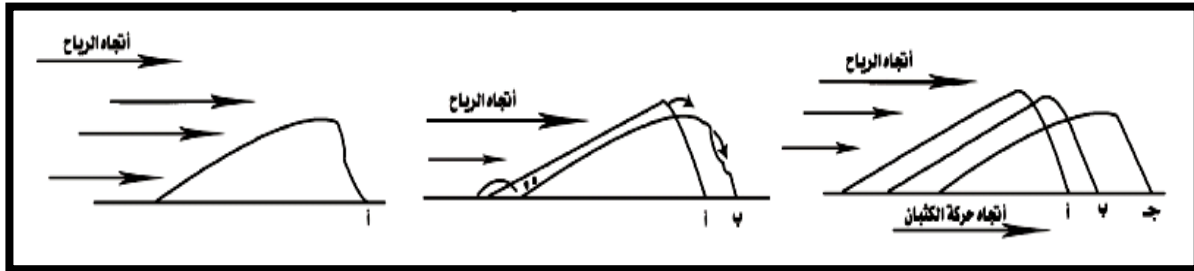
الجرافيت يتكون من عنصر الكربون وله انفصام قاعدي جيد
الماس يتكون من عنصر الكربون وله بريق لا فلزي ماسى وأصلد المعادن
في الطبيعة تبلغ صلابته ١٠ على مقياس موهس
كما أنه من الأحجار الكريمة التي تتميز بخاصية عرض الألوان حيث يفرق
شعاع الضوء الساقط عليه نتيجة انكساره إلى اللونين الأحمر والبنفسجي
فيكون له بريقاً عالياً في جميع الاتجاهات

Mr.Moussa AlSayed

١٦. اختر أحد الموضوعين (أ) أو (ب) وارسم شكل كامل البيانات يوضحه :

أ - حركة الكتبان الرملية.

ب - قطاع في مخروط الدلتا.



١٧. اذكر فائدة أو استخداما واحدا لكل مما يأتي :

أ - صخر متحول من صخر يتكون من أحد معادن الكربونات.

أ- الرخام متحول عن الحجر الجيري يستحب استخدامه كأحد أحجار الزينة لأن كثير من أنواع الرخام ذات ألوان وتغرق متغير بسبب أنواع من الشوائب

ج - صخر متحول تحت ضغط وحرارة تقل عن ٢٠٠ درجة مئوية.

ج- صخر الإردواز الناتج من تحول صخور الطفل تحت ضغط مرتفع وحرارة منخفضة نسبياً أقل من ٢٠٠°م ويستخدم في أعمال البناء

Mr.Moussa AlSayed

١٨. ما خصائص النباتات الصحراوية الحقيقية التي تمكنها من التكيف مع بيئة الصحراء.

١- زيادة نسبة المجموع الجذري إلى المجموع الخضري [وصلت في بعض النباتات ٨٠م مجموع جذري إلى ٣,٥م مجموع خضري]
الجذور نوعان:

أ- ممتدة رأسياً إلى أعماق التربة لامتصاص الماء الجوفي العميق
ب- ممتدة أفقياً قرب سطح التربة لامتصاص قطرات الندى المتساقطة في الصباح الباكر

٢- غطاؤها النباتي سميك من الكيوتين للحماية من البخر

٣- الأوراق مختزلة للاحتفاظ بالماء من عوامل النتج

١٩. اختر أحد العبارتين (أ) أو (ب) ، واكتب المصطلح العلمي الذي تدل عليه :

أ - تجزؤ الصخر إلى قطع أصغر في الحجم دون تغير في التركيب الكيميائي والمعدني

ب - أثر الغلافين الجوي والمائي على صخور القشرة الأرضية حيث يتم تفتيت الصخر ثم نقل الفتات بعوامل نقل طبيعية.

ب- التعرية

أ- التجوية الميكانيكية

٢٠. اختر أحد السؤالين (أ) أو (ب) ، وعلل له:

- أ - نعلم على لوح المخدش الخزفي في التعرف على مخدش أغلب المعادن ، ولا نعلم على العملة النحاسية .
ب - تختلف بلورة الرباعي عن بلورة أحادي الميل.

أ- لأن صلادة العملة النحاسية ٣,٥ بينما صلادة لوح المخدش الخزفي ٦,٥ فيمكن استخدامه في التعرف على صلادة أغلب المعادن حيث أن أغلب المعادن تقل صلادتها عن ٦,٥ على مقياس موهس

ب- النظام الرباعي تشتمل البلورة على ثلاث محاور بلورية متعامدة محوران متساويان والثالث يختلف عنهما في طول $\gamma = \beta = \alpha$, $c \neq a_2 = a_1$
النظام أحادي الميل تشتمل البلورة على ثلاث محاور بلورية مختلفة في الطول محوران منهما متعامدان والثالث مائل عليهما (ومعظم المعادن تنتمي لهذه الفصيلة) $\alpha = \gamma \neq \beta$, $c \neq b \neq a$

٢١. اختر أحد السؤالين (أ) أو (ب) ، واذكر ماذا يحدث عند :

- أ - تراكم كمية ضخمة من رواسب نتجت من تجوية جبل ارتفاعه ٥,٥ كم في قاع بحر عمقه ٤٠٠٠ متر.
ب - تعرض منطقة شمال مصر لعمليات طي عنيف وخسف شديد بواسطة فوالق ذات ميول قليلة وإزاحة جانبية كبيرة.

أ- يحدث سريان تدريجي للمواد الخفيفة من الصخور المائعة (الصهارة) والغنية بمعادن الفلسبار والكوارتز المكونة للجرانيت أعلى نطاق الوشاح من أسفل منطقة الترسيب (حيث زيادة الضغط) إلى قاع منطقة التفتيت (حيث يقل الضغط) وبذلك ترتفع الجبال والهضاب وتستعيد القشرة الأرضية توازنها

ب- تتكون سلاسل الجبال الممتدة من قبة المغارة بشمال سيناء إلى الواحات البحرية بالصحراء الغربية (مروراً بمناطق شبراويت جنوب الاسماعيلية وأبورأوش غرب القاهرة).

٢٢. عرف : الجيولوجيا الطبيعية

الجيولوجيا الطبيعية دراسة العوامل الخارجية والداخلية وتأثير كل منهما على صخور كوكب الأرض.

٢٣. اختر الإجابة الصحيحة :

غاز يستخدم كوقود ينتج من تحلل المخلفات الحيوانية

- أ) الإيثان.
 ب) الهيدروجين.
 ج) الميثان.
 د) الكلور.

Mr.Moussa AlSayed

٢٤. فما أهمية الرعي في مناطق الأشجار والشجيرات؟

الرعي في مناطق الأشجار والشجيرات يؤدي إلى زيادة أعداد وأحجام تلك الشجيرات نتيجة إزالة الأعشاب التي تنافسها على الماء

٢٥. وضح سلوك الكائنات الآتية في الظروف البيئية الآتية :

ب - اليربوع تجاه ندرة المياه.

ينشط ليلاً وفي الصباح الباكر ويختفي نهاراً في حفر أو كهوف رطبة و يتركز بوله ويشح عرقه للاقتصاد في الماء و لا يقرب الماء طيلة حياته حيث يحصل عليه من البذور والنباتات العصيرية التي يتغذى عليها

ج - القشريات الهائمة تجاه الأشعة فوق البنفسجية.

القشريات الهائمة : تظل على عمق ٢٧ م طوال النهار (لتأثرها بالأشعة فوق البنفسجية) وتهاجر ليلاً إلى السطح

٢٦.

وضح أهم الفروق بين رواسب منطقة المياه الضحلة ومنطقة الأعماق .

منطقة المياه الضحلة رواسبها: الحصى والرمال قرب المنطقة الشاطئية والرواسب الطينية كالطمي والطين تجاه الداخل (بالإضافة إلى الرواسب الجيرية الناتجة من تراكم محارات الحيوانات بعد موتها) منطقة الأعماق السحيقة رواسبها الطين الأحمر وهو من رواسب بركانية و رواسب دقيقة عضوية وهي بقايا كائنات دقيقة الفورمانيفرا و الدياتومات

Mr.Moussa AlSayed

٢٧.

اشرح كيف يتكون ويخترن الهيدروكربونات سواء في الحالة السائلة أو الغازية في الصخور الرسوبية .

المواد الهيدروكربونية (كربون وهيدروجين) تنتج من:
 ◻ تحلل البقايا الحيوانية والنباتية البحرية الدقيقة بمعزل عن الهواء بعد ترسيبهما مع الصخور الطينية (صخور المصدر) .
 ◻ تنضج في باطن الأرض (عند ٧٠-١٠٠ م) على عمق ٢-٤ كم وتتحول إلى الحالة السائلة والغازية للهيدروكربون .
 ◻ تهاجر إلى صخور الخزان المسامية (الرمال والحجر الرملي والحجر الجيري أحيانا) .

٢٨.

أختر أحد المصطلحين (أ) أو (ب) : ووضح المقصود به.

أ - علم الإيكولوجي

ب - النظام الإيكولوجي

أ- علم الإيكولوجي : دراسة ما يحدد الحياة وكيفية استخدام الكائن الحي لما هو متاح له حيث يعيش

ب- النظام الإيكولوجي: نظام يصف كل ما يتعلق بالكائنات الحية والمكونات الغير حية من تفاعلات وتبادلات في حيز محدود من الطبيعة

فسر ما يأتي :

٢٩.

لولا البراكين القديمة ما كانت الحياة على سطح الأرض .

لأنه أثناء وبعد تكوين كل من اليابسة والغلاف الهوائي حدث تكثف شديد لكميات هائلة من بخار الماء [الناتجة من الثورات البركانية القديمة] .
-أحدثت أمطاراً غزيرة انهمرت على اليابسة لتملأ الفجوات والشعرات والأحواض الضخمة [التي كانت قد تشكلت على سطح الأرض أثناء تصلبها وتحجرها] مكونة الغلاف المائي

Mr.Moussa AlSayed

٣٠. ما النتائج المترتبة على الإفراط في استخدام المبيدات الحشرية والفطرية في الزراعة ؟

- الإفراط في استخدام المبيدات الحشرية والفطرية : يسبب:
- ١- القضاء على حشرات نافعة كانت تتغذى على حشرات ضارة تحولت إلى آفات زراعية
 - ٢- تلوث التربة وموت ديدان الأرض التي تقوم بتهوية التربة وتوفير النيتروجين الذي تقوم البكتيريا العقدية بتثبيته
 - ٣- فقدان البكتيريا العقدية مميزات الشكالية والوظيفية

٣١. رغم وجود طبقة من الجليد تغطي بعض البحار الشمالية إلا أن الأحياء المائية لا تموت

أسفل الجليد . اشرح ذلك

لأنه ما أن تنخفض درجة حرارة المياه السطحية في المناطق القطبية إلى 3°C حتى يتمدد الماء (تمدد شاذ عكس جميع السوائل) وتقل كثافته فيطفو على السطح ثم يتجمد فيحافظ على الأحياء المائية أسفله من التجمد

٣٢. اكتب المصطلح العلمي الدال على العبارة الآتية:

فصيلة بلورية تتميز بثلاثة محاور بلورية غير متساوية وزوايا متساوية بين محاورها

المعنى القائم

Mr.Moussa AlSayed

٣٣. كيف تسبب الماجما تكوين تراكيب تكتونية تحت سطح الأرض ؟

لأنه عندما تصعد الماجما عالية اللزوجة خلال فتحة ضيقة ثم تتجمع بدلاً من انتشارها أفقياً وتضغط على ما فوقها من صخور فتنتشئ لأعلى مكونة ثنية (طية) محدبة
أما عندما تصعد الماجما قليلة اللزوجة خلال فتحة ضيقة ثم تتجمع بدلاً من انتشارها أفقياً وتضغط لأسفل فتسبب انثناء الصخور أسفلها مكونة طية مقعرة

٣٤. اختر الإجابة عن أحد السؤالين (أ) أو (ب):

أ - تظهر في منطقة بدعة وثورا رواسب اقتصادية

١ - ما اسم هذه الرواسب ؟ وفي أي عصر انتشرت ؟

٢ - ما الظروف التي أدت إلى تكوين هذه الرواسب ؟

ب - تغير الظروف البيئية في العصر الجليدي تسببت في خير ورفاهية البشرية . وضح

أ - ١-رواسب الفحم - في العصر الكربوني

٢- ازدهار الغطاء النباتي نتيجة: ☐ ظروف مناخية دافئة ورطبة

☐ سهول منبسطة ☐ تربتها غنية بالعناصر الغذائية (اللازمة لنمو النبات)

☐ تهيأت الفرصة لتحول تلك البقايا النباتية إلى طبقات من الفحم تتفاوت جودته باختلاف درجة تحوله

ب- تقدم الغطاء الجليدي جنوباً (في نصف الكرة الشمالي) مسبباً فترات جليدية صاحبها فترات غزيرة الأمطار (فترات مطيرة) في المناطق الجنوبية من نصف الكرة الشمالي .

- أدى ذلك إلى ازدهار وكثافة الغطاء النباتي وتكاثر المجموعات الحيوانية خلال الفترات المطيرة

- عند تراجع الغطاء الجليدي شمالاً (في الفترات بين الجليدية) سبب وجود فترات جافة

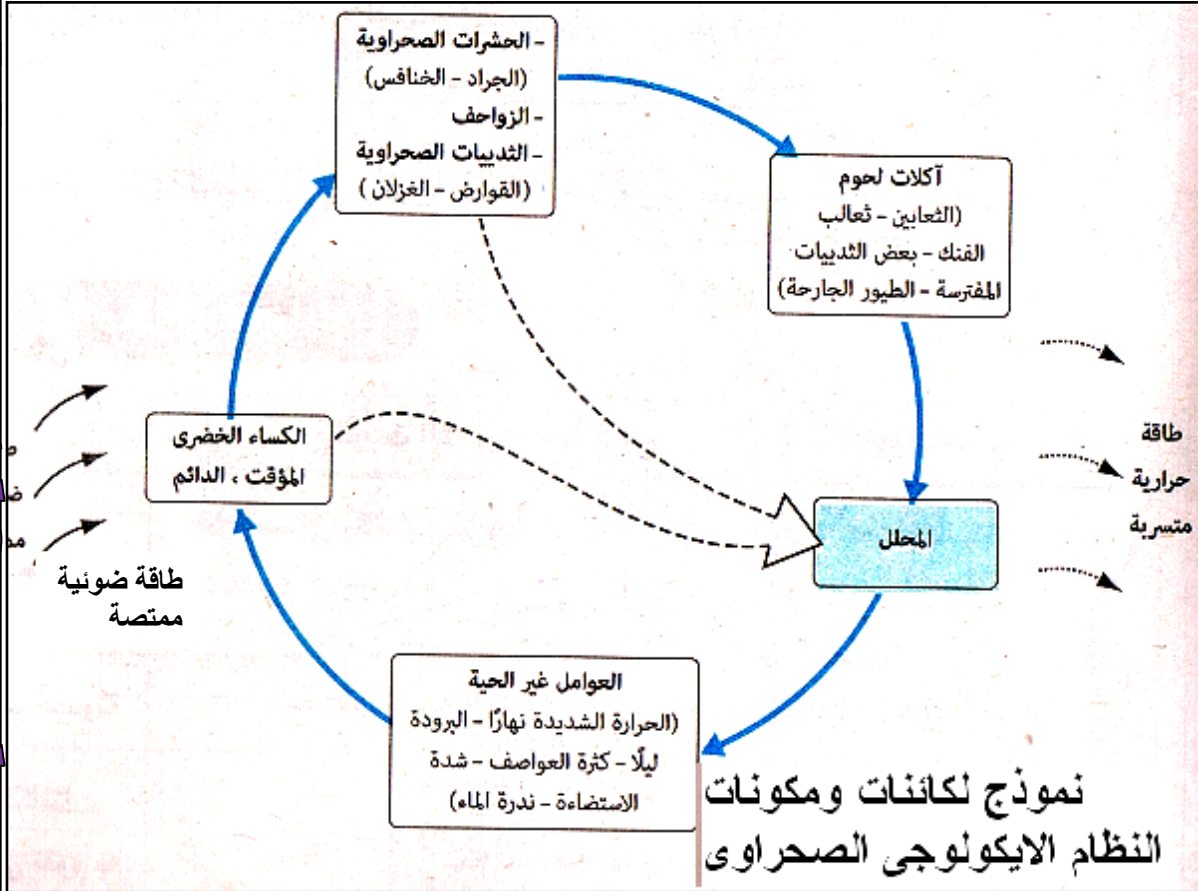
(نشأ عنها ظروف بيئية نتيجة انخفاض وارتفاع البحر) مما سبب تضاول المجموعة الحيوانية

- استمرت تلك الدورات منذ بداية العصر الجليدي وانتهت منذ أكثر من ٢٠ ألف سنة نمت التربة

خلالها خاصة بالمناطق الشمالية من الصحراء الكبرى بأفريقيا وكونت مزارع وفيرة الإنتاج لخير البشرية

٣٥. ارسم شكلاً يوضح العلاقة بين المادة والطاقة ، والأحياء في نظام بيئي مكون من أربع

حلقات فقط



٣٦. اشرح كيف تكون نوعين من المغارات بسبب العوامل الخارجية ؟

١-المغارات في الصخور الجيرية : تنتج من المياه الجوفية الذاب فيها CO_2 والأملاح الحامضية حيث تعمل على ذوبان الصخور الجيرية فتساعد على تكوين المغارات

٢- المغارات الساحلية حيث أن اختلاف صلابة صخور الشاطئ يساعد الأمواج على تآكل الطبقات الرخوة وتظل الصلبة بارزة وينشأ عن ذلك (التعرجات والخلجان و المغارات الساحلية)

٣٧. اختر أحد العبارتين (أ) أو (ب) ، واكتب المصطلح العلمي الذي تدل عليه :

أ - كسر في كتل الصخور المختلفة يتبعه حركة لصخور الحائط العلوي إلى أسفل بالنسبة لصخور الحائط السفلي .

ب - كسر في كتل الصخور المختلفة يكون فيه سطح الفالق قريب من المستوى الأفقي.

أ- الفالق العادي

أ- الفالق الدسر (الزحفي)

٣٨. علل لما يأتي :

تغير لون معدن الكوارتز إلى اللون الرمادي بلون الدخان.

لكسر بعض الروابط بين ذرات عناصر الكوارتز للتعرض لطاقة إشعاعية عالية

Mr.Moussa AlSayed

٣٩. ما النتيجة المترتبة على :

تعرض ساق نبات القطن للضوء من أحد الجوانب .

ينتحي الساق نحو الضوء

بسبب استطالت خلايا الساق البعيدة عن الضوء بدرجة أكبر من الخلايا المواجهة للضوء نظرا لأن تركيز الأوكسينات (محفزات النمو) في الجانب المظلم يكون أعلى من الجانب المضيء فستجيب خلايا الساق للنمو بصورة أكبر في الظلام عنها في الضوء

٤٠. وضح كيف يتكون الهيكل البنائي لبلورة معدن الهاليت.

تكوين الهيكل البنائي لمعدن الهاليت : النظام البلورى لمعدن الهاليت (كلوريد الصوديوم) والمعروف بالملح الصخرى الذى يتكون من اتحاد أيونات الصوديوم الموجبة مع أيونات الكلور السالبة فى نظام تكرارى ينتج عنه نظام بلورى مميز لمعدن الهاليت يكون على شكل مكعب

Mr.Moussa AlSayed

٤١. اختر الاجابة الصحيحة :

تتواجد القشريات فى حلقتين من حلقات السلسلة البحرية هما

- ١) الأولى والثانية
- ٢) الثانية والثالثة
- ٣) الأولى والثالثة
- ٤) الثانية والرابعة

٤٢. ما المقصود بالدبال ؟ وأين يتواجد بكثرة؟

الدبال : هو ناتج تحلل أوراق الأشجار المتساقطة بصفة درية فى التربة يغذى التربة ويحافظ على خصوبتها ويتواجد بكثرة فى الغابات

٤٣. اختر أحد السؤالين (أ) أو (ب) ، وأجب عليه:

أ - يختلف شكل قطاع النهر باختلاف المرحلة العمرية التي يمر بها. اشرح العبارة موضحاً شكل قطاع النهر في المراحل المختلفة ، وأهم الأشكال الناتجة عن عمل النهر في الترسيب .

ب - يتأثر قطاع النهر بمناخ المنطقة التي يمر فيها . اشرح العبارة

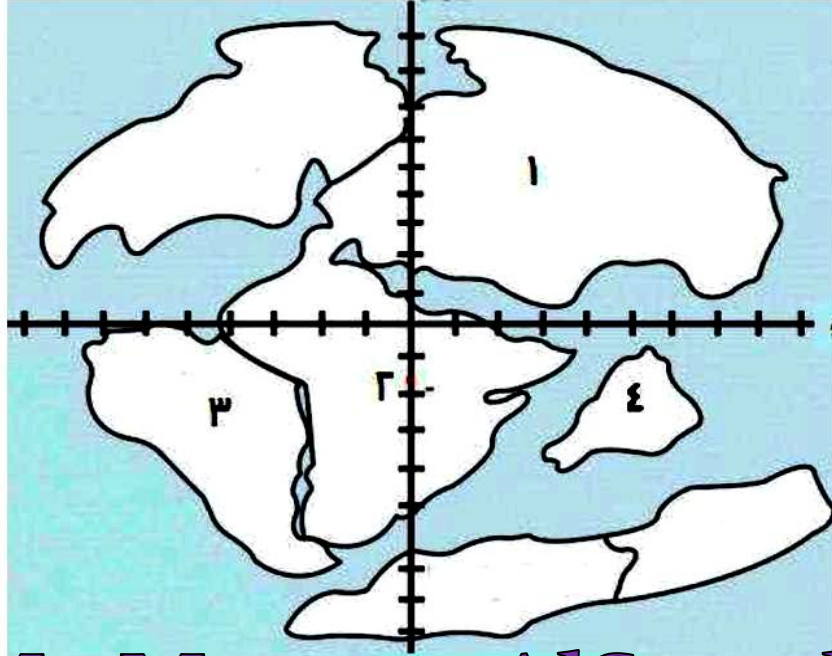
- ١- في مرحلة الشباب :النهر ينحت في مجراه بشدة عند المنبع ويساعد على ذلك عوامل التعرية في هذه الأماكن الرطبة ويصبح شكل قطاع النهر V
- ٢- في مرحلة النضوج يتسع الوادي إلى أقصى مدى ويصبح قطاعه على شكل V متسعة لتساوى معدل النحت والترسيب تقريباً
- ٣- في مرحلة الشيخوخة عند المصب يصبح مستوى القطاع قريباً من المستوى الأفقي أي مستوى سطح البحر يكون قطاع النهر على شكل قوس
- ٤- في مرحلة التصابي فيبدأ النحت من جديد ويستأنف تعميق مجراه بينما يقل التآكل (النحت) الجانبي أو يتوقف نهائياً. ويصبح قطاعه على شكل شرفات نهريّة
- رواسب الأنهار تكون متدرجة الحبيبات حيث أن الحصى والمواد الغليظة توجد أعلى الوادي وفي وسط مجراه بينما تترسب الرمال والرواسب الدقيقة عند المصب (على شكل دلتا) وعلى جانبي الوادي (على شكل شرفات نهريّة)

- ب- ١- المناخ الرطب: في المناطق غزيرة الأمطار يساعد عوامل التعرية الأخرى كالتحلل بعملياتها المختلفة وتعمل الجاذبية أيضاً على تآكل الأخدود فيتسع مجرى النهر .
- ٢- المناخ الجاف: في المناطق الجافة يكون النهر قوياً محتفظاً بحمولته لذا ينحت النهر أخدوداً عميقاً كما هو الحال في نهر [كلورادو بأمريكا]

٤٤. وضح أهم الفروق بين الكوارتزيت والشيست الميكاني.

الكوارتزيت صخر متحول كتلي ناتج من تحول الكوارتز في الصخور الرملية عند تعرضها للحرارة ونسيجه حبيبي الشيست الميكاني صخر متحول تظهر فيه خاصية التورق نتيجة ترتيب بلورات الميكا في الصخر الطيني بعد نمو البلورات بتأثير ارتفاع درجة الحرارة ويكون في اتجاه عمودي على اتجاه الضغط لقليل تأثيره يتكون من صفائح رقيقة متشابهة في تركيبها المعدني متصلة غير متقطعة

٤٥. ادرس الخريطة التي أمامك جيدا و اكتب البيانات من ١ إلى ٤ :



Mr.Moussa AlSayed

٢- أفريقيا

١- أوراسيا

٤- الهند

٣- أمريكا الجنوبية

الأستاذ / موسى السيد
خبير تدريس الأحياء الجيولوجيا

مع أطيب التمنيات بالتوفيق،،،

ت / ٠١٠٩٩٣٧٨٢٠٦



وزارة التربية والتعليم
مديرية التربية والتعليم بمحافظة :

امتحان تجريبي شهادة إتمام الدراسة الثانوية العامة

نموذج ثانوية عامة

المادة : الجيولوجيا والعلوم البيئية

التاريخ : / / ٢٠١

زمن الإجابة : ثلاث ساعات

3

عدد صفحات الإجابة (٢١) صفحة
بخلاف الغلاف
وعلى الطالب مسؤولية المراجعة
والتأكد من ذلك قبل تسليم الكراسة

مجموع الدرجات

[illegible]

رقم المراقبة

مجموع الدرجات بالحروف :

إمضاءات المراجعين :

عدد صفحات الإجابة (٢١) صفحة
بخلاف الغلاف
وعلى الطالب مسؤولية المراجعة
والتأكد من ذلك قبل تسليم الكراسة

وزارة التربية والتعليم

امتحان تجريبي شهادة إتمام الدراسة الثانوية العامة

المادة : الجيولوجيا والعلوم البيئية

التاريخ : / / ٢٠١

زمن الإجابة : ثلاث ساعات

رقم المراقبة

اسم الطالب (رباعيًا) /

المدرسة:

رقم الجلوس :

3

نموذج ثانوية عامة

الإدارة :

الحفاظة :

-5-

-2-

توقيع الملاحظين بصحة البيانات :
ومطابقة عدد صفحات كراسة الإجابة
عند استلامها من الطالب .

أجب عن الأسئلة الآتية :

١. اختر أحد العبارتين (أ) أو (ب) ، واكتب المصطلح العلمي الذي تدل عليه :

- أ- فرع الجيولوجيا الذي نعتمد عليه في التعرف على الفوالق والطيات وعلامات النيم وغير ذلك من تراكيب
- ب- العلم الذي نحتاج إلى دراسته حتى نتعرف على كل ما يتعلق بالكرة الأرضية من ثروات وتاريخ وحركات

أ- الجيولوجيا التركيبية ب- علم الجيولوجيا

Mr.Moussa AlSayed

٢. اختر أحد السؤالين (أ) أو (ب) ، وعلل لما يأتي:

- أ- قطاع النهر في مرحلة الشباب يختلف عنه في مرحلة التصابي .
- ب- يشجع تجار المجوهرات العلماء على دراسة رواسب دلتا نهر النيل .

أ- ١- في مرحلة الشباب :النهر ينحت في مجراه بشدة عند المنبع ويساعد على ذلك عوامل التعرية في هذه الأماكن الرطبة ويصبح شكل قطاع النهر V

٢- في مرحلة التصابي فيبدأ النحت من جديد ويستأنف تعميق مجراه بينما يقل التآكل(النحت)الجانبى أو يتوقف نهائيا.ويصبح قطاعه على شكل شرفات نهريّة

ب- لحتوائها على الرمال السوداء وهى عبارة عن رواسب معدنية ذات قيمة اقتصادية تتكون بالقرب من تلاقي الدلتا بالبحر [مثل الذهب - الماس - القصدير - الألمنيوم]

٣. اختر أحد السؤالين (أ) أو (ب) ، ماذا يحدث عند :

- أ- تكرار زراعة نفس المحصول على نفس الأرض الزراعية سنوات متعددة
- ب- استخدام الأسمدة الكيميائية بدلا من الأسمدة العضوية الزراعية .

أ- تكرار زراعة المحصول الواحد في نفس التربة لسنوات متعددة يسبب

١- إنهاك التربة ٢- افتقارها إلى بعض العناصر الغذاء الضرورية للنبات

ب- استخدام الأسمدة الكيميائية: يسبب:

١- تدهور التربة ٢- تعرضها للانجراف

اختر الإجابة الصحيحة :

معادن لونه ذهبي ومخدشه أسود ينتمي الى مجموعة معادن

- ☐ أ) عنصرية منفردة
☐ ب) الكبريتات
☒ ج) الكبريتيدات
☐ د) الكربونات

Mr.Moussa AlSayed

فسر ما يأتي :

هناك تشابه وإختلاف بين الحجر الطيني والطفل.

التشابه : كلاهما من الصخور الرسوبية الفتاتية من الرواسب الطينية
 المكونة من خليط الغرين (٢٢-٤ ميكرون) والصلصال (أقل من ٤ ميكرون)
 الاختلاف : الحجر الطيني : يتكون عند تحجر رواسب الطين
 الطفل : فيتكون من تضاعف مكونات الصخور الطينية وتماسكها
 فتظهر بها صفة التورق أو التصفح

اذكر فرقا واحدا بين المالاكيت والسفاليرايت.

المالاكيت : لونه أخضر (كربونات النحاس المائية)
 السفاليرايت : (كبريتيد الزنك) أصفر شفاف يتحول إلى البني بإحلال
 بعض ذرات الحديد بنسبة قليلة محل بعض ذرات الزنك

٧. اكتب تعريفا علميا لما يأتي :

أولاً : الحركات البانية للقارات.

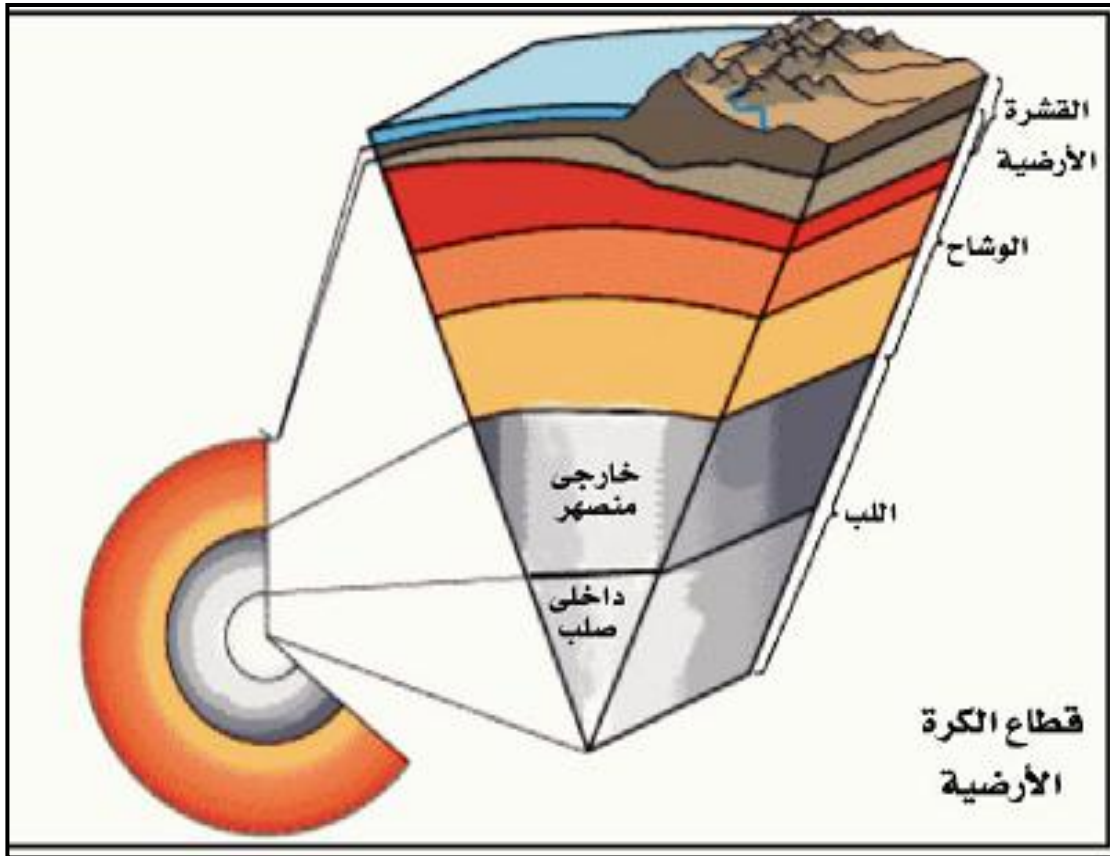
ثانياً : التوافق الضوئي.

أولاً : الحركات البانية للقارات : حركات بطيئة تستمر لأزمنة جيولوجية متعاقبة تؤثر على أجزاء كبيرة من القارة أو قاع البحر تؤدي إلى ارتفاع أو هبوط الصخور الرسوبية (دون أن تشكلها بالطي العنيف أو التصدع) . إنما تظهر الطبقات أفقية أو في صورة طيات منبسطة فوق سطح البحر تلعب دوراً هاماً في توزيع وعلاقة القارات والمحيطات في الأزمنة الجيولوجية المختلفة
مثال : نشأة الأخدود العظيم لنهر كولورادو بأمريكا

ثانياً : التوافق الضوئي : العلاقة بين فترة الإضاءة التي يحصل عليها النبات وفترة الإظلام التي يتعرض لها النبات بالتعاقب كل ٢٤ ساعة

Mr.Moussa AlSayed

٨. ارسم شكلاً كاملاً للبيانات يوضح قطاع في الكرة الأرضية.



٩. تتأثر مصر بالحركات التكتونية الثلاثة للألواح التكتونية. اشرح العبارة موضحاً نوع الحركة معطياً مثال عليها.

- ١- الحركة التباعدية للألواح : تفتق قارة أفريقيا وتكون البحر الأحمر الذي تتسع جوانبه بمعدل ٢٥ سم/سنة نتيجة ابتعاد اللوح العربي عن اللوح الأفريقي
- ٢- الحركة الانزلاقية للألواح : وتظهر في خليج العقبة حيث تنشأ من حركة حافة لوح على حافة لوح آخر مكونة صدوع انتقالية عمودية مسببة تكسيراً أو تشوهاً وقد ينتج عنها براكين وزلازل
- ٣- الحركة التقاربية للوحين أحدهما قارى والأخر محيطي : يظهر ذلك في البحر المتوسط حيث الاختلاف بين كثافة اللوحين فيغوص اللوح المحيطي أسفل اللوح القارى في طبقة الوشاح وينصهر كلياً وتكون سلاسل جبال

Mr.Moussa AlSayed

١٠. اختر أحد المصطلحين (أ) أو (ب) ، ووضح المقصود به.

أ - زلزال تكتوني.

ب - زلزال بلوتوني.

أ- الزلزال التكتوني : زلزال يحدث في المناطق التي تتعرض فيها الصخور للتصدع نتيجة لحركة الألواح التكتونية هذا هو النوع الشائع كثير الحدوث .

ب- الزلزال البلوتوني : زلزال يوجد مركزه على عمق سحيق من الأرض قد يصل إلى أكثر من ٥٠٠ كم تحت سطح الأرض.

١١. ما النتيجة المترتبة على :

مرور رياح محملة بالشحنة على حصوات غير منتظمة الشكل في الصحراء؟

- أثر الرياح عند مرورها على حصوات غير منتظمة الشكل تؤثر الرياح المحملة بالرمال على شكل الحصى :

- ١- فيكون الحصى مثلث الأضلاع أو هرمي الشكل
- ٢- ويكون وجه الحصى المقابل للرياح عادة مصقولاً

١٢. فسر العبارة الآتية:

للدولة دور هام في حل مشكلة تكديس السكان في وادي النيل.

- علاج مشكلة الزحف العمراني وتكدس السكان في وادي النيل :
- ١- إنشاء المدن الجديدة في الأراضي الصحراوية غير المزروعة وإقامة المشروعات الصناعية بها
 - ٢- توفير المرافق والمساكن ومختلف الخدمات بالمدن الجديدة
 - ٣- أصدرت الدولة التشريعات التي تجرم البناء على الأراضي الزراعية

Mr.Moussa AlSayed

١٣. علل لما يأتي :

تختلف جذور النباتات الصحراوية في اتجاه نموها .

الجذور نوعان:

- أ- ممتدة رأسياً إلى أعماق التربة لامتصاص الماء الجوفي العميق
- ب- ممتدة أفقياً قرب سطح التربة لامتصاص قطرات الندى المتساقطة في الصباح الباكر

١٤. اختر الإجابة الصحيحة :

من الحفريات المميزة لحقب الحياة الحديثة كل من

- ① انتشار نباتات بذرية حقيقية والنيموليت
- ② سيادة النباتات الزهرية وظهور الثدييات المشيمية
- ③ ظهور طحالب خضراء وظهور أول الزواحف
- ظهور الحيوانات الرعوية وسيادة النباتات الزهرية

١٥. وضح كيف تفرق بين :

الكالسيت الأبيض والكوارتز الأبيض بدون استخدام أي أدوات.

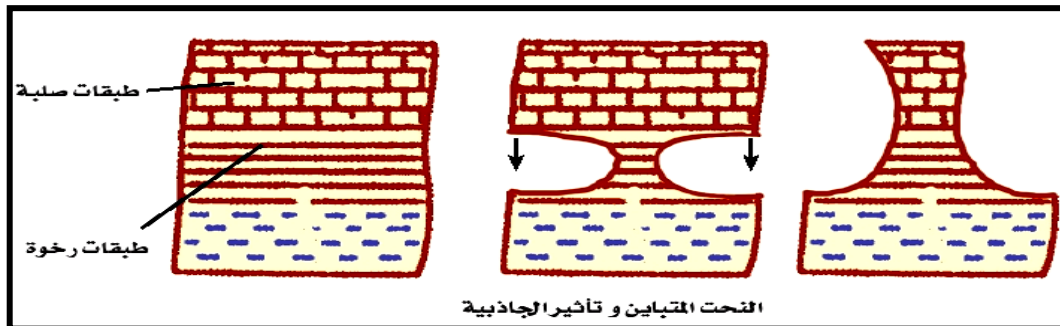
الكوارتز الأبيض أكثر صلادة (٧) يخدش الكالسيت الأبيض الأقل صلادة (٣) عند حكهما ببعضهما البعض

Mr.Moussa AlSayed

١٦. اختر أحد الموضوعين (أ) أو (ب):

ارسم شكلا كامل البيانات يوضح:

- أ - أثر الرياح المحملة بالشحنة على طبقات مختلفة الصلابة بخطواتها المختلفة.
ب - قطاع في تربة ناضجة موضعا خصائص الجزء العلوي منها.



قطاع رأسى في التربة الناضجة

١٧. من خلال المعلومات المذكورة تعرف على الصخر ، ثم اذكر فائدة أو استخداما لكل منها :
أولاً: صخر رسوبي فتاتي مكون من فتات حاد الزوايا.

البريشيا صخر رسوبي فتاتي شائع الاستخدام في أعمال زينة الجدران

ثانياً: صخر نسيجه دقيق أو زجاجي يتكون في درجة حرارة حوالي ١١٠٠ درجة مئوية

البازلت صخر ناري بركاني يستخدم في أعمال

Mr.Moussa AlSayed

١٨. اشرح العبارة التالية :

تحتل الهائمات البحرية حلقتين من السلسلة البحرية

- أ- الهائمات النباتية (الحلقة الأولى) :
- ❏ وهي مجموعة كبيرة تحوي مادة الكلوروفيل وتمتص الطاقة الضوئية النافذة لبناء المواد الغذائية وتعتبر بذلك كائنات منتجة للغذاء وتمثل حجر الأساس في تحضير الغذاء لباقي الأحياء البحرية
- ب- الهائمات الحيوانية (الحلقة الثانية):
- هي مجموعة كبيرة من [الأوليات / الديدان / القشريات دقيقة / اليرقات] تتغذى بالهائمات النباتية وتوجد بالقرب منها في المياه السطحية

١٩. اختر أحد العبارتين (أ) أو (ب) ، واكتب المصطلح العلمي الذي تدل عليه :

- أ - مظهر جيولوجي على شاطئ البحر تكون نتيجة تأثير مياه البحار بالقمر
- ب - رواسب بحرية في شواطئ البحار تتسبب في تكوين جزء مائي مغلق أو شبه مغلق

ب- الحواجز

أ- العلامات (العينات) المدرجة

٢٠. اختر أحد السؤالين (أ) أو (ب) ، علل لما يأتي:

- أ - يمكن استخدام لوح المخدش الخزفي في التفريق بين الأحجار الكريمة والمجوهرات المزيفة
ب - هناك تشابه واختلاف بين بلورة المعيني القائم وبلورة ثلاثي الميل

لوح المخدش الخزفي صلابته ٦ و ٥ لا يمكن أن يخدش الأحجار الكريمة الطبيعية
غالية الثمن حيث أن أغلبها تزيد صلابتها عن ٧,٥
❑ لكنه يمكنه أن يخدش أحجار الزينة المقلدة صناعيا من مواد زجاجية وأكاسيد
ألومنيوم (تقل صلابتها عن ٦ بينما ألوانها جذابة)

التشابه : بين بلورة المعيني القائم وبلورة ثلاثي الميل كلاهما يحتوى على ثلاث
محاور بلورية مختلفة في الطول $c \neq b \neq a$

الاختلاف : بلورة المعيني القائم محاورها متعامدة الزوايا $\alpha = \beta = \gamma$
أما بلورة ثلاثي الميل محاورها غير متعامدة $\alpha \neq \beta \neq \gamma$

Mr.Moussa AlSayed

٢١. اختر أحد السؤالين (أ) أو (ب) ، ما الظروف البيئية التي أدت إلى :

- أ - ازدهار الحياة النباتية في العصر الكربوني في منطقة بدعة وثورا
ب - تراكم رواسب الفوسفات في منطقة هضبة أبو طرطور

ازدهار الغطاء النباتي نتيجة: ❑ ظروف مناخية دافئة ورطبة ❑ سهول منبسطة
❑ تربتها غنية بالعناصر الغذائية (اللازمة لنمو النبات)
❑ تهيأت الفرصة لتحويل تلك البقايا النباتية إلى طبقات من الفحم تتفاوت جودته
باختلاف درجة تحوله مثال: طبقات الفحم بمنطقة بدعة وثورا جنوب غرب بسيناء

تراكم رواسب الفوسفات : خلال العصر الطباشيري العلوي في منطقة هضبة أبو
طرطور أ- تكدست الحيوانات الفقارية البحرية حيث سادت:
❑ حرارة معتدلة ❑ ظروف بحرية ضحلة . ❑ ملوحة عادية
أدى إلى انتشار تلك الرواسب ذات القيمة الاقتصادية

٢٢. عرف : المستوى المحوري للطية.

المستوى المحوري:- هو المستوى الوهمي الذي يقسم الطية بكل طبقاتها
المختلفة إلى نصفين متماثلين ومتشابهين تماما من جميع الوجوه

٢٣- اختر الاجابة الصحيحة :

يتكون من تحلل أوراق الأشجار المتساقطة دوريا

أ) البيوجاز

ب) أشجار متحجرة

ج) الحفريات

د) الدبال

Mr.Moussa AlSayed

٢٤- يسبب الرعي الجائر مشكلات متعددة . وضح طرق علاج الرعي الجائر .

علاج الرعي الجائر :

١- إنشاء مزارع الأسماك والقشريات لتوفير البروتين

٢- تحويل المخلفات الزراعية إلى علف

٣- تحويل بعض النواتج الثانوية من بعض الصناعات إلى صناعة العلف

٢٥- وضح سلوك الكائنات الآتية في الظروف البيئية الآتية :

أولاً: ثعلب الفنك

١- يمتص دماء فرائسه كمصدر للماء

٢- أعداده قليلة ليتوازن مع أعداد فرائسه غير المتوفرة

٣- حسه حاد في السمع والشم والبصر لتتعايش مع هذه البيئة

حيث أن له آذان كبيرة لتجميع موجات الصوت من مسافات بعيدة

كما تساهم في إشعاع الحرارة من الجسم

ثانياً: الجراد

الحشرات الصحراوية: [الجراد / الخنافس]

اكتسبت أغشية جافة محكمة حول أجسامها للاحتفاظ بالماء

٢٦. ما السبب في تكون الظواهر الجيولوجية والرواسب الآتية ؟

أولاً: رواسب كربونات الصوديوم. ثانياً : مغارة ساحلية
ثالثاً: دلتا جافة رابعاً : قشور كروية

أولاً : رواسب كربونات الصوديوم تكونت نتيجة تبخر الماء وزيادة تركيز الأملاح أو حدوث تفاعلات كيميائية بالبحيرات المالحة مثل بحيرة وادي النطرون
ثانياً :المغارة الساحلية تتكون نتيجة اختلاف صلابة صخور الشاطئ حيث تتآكل الطبقات الرخوة وتظل الصلبة بارزة
ثالثاً : الدلتا الجافة : تتكون عندما تخرج السيول من الأخوار وتفقد سرعتها وتنتشر على سطوح السهول وترسب ما تحمله يبدأ الترسيب بالجلاميد والحصي الكبير عند مخرج الخور ويتناقص حجم الرواسب تدريجياً حتى تنتهي بالطين والرمال عند نهاية الترسيب
رابعاً : القشور الكروية : تخفيف الحمل نتيجة التعرية أو تظهر صخور نارية جوفية(كالجرانيت) على السطح تتمدد الصخور لأعلى حيث لا مقاومة . حيث ينفصل سطحها المكشوف إلى قشور كروية الشكل ويساعد على إتمام هذا الانفصال تحلل معدن الفلسبار بالتجوية الكيميائية للجرانيت

٢٧. وضح وجه الشبه والاختلاف بين الشيست الميكاني والنيس.

الشبه : كلاهما صخر متحول متورق ناتج عن تأثير الحرارة والضغط
الاختلاف : الشيست الميكاني تظهر فيه خاصية التورق نتيجة ترتيب بلورات الميكا في الصخر الطيني بعد نمو البلورات بتأثير ارتفاع درجة الحرارة ويكون في اتجاه عمودي على اتجاه الضغط لقليل تأثيره
يتكون من صفائح رقيقة متشابهة في تركيبها المعدني متصلة غير متقطعة
النيس : متحول من تعرض الجرانيت للحرارة والضغط بلورات معادنه مرتبة في صفوف متوازية ومتقطعة

٢٨. اختر أحد المصطلحات أ- علم البيئة : دراسة التفاعل بين الحياة ومكونات البيئة

ب- علم البيئة

يتناول تطبيق معلومات في مجالات معرفية (فيزيائية - كيميائية - بيولوجية - اجتماعية - اقتصادية)

أ - علم البيئة
ب - البيئة علميا

ب- البيئة : هي كل ما يحيط بالإنسان من مكونات حية أو غير حية يؤثر فيها ويتأثر بها

ويضم مفهوم البيئة المكونات الفيزيائية والكيميائية والبيولوجية والثقافية والاقتصادية والسياسية التي يتفاعل بعضها مع البعض

٢٩. فسر ما يأتي :

الخصائص الفيزيائية لللب الخارجي لها أهمية كبيرة

تمكن العلماء من تفسير أصل المجال المغناطيسي للأرض بسبب وجود لب خارجي من مواد مصهورة تدور حول لب داخلي صخري صلب

Mr.Moussa AlSayed

٣٠. ما النتيجة المترتبة على :

صناعة سيارات تسير بالكهرباء المتولدة من البطاريات الشمسية .

صناعة سيارات تعمل بالكهرباء باستخدام الخلايا الشمسية توفر الوقود من البترول ولا تلوث البيئة

٣١. وهب الله الحيوانات التي تعيش في الأعماق قدرات جسمية وفسولوجية خاصة. اذكر أهمية ذلك لها.

الحيوانات التي تعيش في الأعماق مزودة بقدرات جسمية وفسولوجية تمكنها من تحمل الضغط الزائد بالإضافة إلي البرودة الشديدة والظلام الدامس

٣٢. اكتب المصطلح العلمي الدال على العبارة الآتية:

معدن مكون من عنصر واحد ذو انفصام في اتجاه واحد موازي لقاعدة البلورة

الجرافيت

٣٣. - تتواجد مركبات الهيدروكربون في صورة صلبة - أذكر اسمها وأهميتها الاقتصادية

الطفل النفطى : صخر طيني غني بالمواد الهيدروكربونية أغلبها من أصل نباتي توجد في حالة شمعية صلبة (الكيروجين) عند تسخين الصخر إلى ٤٨٠م تتحول إلى مواد نفطية

٣٤. اختر الاجابة عن أحد السؤالين (أ) أو (ب):

أ - أطلق العالم ألفريد فيجنر نظريته في العام ١٩٢٢ التي تفسر وضع قارات العالم أولاً- اذكر الأسباب التي دعتة للقول بهذه النظرية

- أ- أولاً : الأسباب التي دعت فيجنر للقول بنظريته
- ١- التشابه الكبير بين الشاطيء الشرقي لشمال وجنوب أمريكا وتعرجات الشاطيء الغربي لأوربا وأفريقيا (كما لو كانت قطعة واحدة وتمزقت)
 - ٢- التشابه بين صخور القارات المختلفة وبقايا الحياة القديمة عليها .
- ثانياً : - الأحافير الحيوانية

- (أ) أحافير بعض الزواحف من جنس واحد (ولا تستطيع خوض المحيطات) توجد منحصرة في صخور القارات الجنوبية فقط
- (ب) أحافير شعاب مرجانية التي تتواجد في بيئة مدارية وجودها حالياً قرب المنطقة القطبية يدل على أن هذه المناطق كانت في بيئة مختلفة عن وضعها الحالي

فروض نظرية تكتونية الألواح :

- ١- سطح الأرض مكون من عدة ألواح كبيرة إما محيطية أو قارية (أو كلاهما) تبلغ في السمك حوالي ١٠٠ كم
- ٢- تقع حدود هذه الألواح عند أغوار (شقوق) بحرية عميقة أو تشققات عميقة أو سلاسل جبال عالية
- ٣- هذه الألواح تتحرك حركة دائبة بسرعة بطيئة غير محسوسة نتيجة وجود تيارات الحمل الدورانية فينتج عنها معظم الظواهر البنائية الضخمة بالقشرة الأرضية

٣٥. اشرح العبارة التالية:

يؤثر الضوء النافذ داخل مياه البحار على لون المياه ومدى انتشار الأحياء البحرية

يؤثر الضوء النافذ داخل مياه البحر على :

- ١- لون المياه فتتلون مياه البحار باللون الأزرق لأن الأشعة الزرقاء والبنفسجية قصيرة الموجة تنفذ إلى المياه العميقة
- ٢- مدى انتشار الأحياء البحرية : لأن النباتات تنتشر حيث يوجد الضوء الذى تعتمد عليه فى عملية البناء الضوئى وتغيب النباتات تماماً عن المياه المظلمة ويؤثر ذلك أيضاً فى توزيع الأحياء التى تعتمد على تلك النباتات

Mr.Moussa AlSayed

٣٦. اشرح العبارة التالية:

يتكون الجبس بعوامل فيزيائية وبعوامل كيميائية

يتكون الجبس بعوامل :

- ١- فيزيائية : فالجبس من صخور المتبخرات التى تترسب نتيجة تبخر المياه بتأثير الحرارة من بحيرات مقفولة أو شبه مقفولة أو السبخات الساحلية
- ٢- كيميائية : عملية التميؤ (إضافة الماء إلى التركيب المعدني) تحول معدن الانهيدريت (كبريتات الكالسيوم لامائى) إلى معدن الجبس (كبريتات الكالسيوم مائى)

٣٧. اختر الاجابة عن (أ) أو (ب):

أ- اكتب خصائص الحفرية المرشدة

ب - عرف السلم الجيولوجي

أ- الحفرية المرشدة : هى حفرية ذات انتشار جغرافى واسع ومدى زمنى محدود يعتمد عليها فى تقدير عمر الأرض

ب- السلم الجيولوجى: من أهم الانجازات التى حققها علم الجيولوجيا للمعرفة الإنسانية حيث توضع الأحداث الجيولوجية فى مكانها الصحيح لا يوجد السلم الجيولوجى فى مكان واحد كاملاً لوجود انقطاع حيث تختفى بعض الطبقات وذلك بسبب عمليات التعرية أو انقطاع الترسيب لفترة زمنية وهو ما يسمى بأسطح عدم التوافق

٣٨. اذكر أهم الخصائص المميزة لمعدن الماس عن غيره من المعادن.

الماس : من المعادن العنصرية المنفردة يعتبر أصلد المعادن فى الطبيعة حيث تبلغ صلادته ١٠ على مقياس موهس له بريق لا فلزى ماسى من الأحجار الكريمة الطبيعية التى تظهر فيها خاصية عرض الألوان حيث يفرق شعاع الضوء الساقط عليه نتيجة انكساره إلى اللونين الأحمر والبنفسجى فيكون له بريقاً عالياً فى جميع الاتجاهات

Mr.Moussa AlSayed

٣٩. ما النتيجة المترتبة على :

اختفاء الكائنات المحللة من بيئة ما ؟

لا تتحلل بقايا النباتات والحيوانات الميتة ولا تطلق مركبات عناصر (الكربون - الفوسفور - النيتروجين) إلى التربة ليعاد استخدامها وبذلك لن يستمر النظام الايكولوجي

٤٠. وضح الخصائص العامة المميزة لبلورة فصيلة السداسي.

النظام السداسي : تشتمل البلورة على ثلاث محاور بلورية أفقية متساوية فى الطول وتتقاطع مع بعضها فى زوايا متساوية ويتعامد عليهم محور رأسى سداسى التماثل يختلف عنهم فى الطول كما تحتوى على مستوى تماثل أفقى $a_1 = a_2 = a_3 \neq c$

٤١. اختر الإجابة الصحيحة :

يمتص الكلوروفيل الموجود في أوراق النبات الموجات الضوئية التي تتراوح أطوالها بين ... و نانومتر

١) ٣٩٠ - ٨٧٠

ب) ٧٨٠ - ٩٣٠

ج) ٣٩٠ - ٧٨٠

د) ٧٨٠ - ٨٧٠

٤٢. ما المقصود بالموارد البيئي؟

المورد البيئي : هو كل مايو جد في البيئة الطبيعية من مكونات لادخل للإنسان في وجودها لكنه يعتمد عليه في شئون حياته من مآكل ومسكن وملبس

٤٣. اختر أحد السؤالين (أ) أو (ب):

أ - خلال دراستك لمنهج الجيولوجيا، درست أخذود كلورادو مرتين. وضح كيف تم تفسير أخذود كلورادو في الحالتين؟

ب - ما المقصود بكل من :

أولاً: منسوب الماء
ثانياً: الموجات السطحية

أ- نشأة الأخدود العظيم لنهر كولورادو نتيجة

- ١- الحركات البانية للقارات حيث تظهر الرواسب البحرية على جداري الأخدود على ارتفاع ١٥٨٠ م فوق سطح البحر أفقية كما كانت على حالتها الأولى عند الترسيب □ هذا يعني أن مساحة كبيرة من سطح الأرض ارتفعت بقدر كبير دون أن تتعرض لأي تشوه خلال عملية الرفع التي استمرت بشكل بطيء وتدرجي لفترة زمنية طويلة
- ٢- المناخ الجاف: في المناطق الجافة يكون النهر قويا محتفظا بحمولته لذا ينحت النهر أخدودا عميقا

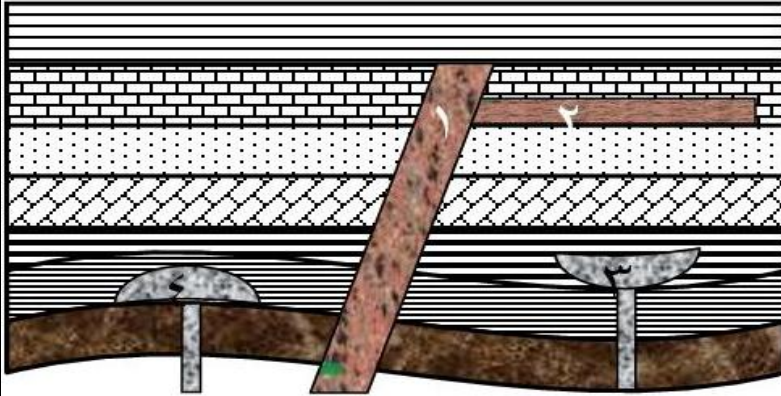
أولاً : منسوب المياه : مستوى ماء التربة وهو مستوى المياه الذي تنشعب أسفله جميع المسام والشقوق والفراغات بالماء

ثانياً : الموجات السطحية وتسمى بالموجات الطويلة

- هي موجات معقدة ذات سعة كبيرة تنتقل قرب سطح الأرض
- تتولد من الطاقة الناتجة عن الموجات الأولية والثانوية
- آخر الموجات وصولاً لأجهزة الرصد ويعزى إليها الدمار الشامل

الرسم الذي أمامك يوضح أشكال للصخور النارية تحت السطحية.

ادرس الشكل جيدا ثم أجب:



أ (تعرف على التركيب ١ ، ٢ وما الحركة التكتونية المسببة لتكونهما؟
ب (ما التركيب الجيولوجي المتكون تحت تأثير التركيب ٣ والتركيب ٤؟

١- العروق : تنتج من تداخل المجما في الصخور المحيطة بها بحيث تكون قاطعة لها
٢- الجدد : تنتج من تداخل المجما في الصخور المحيطة بها بحيث تكون موازية
لأسطح الطبقات وغير قاطعة لها

الحركة التقاربية بين لوحين قاريين أو الحركة التقاربية بين لوح قارى ولوح محيطى حيث تؤدى إلى الحركات البانية للجبال التى تنشط معها الصهارة وتصد من الأعماق عبر الفوالق السحيقة الناتجة عن عمليات الطي والتصدع حيث تبرد وتتجمد مكونة صخور نارية متداخلة بين طبقات الصخور السطحية أو قاطعة لها

ب- التركيب الجيولوجي المتكون تحت تأثير اللوبوليث (٣) هو الطية المقعرة واللاكوليث (٤) هو الطية المحدبة

٤٥. الزلازل من الظواهر الجيولوجية المروعة ، إلا أن الموجات التى تنطلق عنها لها العديد من الفوائد. اذكرها.

أهمية دراسة الموجات الداخلية : بدراسة هذه الموجات الداخلية تعرف العلماء على
١- التركيب الداخلى للأرض (تقسيم لب الأرض إلى لب خارجى وداخلى)
٢- تحديد مركز الزلزال
٣- معرفة أماكن تواجد البترول والغاز الطبيعى والمياه الجوفية

مع أطيب التمنيات بالتوفيق،،،

الأستاذ / موسى السيد خبير تدريس الأحياء والجيولوجيا
ت / ٠١٠٩٩٣٧٨٢٠٦

امتحان تجريبي (للعام الدراسي 2015 / 2016)

الجيولوجيا والعلوم البيئية للثانوية العامة الزمن : ثلاث ساعات

أجب عن أربعة أسئلة فقط مما يأتي :

السؤال الأول : (15 درجة)

(أ) اختر الإجابة الصحيحة لكل مما يأتي واكتبها في كراسة الإجابة: (4 درجات)

- 1- تنتمي المعادن التالية لمجموعة الكبريتات عدا معدن
 أ- الجبس ب- الأنهدريت ج- البيريت د- الباريت
- 2- تتساوى الزوايا في الأنظمة البلورية التالية
 أ- المكعبي والمعيني القائم ب- المعيني القائم وأحادي الميل
 ج- الرباعي وثلاثي الميل د- المعيني القائم وثلاثي الميل
- 3- وجود الفواصل في إحدى الطبقات وعدم وجودها في الطبقات الأخرى يدل على حدوث
 أ- حركات باتية للقارات ب- تجوية ميكانيكية
 ج- عدم التوافق د- الطيات
- 4- معدن يتبلور بعد البيروكسين في سلسلة تفاعل بووين الغير متصلة.
 أ- الأوليفين ب- الأمفيبول ج- البيوتيت د- المسكوفيت
- 5- صخر المتحول وبلورات معادنه مرتبة في صفوف متصلة وغير متقطعة .
 أ- الطين الصفحي ب- الشيست الميكائي ج- الطفل د- النيس
- 6- تتواجد أحافير الشعاب المرجانية الآن في بيئة
 أ- مدارية ب- استوائية ج- معتدلة د- قطبية
- 7- يقيس مقياس ريختر الزلزال
 أ- شدة ب- قدر ج- موجات د- مركز
- 8- عندما يتقارب لوحين تكتونيين محيطيين تنشأ
 أ- سلاسل الجبال ب- قوس الجزر البركانية
 ج- الألواح المحيطية الجديدة د- الصدوع الانتقالية العمودية

(ب) 1- قارن بين كل من: (6 درجات)

أ- الرخام والاردواز 2- الجيوكيمياء والجيوفيزياء

3- الهيماتيت والكوارتز ؟

(بقية الأسئلة في الصفحة الثانية)

-2-

(ج) 1- وضح نوع الصخور التالية بالتفصيل :- (5 درجات)

الأوبسيديان - الدولوميت - البريشيا - الدايوراييت .

2- اكتب مثالين : للأدلة الحديثة على حدوث الحركات الأرضية .

السؤال الثاني : (15 درجة)

(أ) اكتب المصطلح الدال على كل عبارة مما يلي:- (6 درجات)

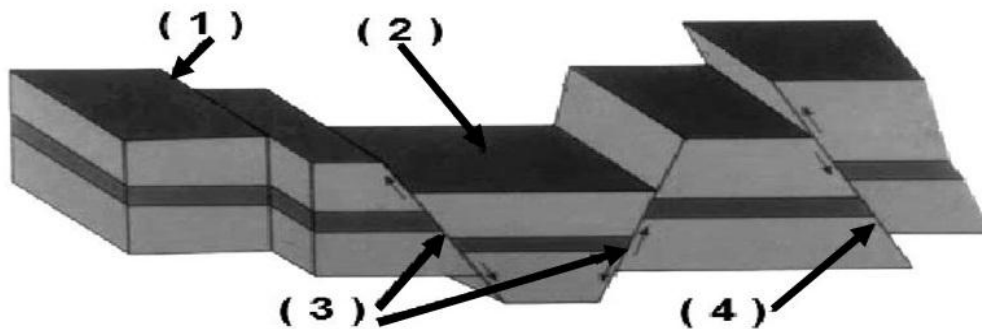
- 1- كتل صخرية بيزاوية الشكل تتكون من اللافا عند تجمدها قرب سطح الأرض.
- 2- مستوى يحيط بالكرة الأرضية من جميع الجهات وتنسب إليه إرتفاعات الظواهر الطبوغرافية المختلفة.
- 3- صخر متحول يحتوي على حفريات مشوهة للفورمنيفرا .
- 4- معدن من معادن الكبريتيدات بريقه فلزي وانفصامه مكعبي .
- 5- خاصية تموج بريق المعدن ذو النسيج الأليافي باختلاف النظر إليه .
- 6- الخط الوهمي الناتج من تقاطع المستوى المحوري مع أي سطح من أسطح طبقات الطية المختلفة.

(ب) ماذا يحدث في الحالات التالية ؟: (4 درجات)

- 1- حك معدن البيريت بقطعة خرف غير مصقول.
- 2- تكس بقايا الحيوانات الفقارية البحرية في ظروف البيئة البحرية الضحلة والملوحة العادية .
- 3- انكسار الكتل الصخرية فجأة في تتابع صخري ما نتيجة قوة شد أو ضغط.
- 4- دفن مواد نباتية بعيداً عن الأكسجين ملايين السنين في باطن الأرض.

(ج) 1- الشكل التالي يمثل مجموعة من الفوالق.

اكتب أنواع الفوالق في كل من (1 : 4) :- (2 درجة)



2- معدن تركيبه الكيميائي ثاني أكسيد السيليكون : (3 درجات)

- 1- كم تبلغ صلابته ؟ اذكر أهميته ؟
- 2- ما نوع بريقه ؟ وما نوع الانفصام به ؟
- 3- اكتب مثال لصخر رسوبي وآخر متحول يدخل المعدن في تركيبه .

(بقية الأسئلة في الصفحة الثالثة)

-3-

السؤال الثالث : (15 درجة)(أ) 1- ما المقصود بكل من : (3 درجات)

- أ- الحركات البانية للجبال. ب- الكيروجين. ج- الشفافية.
 2- وضح بالرسم فقط كامل البيانات : قطاع في الكرة الأرضية يبين أغلفتها المختلفة. (3 درجات)

(ب) ما النتائج المترتبة على : (4 درجات)

- 1- التكثف الشديد لبخار الماء الناتج من الثورات البركانية القديمة .
 2- تعرض معدن الكوارتز لطاقة إشعاعية عالية .
 3- تماثل التغيرات المغناطيسية للأشرطة على جانبي حيد وسط المحيط .
 4- تجمع ماجما عالية اللزوجة في طبقات القشرة الأرضية .
 (ج) 1- " صخر استخدمه الانسان قديما في صناعة السكاكين والحراش " (درجتان)
 أ- تعرف عليه . ب- إلى أي نوع من الصخور ينتمي .
 2- " تعتبر البراكين من أكبر الظواهر المروعة في الطبيعة " . (3 درجات)
 أ- ما هي تأثيرات البراكين على سطح القشرة الأرضية ؟
 ب- اذكر الأسباب التي تؤدي الى حدوث البراكين وثوراتها .

سؤال الرابع : (15 درجة)(أ) اكتب العبارات التالية في كراسة الإجابة بعد تصويب ما تحته خط : (6 درجات)

- 1- يتكون الوشاح الداخلي من مصهور الحديد والنيكل .
 2- الفالق الخشفي نوع من أنواع الفوالق المعكوسة ويكون مستواه أفقي تقريبا .
 3- معدن الكبريت معدن عنصري ويتميز بانفصام مكعبي .
 4- نسبة الكوارتز في صخر الرايوليت حوالي 50% .
 5- صدع سان أندرياس مثال لحركة بانية للقارات .
 6- تراكمت طبقات الملح الصخري في العصر الكربوني في وسط أوروبا من 250 مليون سنة.

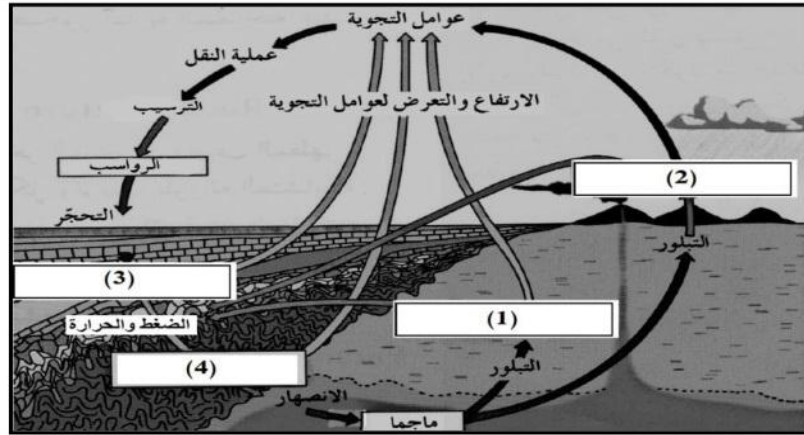
(ب) علل لما يأتي : (4 درجات)

- 1- لا يدخل الأوليفين في تركيب صخر الميكروجرانيت .
 2- موجات الزلازل الداخلية لها أهمية خاصة .
 3- تتعدد ألوان معدن السفاليريت .
 4- أحافير النباتات الأولية البرية أحد شواهد نظرية الانجراف القاري .
 5- للفوالق أهمية اقتصادية .

(بقية الأسئلة في الصفحة الرابعة)

-4-

(ج) الشكل التالي يبين دورة الصخور في الطبيعة. ادرسه جيدا ثم اكتب : (4 درجات)



- 1- اسم الصخر (3) إذا كان الصخر (4) هو الأردواز .
- 2- اسم الصخر (4) إذا كان الصخر (1) بلوراته واضحة وفتح اللون.
- 3- اسم الصخر (2) إذا كان يحتوي على سيليكات من 45% إلى 55%.
- 4- اسم الصخر (1) إذا كان نسيجه بورفيرى ومتوسط اللون.

(15 درجة)

السؤال الخامس :

- (أ) 1- عرف الزلزال ؟ ثم الأنواع المختلفة للزلازل . (2 درجة)
- 2- جبال الانديز من الجبال الشهيرة في قارة أمريكا الجنوبية في ضوء ذلك أجب :
- 1- كيف تكونت هذه الجبال في هذه المنطقة . (3 درجات)
- 2- تتميز هذه الجبال بوجود نوع من الصخور النارية وضحه . ثم اكتب أهم خصائصه .

(ب) 1- اكتب نبذة مختصرة عن : (5 درجات)

- 1- النظام البللوري السداسي . 2- التراكيب الأولية . 3- السيماء .
- 2- ما المقصود بالطيات ؟ وضح أهم الفروق بين الطية المحدبة والطية القعرة .
- (ج) تخير من العمود (أ) ما يناسبه من العمود (ب) واكتب العبارة كاملة : (5 درجات)

العمود (أ)	العمود (ب)
1- الفواصل .	أ. يستخدم في أعمال الرصف .
2- الليمونيت	ب. يستخدم في صناعة الأسمنت .
3- البازلت	ج. استخدمت عند عمل المسلات الفرعونية .
4- البريشيا	د. استخدمت في الرسم على جدران الكهوف قديما .
5- الكالسيت	هـ. تصعد خلالها النافورات والمياه الساخنة .
	و. شائع الاستعمال في أعمال زينة الجدران .
	ز. يستخدم في صناعة الخزف .

(انتهى الأسئلة)

امتحان تجريبي للعام الدراسي ٢٠١٥ / ٢٠١٦ رقم ٣ ثلاثة
الجيولوجيا والعلوم البيئية للثانوية العامة
الزمن : ثلاث ساعات

أجب عن أربعة أسئلة فقط مما يأتي :

(١٥ درجة)

السؤال الأول :

(أ) اختر الإجابة الصحيحة لكل مما يأتي واكتبها في كراسة الإجابة: (٤ درجات)

- ١- تنتمي المعادن التالية لمجموعة الكبريتيدات عدا معدن
 أ- الجالينا ب- السفاليريت ج- البيريت د- الباريت
 - ٢- تتساوى أطوال محاورين أو أكثر في الأنظمة البلورية التالية
 أ- المكعبي والمعينى القائم ب- المعينى القائم وأحادي الميل
 ج- الرباعي والسداسي د- أحادي الميل وثلاثي الميل
 - ٣- عند تأثر السطح الفاصل بين مجموعتين من طبقات الصخور الرسوبية المتوازية بعوامل التعرية لفترات طويلة يؤدي ذلك إلى حدوث
 أ- عدم توافق متباين ب- عدم توافق زاوي
 ج- عدم توافق انقطاعي د- فواصل وفوالق
 - ٤- معدن يتبلور بعد الأمفيبول في سلسلة تفاعل بووين الغير متواصلة.
 أ- الأوليفين ب- البيروكسين ج- ميكا البيوتيت د- المسكوفيت
- (ب) ١- قارن بين كل من:**

- ١- الطين الصفحي والشيست الميكاني
 - ٢- الجيولوجيا الهندسية والجيولوجيا الاقتصادية .
- (ج) ١- وضح نوع الصخور التالية بالتفصيل :- (٥ درجات)**
- البيريديوتيت - الجابرو - الصوان - الكوارتزيت .

(١٥ درجة)

السؤال الثاني :

(٦ درجات)

(أ) اكتب المصطلح الدال على كل عبارة مما يلي:-

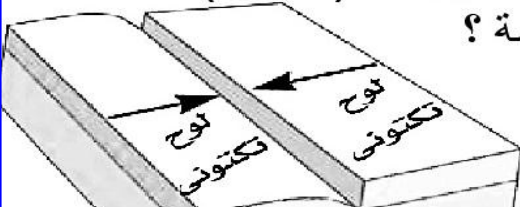
- ١- آخر الموجات الزلزالية وصولاً لأجهزة رصد الزلازل .
- ٢- الظاهرة الناشئة بسبب حركة مصهور اللب الخارجي حول اللب الداخلي الصلب
- ٣- صخر رسوبي قطني قطر حبيباته المستديرة المتماسكة أكبر من ٢ مم .

(ب) ماذا يحدث في الحالات التالية ؟: (٤ درجات)

- ١- سقط شعاع ضوء على بلورة معدن الماس .
- ٢- أثرت طاقة الغازات المحتبسة على صخور قشرة أرضية ضعيفة .

(ج) ١- الشكل التالي يمثل الحركة التكتونية التقاربية :- (٥ درجة)

١- لماذا تسمى هذه الحركة باسم الحركة الهدامة ؟



٢- ما هي أنواع هذه الحركة ؟ مع ذكر أمثلة لها .

السؤال الثالث :

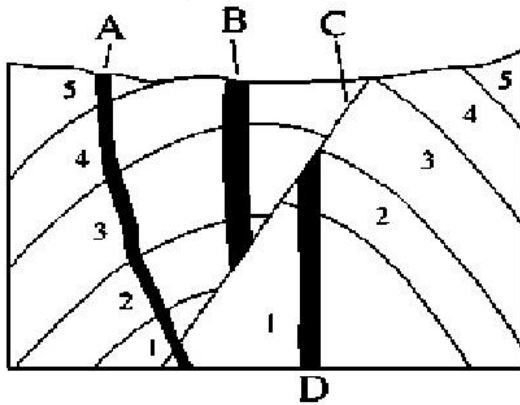
(١٥ درجة)

(أ) ١- ما المقصود بكل من :

- أ- الحركات البانية للقارات .
ب- الزلازل البلوتونية .
ج- الصلادة .

(٦ درجة)

(ب) تبين الشكل المقابل جيدا ثم أجب عن الأسئلة التالية :



- ١- استخرج من الشكل نوعين مختلفتين من التراكيب الجيولوجية تكتونية الأصل مبينا نوعهما ؟

(ج) ١- " التطور الصناعي والاقتصادي قائم على علم الجيولوجيا " (٦ درجة)
في ضوء ذلك وضح أهمية علم الجيولوجيا .

(١٥ درجة)

السؤال الرابع :

(أ) اكتب العبارات التالية في كراسة الإجابة بعد تصويب ما تحته خط : (٦ درجات)

- ١- ترتيب وصول الموجات الزلزالية إلى محطات رصد الزلازل هو التكتونية ثم البلوتونية ثم الطولية .
٢- الصدوع الخسفية تنشأ من الحركة الانزلاقية للألواح التكتونية .
٣- معدن الكبريت سطحه مطفى غير براق .

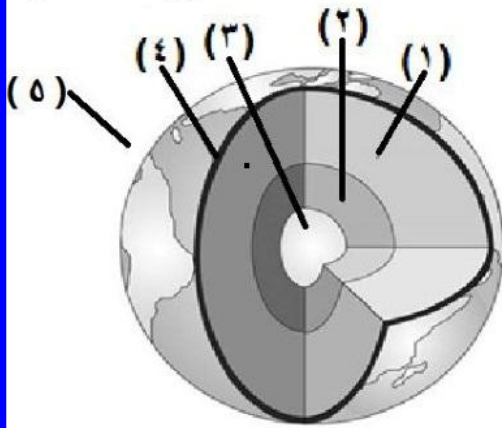
٥)

٤- (ب) علل لما يأتي :

(درجات)

- ١- لوح المخدش الخزفي يمكن أن يستخدم في دراسة الخواص البصرية والتماسكية معا .
٢- تتعاون ٣ محطات لتعيين نقطة فوق مركز الزلزال .
٣- الفحم ليس معدن من نظر الجيولوجي المتخصص في المعادن .

(ج) الشكل التالي يبين قطاعا في الكرة الأرضية . ادرسه جيدا ثم اسم ورقم التركيب الذي : (٤ درجات)



١ - متوسط كثافة صخوره حوالي ١٤ جم/سم^٣ .

٢ - متوسط كثافة صخوره حوالي ٢,٨ جم/سم^٣ .

السؤال الخامس : (١٥ درجة)

(أ) ١ - عرف البركان ؟ ثم اذكر الأنواع المختلفة للبراكين . (٦ درجة)

(ب) ١ - اكتب نبذة مختصرة عن :

٦ درجات

١ - النظام البللوري الثلاثي . ٢ - تراكيب التبلور والتحول.

(٣ درجة)

ج- ما المقصود بالفوالق ؟ وضح أهم الفروق بين الفالق البارز والفالق الخسفي .

(انتهت الأسئلة)