



الديناميكا

الحركة في خط مستقيم

هدية لطلاب هندسة الكهرونيات الدفعة I4
جامعة السودان للعلوم والتكنولوجيا كلية الهندسة

مارس 2017 م

امثله محلولة في الديناميكا ،، الحركة في خط مستقيم (حركة خطية)

اعداد: ناشد محمد احمد

ملاحظات هامة في حل مسائل الحركة الخطية:-

- ❖ الجسم المتحرك بسرعة ثابتة فإن تعجيله (العجلة) يساوي صفر ($a=0$)
- ❖ إذا كانت سرعة الجسم في تناقص فإنه يمتلك تعجيل تباطؤي. أي تعوض قيمة التعجل بإشارة سالبة
- ❖ إذا تحرك جسم من السكون فإن سرعته الابتدائية تساوي صفر ($U=0$)
- ❖ إذا توقف الجسم عن الحركة فإن سرعة الجسم النهائية تساوي صفر ($V=0$)
- ❖ لتحويل السرعة من وحدة (km/h) إلى وحدات (m/s) نضرب قيمة السرعة في $\frac{5}{18}$
- ❖ لتحويل مسافه من وحده (km) الي متر الي (m) نضرب في 1000
- ❖ لتحويل مسافه من ملي متر (mm) الي متر (m) نقسم على 1000

1. $V = U + a t$

2. $V^2 = U^2 + 2 a s$

3. $S = U t + \frac{1}{2} a t^2$

4. $S = \frac{V+U}{2} t$

قوانين
الحركة في
خط مستقيم

المسافة S ، الزمن t ، العجلة a ، السرعة النهائية V ، السرعة الابتدائية U

مثال (1) :

تهبط طائرة حربية على حاملة طائرات بسرعة (360 km/h). احسب: -

1- تعجيل الطائرة إذا توقفت خلال زمن قدره (4 sec)

2- أقصى مسافة تتحركها الطائرة إلى أن تقف ؟

الحل:-

المعطيات

$$U = 360 \text{ km/h} - V = 0 \text{ m/s} - a_{at} = 4 = ? - s = ?$$

أولا نقوم بتحويل السرعة من وحدة الـ (km/h) الي (m/s)

$$360 \times \frac{5}{18} = \underline{100 \text{ m/s}}$$

$$\begin{aligned} 1. \quad V &= U + a t \\ 0 &= 100 + a 4 \\ -100 &= 4a \end{aligned}$$

نقسم الطرفين على معامل a

$$\therefore \underline{a = -25 \text{ m/s}^2}$$

الإشارة السالبة تعني أن التعجيل تباطوي .

$$\begin{aligned} 2. \quad S &= ut + \frac{1}{2} a t^2 \\ S &= 100 \times 4 + \frac{1}{2} (-25) (4)^2 \\ S &= 400 - 200 \\ \therefore \underline{S = 200 \text{ m}} \end{aligned}$$

مثال (2)

سيارة تتحرك بسرعة (30m/s) فإذا ضغط سائقها على الكوابح تحركت السيارة بتباطؤ (6m/s²) احسب مقدار:-

1. سرعة السيارة بعد (2 sec) من تطبيق الكوابح؟
2. الزمن الذي تستغرقه السيارة حتى تتوقف عن الحركة؟
3. الإزاحة التي تقطعها السيارة حتى تتوقف عن الحركة؟

الحل:-

المعطيات

$$U = 30 \text{ m/s} - a = -6 \text{ m/s}^2 - V_{at=2}=? - t=? - s=?$$

1. $V = u + at$
 $= 30 + (-6) \times 2 = \underline{18 \text{ m/s}}$

2. $V = u + at$
 $0 = 30 + (-6t)$
 $6t = 30$

نقسم الطرفين على معامل t (6)

$$\underline{\therefore t = 5 \text{ sec}}$$

3. $S = \frac{v+u}{2} t$

$$S = \frac{0+30}{2} 5 = \underline{75 \text{ m.}}$$

مثال (3):

تتحرك سيارة بسرعة (20m/s) ثم اخذت تتسارع بمعدل (3 m/s²)، احسب المسافة التي قطعتها حتى تصل إلى سرعة (26 m/s) من لحظة بدء تسارعها ثم أحسب الزمن اللازم لذلك.

الحل:

المعطيات

$$U = 20 \text{ m/s} - a = 3 \text{ m/s}^2 - S_{at} v = 26 = ? - t = ?$$

نستنتج الزمن اولاً لتعويضه في قانون المسافة.

$$V = U + a t$$

$$26 = 20 + 3t$$

$$26 - 20 = 3t$$

$$\frac{6}{3} = \frac{3t}{3}$$

$$\therefore t = \underline{2 \text{ sec}}$$

$$S = \frac{U+V}{2} t$$

$$S = \frac{20 + 26}{2} 2$$

$$\therefore S = \underline{46 \text{ m}}$$

مثال(4):

بدأ جسم الحركة من السكون بتعجيل ثابت مقداره (3m/s^2) احسب مقدار سرعته بعد أن يقطع مسافة (6 m)

الحل: -

المعطيات

$$U = 0 \text{ m/s} \quad - \quad a = 3 \text{ m/s}^2 \quad - \quad S = 6 \text{ m} \quad - \quad V = ?$$

$$V^2 = U^2 + 2 a s$$

$$V^2 = 0^2 + 2 \times 3 \times 6 = 36$$

$$V^2 = 36$$

$$\sqrt{V^2} = \sqrt{36}$$

$$\therefore \underline{V = 6 \text{ m/s}}$$

نجد الطرفين

مثال(5):

يتحرك قطار بسرعة (80km/h) ضغط السائق على جهاز التوقف (الفرامل) ليوقف القطار، فأخذ القطار يتباطأ بمعدل (2m/s²) احسب ما يلي:



1. الزمن اللازم لتوقف القطار .
2. المسافة التي قطعها القطار من لحظة الضغط على جهاز الإيقاف حتى يتوقف.

الحل: -

المعطيات

$$U = 80 \text{ km/h} \quad - \quad a = -2 \text{ m/s}^2 \quad - \quad S = ? \quad - \quad t = ?$$

أولا نقوم بتحويل السرعة من وحدة الـ(km/h) الي الـ(m/s)

$$80 \times \frac{5}{18} = \underline{\underline{22.2 \text{ m/s}}}$$

$$1. \quad V = U + a t$$

$$V = 22.2 + (-2 t)$$

$$\frac{2t}{2} = \frac{22.2}{2}$$

$$\therefore t = \underline{\underline{11.1 \text{ sec}}}$$

$$2. \quad S = \frac{u+v}{2} \times t$$

$$S = \frac{22.2+0}{2} \times 11.1$$

$$\therefore S = \underline{\underline{123.21 \text{ m}}}$$

مثال (6)

تتحرك سيارة بسرعة (8m/s) في خط مستقيم بتسارع ثابت وتقطع مسافة مقدارها (640m) في زمن قدره (40 sec) . إحسب خلال هذه الفترة :-



1-تسارع السيارة

2-السرعة النهائية ؟

الحل :-

المعطيات

$$U= 8 \text{ m/s} - s= 640 \text{ m} - t= 40 \text{ sec} - a=? - V=?$$

$$1. S = ut + \frac{1}{2} a t^2$$

$$640 = 8 \times 40 + \frac{1}{2} a (40)^2$$

$$640 = 320 + 800a$$

$$640 - 320 = 800a$$

$$320 = 800a$$

$$\therefore \underline{a = 0.4 \text{ m/s}^2}$$

نقسم الطرفين على معامل a

$$2. V = U + at$$

$$V = 8 + 0.4 \times 40$$

$$\therefore \underline{V = 24 \text{ m/s}}$$

مثال (7) :

دراجة تتحرك بسرعة (10 m/s) ثم أخذت تتباطأ بانتظام بمعدل (1 m/s²) خلال زمن قدره (5 sec) احسب:-



1- السرعة النهائية .

2- المسافة المقطوعة خلال هذا الزمن ؟

الحل :-

المعطيات

$$U = 10 \text{ m/s} - a = 1 \text{ m/s}^2 - t = 5 \text{ sec} - V = ? - S = ?$$

1. $V = U + at$

$$V = 10 + (-1) \times 5$$

$$\therefore \underline{V = 5 \text{ m/s}}$$

2. $S = \frac{u+v}{2} \times t$

$$S = \frac{10+5}{2} \times 5$$

$$\therefore \underline{S = 37.5 \text{ m}}$$

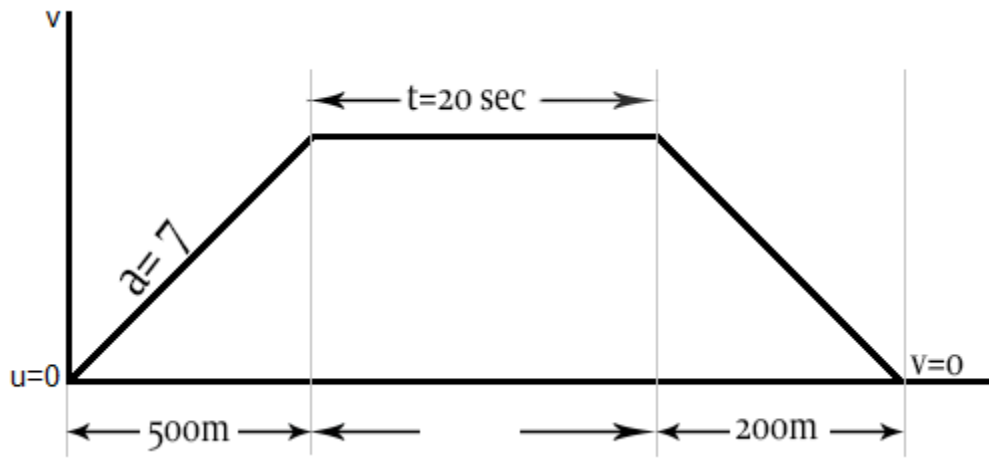
مثال (8) :

تحرك جسم من السكون بعجلة (7 m/s^2) مسافة (500 m) ثم دار بسرعة منتظمة لمدة (20 sec) ، ثم كسب تقصير فتوقف بعد ان سار (200 m) بهذا التقصير . احسب الاتي :

1. الزمن الكلي للرحلة.
2. المسافة الكلية للرحلة.
3. التقصير.

الحل :

اولاً قبل الحل ، ، عندما تكون المسألة متكونه من عدة مراحل (عادة توجد فيها كلمة ثم) من الأفضل لك ان تقوم برسم رسمة هذه المسألة ، كالآتي :



لأنه يوجد لدينا عدة مسافات و عدة ا زمن سنقوم بتقييمهم على هذا السياق ($s_1 s_2 s_3 , t_1 t_2 t_3$).

المرحلة الأولى:

المعطيات

$$U = 0 \text{ m/s} - a = 7 \text{ m/s}^2 - s_1 = 500 \text{ m} - t_1 = ?$$

$$V^2 = U^2 + 2 a s$$

$$V^2 = 0^2 + 2 \times 7 \times 500 = 7000$$

$$\sqrt{V^2} = \sqrt{7000}$$

نجد الطرفين

$$\therefore V = 83.66 \text{ m/s}$$

$$S = ut + \frac{1}{2} a t^2$$

$$500 = \cancel{0} \times t + \frac{1}{2} \times 7 t^2$$

$$500 = 3.5 t^2$$

نقسم الطرفين على معامل (t^2)

$$\frac{500}{3.5} = \frac{3.5 t^2}{3.5}$$

$$\sqrt{142.8} = \sqrt{t^2}$$

نجدز الطرفين

$$\therefore t = \underline{\underline{11.9 \text{ sec}}}$$

المرحلة الثانية :

المعطيات

$$U = 83.66 \text{ m/s} - V = 83.66 \text{ m/s} - t_2 = 20 \text{ sec} - s_2 = ?$$

$$S = \frac{U+V}{2} t$$

$$S = \frac{83.66 + 83.66}{2} 20$$

$$\therefore S_2 = \underline{\underline{1673.2 \text{ m}}}$$

المرحلة الثانية :

المعطيات

$$U = 83.66 \text{ m/s} - V = 0 \text{ m/s} - s_3 = 200 \text{ m} - t_3 = ? - a = ?$$

$$S = \frac{U+V}{2} t$$

$$200 = \frac{83.66 + 0}{2} t$$

$$200 = 41.83t$$

$$\therefore t_3 = \underline{\underline{4.7 \text{ sec}}}$$

$$v = u + a t$$

$$0 = 83.66 + a 4.7$$

$$- 83.66 = 4.7a$$

$$\therefore a = \underline{\underline{17.8 \text{ m/s}^2}}$$

إذا الزمن الكلي للرحلة يساوي :

$$T = t_1 + t_2 + t_3$$

$$T = 11.9 + 20 + 4.7 = \underline{\underline{36.6 \text{ sec}}}$$

المسافة الكلية :

$$S = S_1 + S_2 + S_3$$

$$S = 500 + 1673.2 + 200 = \underline{\underline{2373.2 \text{ m}}}$$

التقصير:


$$a = \underline{\underline{17.8 \text{ m/s}^2}}$$

اشرفى

nashid1@gmail.com

ملاحظة:

إذا كانت المسألة يمكن حلها بعدة قوانين عليك باختيار أسهل قانون والعمل به، ويمكنك استنتاج قوانين من القوانين الأربعة الرئيسية والعمل بها أيضاً.

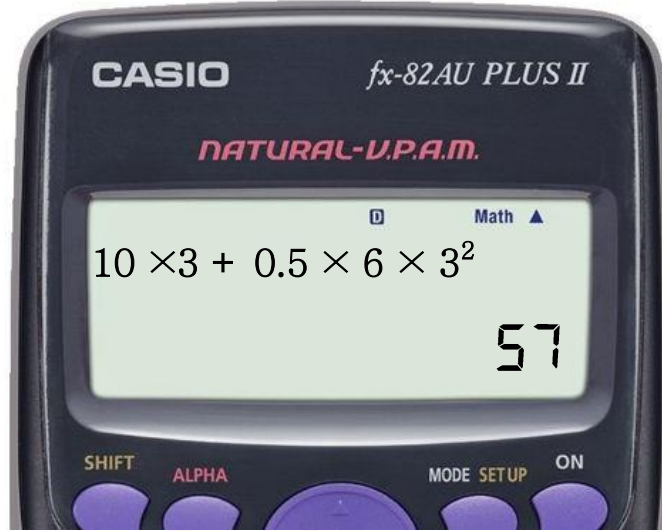
طريقة استخدام الآلة الحاسبة: 

$$S = U t + \frac{1}{2} a t^2$$

على سبيل المثال هذا القانون

نعوض قيم في هذا القانون $U=10$, $t=3$, $a=6$

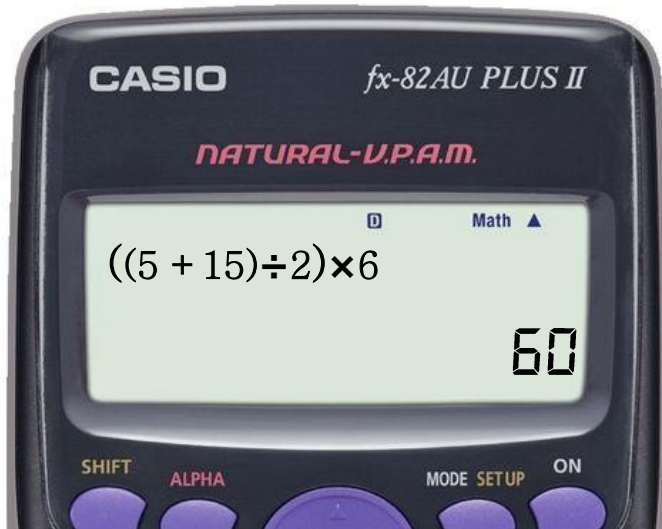
ندخل القيم في الآلة بهذه الطريقة



$$0.5 = \frac{1}{2} \text{ لأن}$$

و على سبيل المثال هذا القانون $S = \frac{U+V}{2} t$

نعوض قيم في هذا القانون $U=5$, $V=15$, $t=6$



لأن القسمة والضرب، يسبقان الجمع والطرح

قال رسول الله صلى الله عليه وسلم (من كتم علماً اللجمتة الله بلجام
من نار يوم القيامة)

كانت هذه مجموعة من الأمثلة المحلولة من درس الحركة في خط
مستقيم، أتمنى من الله العليّ القدير أن تكون قد حازت على
إعجابكم، فإن أصبت فهو من عند الله، وإن أخطأت فإنه من الشيطان .

مع خالص تحياتي،، ناشد محمد احمد

جامعة السودان - كلية الهندسة - هندسة الكترولنيات - حاسوب



<https://www.facebook.com/ALAMBRATOR1>